



SHENJAT E KOMUNIKACIONIT

1.	Gjatë vozitjes në komunikacion në rrugë vozitësit janë të obliguar që: <i>(Rretho dy përgjigje të sakta)</i>	2
	<ul style="list-style-type: none"> a) lëvizjen e automjetit ta përshtatin me vetëvlersim të situatës në komunikacion pa marr parasysh rrezikun për të cilin e paralajmrojnë shenjat e rrezikut, b) ti përmbahen kufizimit, ndalesës dhe detyrimeve të shprehura me shenjat e komunikacionit dhe të vepron në përputhshmëri me kuptimin e tyre, c) të vepron sipas shenjave lajmëruese, d) lëvizjen e automjetit ta përshtatin me vetëvlersim të situatës në komunikacionin pa marr parasysh kufizimin, ndalimin dhe detyrimet e shprehura me shenjat e komunikacionit, e) lëvizjen ta përshtatin me rrezikun për të cilin e paralajmrojnë shenjat e rrezikut. 	

2.	Shenjat e komunikacionit:	2
	<ul style="list-style-type: none"> a) duhet të jenë të shprehura ashtu që përmbajtja e porosive të tyre nuk mund të ndryshohet, b) duhen të jenë të shprehura ashtu që përmbajtja e porosive të tyre mund të ndryshohen pjesërisht apo në tërësi, ku pamja dhe përmbajtja e ndryshuar duhen të i përgjigjen origjinalitetit të shenjës së komunikacionit, c) duhen të jenë të shprehura ashtu që përmbajtja e porosive të tyre mund të ndryshohet pjesërisht apo në tërësi. 	

3.	Shenjat e komunikacionit që janë të shprehura me përmbajtjen e porosive të ndryshuar: <i>(Rretho dy përgjigje të sakta)</i>	2
	<ul style="list-style-type: none"> a) gjithmonë mund të jenë të aktivizuara, b) mund të jenë të aktivizuara sipas nevojës, ose të pa aktivizuara kur nuk paraqitet nevoja për ato shenja, c) patjetër të jenë gjithmonë të aktivizuara, apo të japin porosinë e caktuar, d) patjetër të hiqen kur nuk janë të aktivizuara ose nuk japin porosinë e caktuar. 	

4.	Shenjat e komunikacionit vendosen: <i>(Rretho dy përgjigje të sakta)</i>	2
	<ul style="list-style-type: none"> a) nga ana e djathtë e rrugës, b) nga ana e djathtë ose e majtë rrugës, c) mbajtësin e hekurit në objekt nga ana e djathtë e rrugës apo mbi korsinë e komunikacionit, d) nga ana e majtë e rrugës. 	

5.	Shenjat e komunikacionit vendosen në: <i>(Rretho dy përgjigje të sakta)</i>	2
	<ul style="list-style-type: none"> a) anën e djathtë të rrugës, b) anën e djathtë apo të majtë të rrugës, c) anën e djathtë të rrugës, por nëse egziston rreziku që pjesmarrësit në komunikacion mos ta vrejnjë shenjën, ajo vendoset edhe në anën e majtë të rrugës, d) anën e majtë të rrugës. 	

6.	Vendosja, heqja dhe ndryshimi i kuptimit të shenjës së komunikacionit si dhe pajisjeve të rrugës, pjesmarrësve në komunikacion:	2
	<ul style="list-style-type: none"> a) i lejohet vetëm në rast etiketimit të garazhës dhe vendit hyrës për automjete, b) nuk i lejohet, c) i lejohet vetëm në rastin kur domethënia e shenjave të komunikacionit nuk i përgjigjet situatës në komunikacion. 	

7.	Vendosja e tabelave, shenjave, dritave, shtyllave apo gjërave tjera të ngjashme nga të cilat mund të zvoglohet pamja e shenjës së vendosur të komunikacionit, pjesmarrësve në komunikacion:	2
	<ul style="list-style-type: none"> a) nuk i lejohet, b) i lejohet, vetëm në rastin kur domethënia e shenjës së komunikacionit nuk i përgjigjet situatës së komunikacionit, c) i lejohet kur organi kompetent i administrates lokale ka dhënë leje për vendosjen e sendeve të tilla. 	

8.	Vendosja e sendeve të cilët me trajtën, pamjen, ngjyrën apo me vendin e vendosjes i ngjajnë shenjave të komunikacionit apo i pengojnë pjesmarrësit në komunikacion ose largojnë vëmendjen e tyre në atë masë e cila mund të jetë e rrezikshme për sigurinë në komunikacion, pjesmarrësve në komunikacion:	2
	<ul style="list-style-type: none"> a) nuk i lejohet, b) i lejohet vetëm në rastin e etiketimit të garazhit dhe vendit hyrës për automjete, c) i lejohet kur organi kompetent i administrates lokale ka dhënë leje për vendosjen e sendeve të tilla. 	

9.	Shenjat e komunikacionit janë: <i>(Rretho tri përgjigje të sakta)</i>	2
	<ul style="list-style-type: none"> a) shenjat e rrezikut, b) semafori, c) shenjat e urdhërave të prera, d) shenjat e lajmërimit, e) shenjat rrugore, f) shenjat që jipen nga polici rrugor. 	

10.	Shenjat e komunikacionit interpretohen ashtu që përmbajtja e porosive të tyre:	2
	<ul style="list-style-type: none"> a) nuk guxon të ndërrohet, b) guxon të ndërrohet pjesërisht apo në tërësi, në rastin kur pamja e ndryshuar dhe përmbajtja duhet të i përgjigjen shenjës së caktuar të komunikacionit. 	

11.	Shenjat e komunikacionit me të cilat pjesmarrësve në komunikacionin rrugor i bëhet me dije ndalimi, kufizimi dhe detyrimet të cilave duhet të i përmbahen janë:	2
	<ul style="list-style-type: none"> a) shenjat e rrezikut, b) shenjat e urdhërave të prera, c) shenjat e lajmërimit. 	





12.	Shenjat e komunikacionit që pjesmarrësit në komunikacion i paralajmërojnë për rrezikun i cili kanoset në vendin e caktuar ose në pjesën e rrugës, dhe njoftojnë për natyrën e atij rreziku, janë:	
	a) shenjat e urdhërave të prera, b) shenjat e lajmërimit, c) shenjat e rrezikut.	2

13.	Shenjat e komunikacionit që pjesmarrësve në komunikacion i ofrojnë njoftime të duhura për rrugën në të cilën lëvizin dhe njoftimet tjera që mund të jenë të dobishme janë:	
	a) shenjat e rrezikut, b) shenjat e urdhërave të prera, c) shenjat e lajmërimit.	2

14.	Shenjat e komunikacionit që janë të paraqitura me përmbajtjen e ndryshuar të porosisë: <i>(Rretho dy përgjigje të sakta)</i>	
	a) mund të jenë të aktivizuara gjithmonë, b) mund të jenë të aktivizuara sipas nevojës apo të ç'aktivizuara kur është nevoja, c) gjithmonë duhen të jenë të aktivizuara, përkatsisht kur japin porosinë e caktuar, d) duhet të hiqen kur nuk janë të aktivizuara, përkatsisht nuk japin porosinë e caktuar.	2

15.	Shenjat e rrezikut sipas rregullës vendosen:	
	a) në largësinë prej 150 m deri 250 m para vendit të rrezikut në rrugë, b) pikërisht para vendit të rrezikut në rrugë, c) në largësinë prej 100 m para vendit të rrezikut në rrugë.	3

16.	Shenja e rrezikut e cila është vendosur në rrugë jasht vendbanimit në largësinë më të vogël se 150 m apo më të madhe se 250 m para vendit të rrezikut në rrugë:	
	a) patjetër duhet të ket tabelën shtesë në të cilën është shënuar largësia deri tek vendi i rrezikut, b) patjetër duhet të ket tabelën shtesë në të cilën është shënuar lloji i rrezikut, c) nuk duhet të ketë tabelë shtesë.	3

17.	Shenja e rrezikut e cila është vendosur në rrugë në vendbanim në largësi më të vogël se 150 m para vendit të rrezikut:	
	a) patjetër duhet të ket tabelën shtesë në të cilën është shënuar largësia deri tek vendi i rrezikut, b) patjetër duhet të ketë tabelën shtesë në të cilën është shënuar lloji i rrezikut, c) nuk duhet të ketë tabelë shtesë.	3

18.	Shenja e komunikacionit e paraqitur në foto tregon:	
		
	a) afërsia e kthesës majtas, e rrezikshme për karakteristikat fizike apo dukshmërisë së pamjaftuar, b) kahjen në të cilën automjetet patjetër duhen të lëvizin, c) rrugë njëkahëshe.	3

19.	Shenja e komunikacionit e paraqitur në foto tregon:	
		
	a) kahja në të cilën automjetet patjetër duhet të lëvizin, b) afërsia e kthesës djathtas, e rrezikshme për karakteristikat fizike apo dukshmërisë së pamjaftueshme, c) rrugë njëkahëshe.	3

20.	Shenja e komunikacionit e paraqitur në foto tregon:	
		
	a) afërsia e pjesës së rrugës me më tepër kthesa nga të cilat e para është majtas, b) afërsia e pjesës së rrugës me më tepër kthesa të rrezikshme nga të cilat e para është djathtas, c) afërsia e pjesës së rrugës me më tepër kthesa apo me kthesa të njëpasnjëshme, të cilat janë të rrezikshme sipas karakteristikave fizike apo dukshmërisë së pamjaftueshme.	3

21.	Shenja e komunikacionit e paraqitur në foto tregon:	
		
	a) afërsia e pjesës së rrugës me më tepër kthesa nga të cilat e para është majtas, b) afërsia e pjesës së rrugës me më tepër kthesa të rrezikshme nga të cilat e para është djathtas, c) afërsia e pjesës së rrugës me më tepër kthesa apo me kthesa të njëpasnjëshme, të cilat janë të rrezikshme sipas karakteristikave fizike apo dukshmërisë së pamjaftueshme.	3





22. Shenja e komunikacionit e paraqitur në foto tregon:



- a) afërsia e pjesës së rrugës me më tepër kthesa nga të cilat e para është majtas,
- b) afërsia e pjesës së rrugës me më tepër kthesa të rrezikshme nga të cilat e para është djathtas,
- c) afërsia e pjesës së rrugës me më tepër kthesa apo me kthesa të njëpasnjëshme, të cilat janë të rrezikshme sipas karakteristikave fizike apo dukshmërisë së pamjaftueshme.

3

25. Shenja e komunikacionit e paraqitur në foto tregon:



- a) vendi ku për shkak të mbarimit të korsit të komunikacionit ngushtimit të rrugës dhe zvoglimi i numrit të korsive të komunikacionit, automjetet në mënyrë alternative kyçen në një korsi komunikacioni,
- b) vendi ku kryhen punime në rrugë,
- c) afërsia e ngushtimit të rrugës e cila eventualisht mund të paraqes rrezik.

3

23. Shenja e komunikacionit e paraqitur në foto tregon:



- a) afërsia në vendin ku janë të vendosura elementet për ngadalsim të komunikacionit,
- b) afërsia e teposhtëzës së rrezikshme, nëse dallimi në lartësi paraqet ndonjë rrezik që vjen si pasojë e atyre kushteve,
- c) afërsia e përpjetëzës së rrezikshme, nëse dallimi në lartësi paraqet ndonjë rrezik që vjen si pasojë e atyre kushteve.

3

26. Shenja e komunikacionit e paraqitur në foto tregon:



- a) afërsia në vendin ku janë të vendosur elementet për ngadalsim të komunikacionit,
- b) afërsia e ngushtimit të rrugës nga ana e majtë e cila mund të paraqes rrezik eventual,
- c) afërsia në vendin ku kryhen punime në rrugë.

3

24. Shenja e komunikacionit e paraqitur në foto tregon:



- a) afërsia në vendin ku janë të vendosura elementet për ngadalsim të komunikacionit,
- b) afërsia e teposhtëzës së rrezikshme, nëse dallimi në lartësi paraqet ndonjë rrezik që vjen si pasojë e atyre kushteve,
- c) afërsia e përpjetëzës së rrezikshme, nëse dallimi në lartësi paraqet ndonjë rrezik që vjen si pasojë e atyre kushteve.

3

27. Shenja e komunikacionit e paraqitur në foto tregon:



- a) afërsia e ngushtimit të rrugës nga ana e djathtë e cila mund të paraqes rrezik eventual,
- b) vendi ku për shkak të mbarimit të korsisë së komunikacionit, ngushtimit të rrugës, dhe zvoglimi të numrit të korsive të komunikacionit, automjetet kyçen në mënyrë alternative në një korsi komunikacioni,
- c) vendi ku kryhen punime në rrugë.

3






28. Shenja e komunikacionit e paraqitur në foto tregon:



a) afërsia në vendin në të cilin rruga i afrohet bregdetit,
 b) afërsia në vendin e rrugës me urë lëvizëse,
 c) afërsia e pjesës së rrugës në të cilën në kushtet e caktuara atmosferike apo rrethanave të ngjajshme ka sipërfaqen rrëshqitëse.

3

31. Shenja e komunikacionit e paraqitur në foto tregon:



a) afërsia në pjesën e rrugës jo të rrafshët për shkak të afërsisë së qafës së rrezikshme në rrugë apo gungave të mëdha në rrugë,
 b) afërsia në pjesën e rrugës jo të rrafshët për shkak të vendit të shtypur,
 c) afërsia në pjesën e rrugës jo të rrafshët për shkak të ekzistimit të gungave dhe vendeve të rrezikshme.

3


29. Shenja e komunikacionit e paraqitur në foto tregon:



a) afërsia në vendin në të cilin rruga i afrohet bregdetit,
 b) afërsia në vendin e rrugës me urë lëvizëse,
 c) afërsia e pjesës së rrugës në të cilën në kushtet e caktuara atmosferike apo rrethanave të ngjajshme ka sipërfaqe rrëshqitëse.

3


32. Shenja e komunikacionit e paraqitur në foto tregon:



a) afërsia e pjesës së rrugës jo të rrafshët për shkak të vendit të shtypur,
 b) afërsia e pjesës së rrugës jo të rrafshët për shkak të ekzistimit të gungave dhe vendeve të shtypura,
 c) afërsia e pjesës së rrugës jo të rrafshët për shkak të afrimit të qafës së rrezikshme në rrugë apo gungave të mëdha në rrugë.

3

30. Shenja e komunikacionit e paraqitur në foto tregon:



a) afërsia në pjesën e rrugës jo të rrafshët për shkak të vendit të shtypur,
 b) afërsia në pjesën e rrugës jo të rrafshët për shkak të afërsisë së qafës së rrezikshme në rrugë ose gungë e madhe,
 c) afërsia e pjesës së rrugës jo të rrafshët për shkak të gungave të mëdha dhe vendit të shtypur.

3

33. Shenja e komunikacionit e paraqitur në foto tregon:




a) afërsia në vendin e rrugës që i afrohet bregdetit,
 b) afërsia në pjesën e rrugës me bankinë të paforcuar,
 c) afërsia në pjesën e rrugës në të cilën në kushtet e caktuara atmosferike apo rrethanave të ngjajshme, rruga bëhet e rrëshqitshme.

3






34. Shenja e komunikacionit e paraqitur në foto tregon:



a) afërsia në pjesën e rrugës me zhavor apo gurë të vegjël, ku ekziston rreziku për pjesmarrësit tjerë në komunikacion nga hedhja e gurëve nga rrotat e mjetit,
 b) afërsia në pjesën e rrugës në të cilën ekziston rreziku nga shembja e gurëve apo nga gurët që janë në rrugë,
 c) afërsia në pjesën e rrugës në të cilën bankina buzë rrugës është e pafortuar.

3


37. Shenja e komunikacionit e paraqitur në foto tregon:



a) vendi nga i cili fillon zona e shkollës,
 b) shtegu i veçantë i përcaktuar për këmbësorë dhe ku pjesmarrësve tjerë në komunikacion i ndalohet lëvizja,
 c) afërsia në pjesën e rrugës në të cilën fëmijët shpesh dhe në numër të madh lëvizin (afërsia e shkollës, çerdhës, shesh lojrash.).

3


35. Shenja e komunikacionit e paraqitur në foto tregon:



a) afërsia në pjesën e rrugës me zhavor apo gurë të vegjël, ku ekziston rreziku për pjesmarrësit tjerë në komunikacion nga hedhja e gurëve nga rrotat e mjetit,
 b) afërsia në pjesën e rrugës në të cilën ekziston rreziku nga shembja e gurëve apo nga gurët që janë në rrugë nga ana e majtë,
 c) afërsia në pjesën e rrugës në të cilën bankina është e pafortuar.

3

38. Shenja e komunikacionit e paraqitur në foto tregon:



a) rruga përkatsisht pjesa e rrugës në të cilën ndalohet lëvizja e biçikletave,
 b) afërsia në vendin në të cilën biçiklistët shpesh kyçen apo e kalojnë rrugën,
 c) rruga në të cilën duhet të lëvizin biçiklistët por në të cilën ndalohet lëvizja e pjesmarrësve tjerë në komunikacion.

3


36. Shenja e komunikacionit e paraqitur në foto tregon:



a) afërsia e vendkalimit të shënuar për këmbësorë,
 b) vendi në të cilin është shënuar kalimi i këmbësorve,
 c) shtegu i veçantë i përcaktuar në të cilin këmbësorët duhet të lëvizin dhe ku është ndaluar lëvizja e pjesmarrësve tjerë në komunikacion.

3

39. Shenja e komunikacionit e paraqitur në foto tregon:



a) afërsia në pjesën e rrugës me zhavor apo gurë të vegjël, ku ekziston rreziku për pjesmarrësit tjerë në komunikacion nga hedhja e gurëve nga rrotat e mjetit,
 b) afërsia në pjesën e rrugës ku ekziston rreziku nga shembja e gurëve apo gurëve në rrugë nga ana e djathtë,
 c) afërsia në pjesën e rrugës në të cilën bankina është e pafortuar.

3





40. Shenja e komunikacionit e paraqitur në foto tregon:



a) afërsia në pjesën e rrugës së rrezikshme ku egërsirat shpesh kalojnë përtej rrugës,
 b) afërsia në pjesën e rrugës në të cilën kafshët shtëpiake kalojnë apo lëvizin rrugës,
 c) shtegu në të cilin duhet të lëvizin kalorësit por në të cilin është ndaluar lëvizja e pjesmarrësve tjerë në komunikacion.

3


43. Shenja e komunikacionit e paraqitur në foto tregon:



a) afërsia në udhëkryq apo vendkalim të këmbësorve ku komunikacioni është rregulluar me anë të sinjaleve ndriçuese në komunikacion,
 b) afërsia në pjesën e rrugës përtej hekurudhës në nivel ku komunikacioni është rregulluar me anë të sinjaleve ndriçuese të komunikacionit,
 c) afërsia në vendin ku qasja e automjeteve rregullohet me anë të sinjaleve ndriçuese të komunikacionit.

3

41. Shenja e komunikacionit e paraqitur në foto tregon:



a) afërsia e ngushtimit të rrugës që mund të paraqes rrezik,
 b) vendi ku mbaron korsia e komunikacionit, ngushtimi i rrugës dhe zvoglimi i numrit të korsive të komunikacionit, automjetet në mënyrë alternative rreshtohen në një korsi të komunikacionit,
 c) vendi ku kryhen punime në rrugë.

3


44. Shenja e komunikacionit e paraqitur në foto tregon:



a) pjesën e rrugës përtej së cilës aeroplanët fluturojnë ulët me rastin e zbritjes apo ngritjes,
 b) afërsia e aeroportit ose vendi në aeroportit,
 c) afërsia në pjesën e rrugës në të cilën me erëra anësore të shpeshta të shkaktuara nga fluturimi i aeroplanëve.

3

42. Shenja e komunikacionit e paraqitur në foto tregon:



a) afërsia në pjesën e rrugës përtej hekurudhës në nivel ku komunikacioni është rregulluar me anë të sinjaleve ndriçuese të komunikacionit,
 b) afërsia në vendin ku qasja e automjeteve rregullohet me anë të sinjaleve ndriçuese të komunikacionit,
 c) afërsia në udhëkryq apo vendkalim të këmbësorve ku komunikacioni është rregulluar me anë të sinjaleve ndriçuese në komunikacion.

3

45. Shenja e komunikacionit në foto tregon:



a) afërsia e rrugës në të cilën shpesh ka erëra të forta nga ana e majtë,
 b) afërsia në pjesën e rrugës ku ekziston rreziku i shembjes së gurëve nga ana e majtë,
 c) pjesa e rrugës ku aeroplanët fluturojnë në nivel gjatë zbritjes apo ngritjes.

3



46. Shenja e komunikacionit e paraqitur në foto tregon:



a) afërsia në pjesën e rrugës ku ekziston rreziku nga shembja e gurëve nga ana e djathtë,
 b) pjesa e rrugës ku aeroplanët fluturojnë në nivel gjatë zbritjes apo ngritjes,
 c) afërsia në pjesën e rrugës në të cilën shpesh fryejnë erëra të forta anësore.

3


49. Shenja e komunikacionit e paraqitur në foto tregon:



a) afërsia e kryqëzimit të rrugëve ku asnjëra rrugë nuk është rrugë me përparsi kalimi,
 b) afërsia e udhëkryqit në të cilën rruga me përparsi kalimi kryqëzohet me rrugë dytësore,
 c) afërsia e kalimit përtej hekurudhës në nivel pa mbrojtëse ose gjysmëmbrojtëse.

3


47. Shenja e komunikacionit e paraqitur në foto tregon:



a) ndalohet qasja e automjeteve në pjesën e ngusht të rrugës para se të kalojnë automjetet nga kahja e kundërt,
 b) afërsia në vendin ku qarkullimi zhvillohet në të dy kahjet e komunikacionit,
 c) që në kalimin e ngusht automjeti ka përparsi në raport me automjetin nga kahja e kundërt.

3

50. Shenja e komunikacionit e paraqitur në foto tregon:



a) afërsia e kryqëzimit të rrugës ku rruga me përparsi kalimi kryqëzohet me rrugën dytësore në kënd të drejtë,
 b) afërsia e kryqëzimit të rrugëve ku asnjëra rrugë nuk është rrugë me përparsi kalimi,
 c) afërsia e kalimit përtej hekurudhës në nivel pa mbrojtëse apo gjysmëmbrojtëse.

3

48. Shenja e komunikacionit e paraqitur në foto tregon:



a) vendi ku kryhen punime në rrugë,
 b) afërsia në pjesën e rrugës apo vendi në rrugë në të cilën pjesmarrësve në komunikacion i kanoset rreziku për të cilin nuk është e paraparë shenja e veçantë e rrezikut,
 c) afërsia e udhëkryqit në të cilën vozitësi duhet të i jap përparsi automjeteve që vijnë përballë.

3

51. Shenja e komunikacionit e paraqitur në foto tregon:



a) afërsia e kryqëzimit të rrugëve ku asnjëra rrugë nuk është rrugë me përparsi kalimi,
 b) afërsia në udhëkryq ku rruga me përparsi kalimi kryqëzohet me rrugën dytësore nga ana e majtë,
 c) afërsia në udhëkryq ku rruga me përparsi kalimi bashkohet me rrugën dytësore në kënd të drejtë.

3

52. Shenja e komunikacionit e paraqitur në foto tregon:



a) afërsia e tunelit në rrugë,
b) afërsia e mbikalimit,
c) afërsia e nënkalimit.

3


56. Shenja e komunikacionit e paraqitur në foto tregon:



a) rruga apo pjesa e rrugës në të cilën automjetet duhen të lëvizin gjatë anashkalimit të ishullit për këmbësorë dhe objekteve tjera në rrugë,
b) afërsia e udhëkryqit ku komunikacioni zhvillohet me rrethrotullim,
c) vendi ku ndalohet gjysëmrrrethi.

3

53. Shenja e komunikacionit e paraqitur në foto tregon:



a) afërsia e kryqëzimit të rrugëve ku asnjëra rrugë nuk është rrugë me përparsi kalimi,
b) afërsia e udhëkryqit në të cilën rruga me përparsi kalimi bashkohet me rrugën dytësore në kënd të drejtë nga ana e djathtë,
c) afërsia e udhëkryqit në të cilën rruga me përparsi kalimi kryqëzohet me rrugë dytësore nga ana e djathtë.

3

57. Shenja e komunikacionit e paraqitur në foto tregon:



a) afërsia e vendit ku rruga kalon përtej binarëve të tramvajit në nivel,
b) afërsia e kalimit të rrugës përtej hekurudhës në nivel pa mbrojtëse apo gjysëmmbrojtëse,
c) afërsia e kalimit të rrugës përtej hekurudhës në nivel me mbrojtëse apo gjysëmmbrojtëse.

3

54. Shenja e komunikacionit e paraqitur në foto tregon:



a) afërsia e udhëkryqit ku rruga me përparsi kalimi bashkohet me rrugën dytësore në këndin e mprehtë nga ana e djathtë,
b) afërsia e kryqëzimit të rrugëve ku asnjëra rrugë nuk është rrugë me përparsi kalimi,
c) afërsia e udhëkryqit ku rruga me përparsi kalimi kryqëzohet me rrugë dytësore nga ana e djathtë.

3

58. Shenja e komunikacionit e paraqitur në foto tregon:



a) afërsia e pjesës së rrugës e rrezikshme për shkak të kalimit të egërsirave përtej rrugës,
b) afërsia e pjesës së rrugës ku kafshët shtëpiake kalojnë përtej rrugës apo lëvizin rrugës,
c) shtegut ku lëvizin kalorësit dhe në të cilin është e ndaluar lëvizja e pjesmarrësve tjerë në komunikacion.

3

55. Urdhëresa e shprehur me anë të shenjës së komunikacionit të urdhëresës eksplicite vazhdon prej:

a) vendit ku është e vendosur ajo shenjë,
b) momentin kur vozitësi e vëren shenjën,
c) 150 m prej vendit ku është e vendosur ajo shenjë.

3




59. Shenja e komunikacionit e paraqitur në foto tregon:



a) afërsia e kryqëzimit të rrugës ku asnjëra rrugë nuk ka përparsi kalimi,
 b) afërsia e udhëkryqit ku rruga me përparsi kalimi bashkohet me rrugë dytësore në kënd të mprehtë nga ana e majtë,
 c) afërsia e udhëkryqit ku rruga me përparsi kalimi kryqëzohet me rrugë dytësore nga ana e majtë.

3

62. Shenja e komunikacionit e paraqitur në foto tregon:



a) vendi ku rruga kalon përtej hekurudhës në nivel pa mbrojtëse apo gjysmëmbrojtëse,
 b) afërsia e kalimit të rrugës përtej hekurudhës në nivel pa mbrojtëse apo gjysmëmbrojtëse,
 c) vendin në të cilin rruga kalon përtej hekurudhës në nivel pa mbrojtëse apo gjysmëmbrojtëse me dy apo më tepër palë binarë.

3

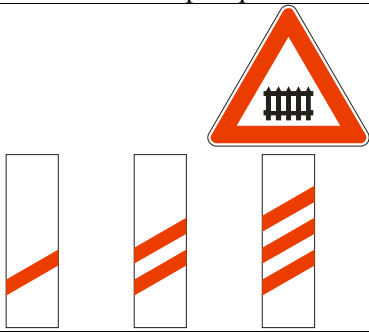
60. Shenja e komunikacionit e paraqitur në foto tregon:



a) afërsia e kalimit të rrugës përtej hekurudhës në nivel pa mbrojtëse apo gjysmëmbrojtëse,
 b) vendi ku gjindet stacioni i tramvajit,
 c) afërsia e vendit në të cilin rruga kalon përtej udhës së tramvajit në nivel.

3

63. Shenja e komunikacionit e paraqitur në foto tregon:



a) largësia deri tek kalimi i rrugës përtej hekurudhës në nivel pa mbrojtëse apo gjysmëmbrojtëse,
 b) afërsia e vendit në të cilin rruga kalon përtej udhës së tramvajit në nivel,
 c) largësia deri tek kalimi i rrugës përtej hekurudhës në nivel me mbrojtëse apo gjysmëmbrojtëse.

3

61. Shenja e komunikacionit e paraqitur në foto tregon:



a) afërsia e vendit në të cilin rruga kalon përtej udhës së tramvajit në nivel,
 b) afërsia e kalimit të rrugës përtej hekurudhës në nivel pa mbrojtëse apo gjysmëmbrojtëse,
 c) afërsia e kalimit të rrugës përtej hekurudhës në nivel pa mbrojtëse apo gjysmëmbrojtëse.

3

64. Shenja e urdhëresës eksplicite vendoset:


a) në largësi prej 150 m deri 250 m para vendit në rrugë prej ku pjesmarrësit në komunikacion janë të detyruar ti përmbahen urdhërave të shenjës së komunikacionit,
 b) në largësi prej 100 m para vendit në rrugë prej ku pjesmarrësit në komunikacion janë të detyruar të i përmbahen urdhërave të shenjës së komunikacionit,
 c) pikërisht para vendit në rrugë prej ku pjesmarrësit në komunikacion janë të detyruar ti përmbahen urdhërave të shenjës së komunikacionit.

3







65. Shenja e komunikacionit e paraqitur në foto tregon:



a) largësia prej 280 m deri tek kalimi i rrugës përtej hekurudhës në nivel,
 b) largësia prej 240 m deri tek kalimi i rrugës përtej hekurudhës në nivel,
 c) largësia prej 160 m deri tek kalimi i rrugës përtej hekurudhës në nivel.

3



68. Shenja e komunikacionit e paraqitur në foto tregon:

a) largësia deri tek kalimi i rrugës përtej hekurudhës në nivel me mbrojtëse apo gjysmëmbrojtëse,
 b) largësia deri tek kalimi i rrugës përtej hekurudhës në nivel pa mbrojtëse apo gjysmëmbrojtëse,
 c) afërsia e vendit ku rruga kalon përtej udhës së tramvajit në nivel.

3


66. Shenja e komunikacionit e paraqitur në foto tregon:

a) largësia prej 280 m deri tek kalimi i rrugës përtej hekurudhës në nivel me mbrojtëse apo gjysmëmbrojtëse,
 b) largësia prej 240 m deri tek kalimi i rrugës përtej hekurudhës në nivel me mbrojtëse apo gjysmëmbrojtëse,
 c) largësia prej 160 m deri tek kalimi i rrugës përtej hekurudhës në nivel me mbrojtëse apo gjysmëmbrojtëse.

3

69. Shenja e komunikacionit e paraqitur në foto tregon:



a) afërsia e pjesës së rrugës ku ekziston rreziku nga shembja e gurëve apo gurëve në rrugë,
 b) afërsia e pjesës së rrugës ku bankina buzë rrugës është e paforcuar,
 c) afërsia e pjesës së rrugës me zhavor apo gurë të vegjël dhe kur për pjesmarrësit tjerë në komunikacion ekziston rreziku për hedhjen e gurëve.

3

67. Shenja e komunikacionit e paraqitur në foto tregon:



a) rrugën, përkatsisht pjesën e rrugës në të cilën automjetet duhen të lëvizin në kolonë,
 b) afërsia në pjesën e rrugës ku ekziston rreziku nga dendësia në komunikacion,
 c) rruga apo pjesa e rrugës në të cilën është e ndaluar lëvizja e automjeteve në kolonë.

3

70. Urdhëresa e prerë e paraqitur me shenjën e komunikacionit në foto vlenë:




a) në vendin ku është vendosur shenja,
 b) pas vendit ku është vendosur shenja deri tek vija më e afërt të rrugës së tërthortë,
 c) pas vendit ku është vendosur shenja.

3




71. Shenja e komunikacionit e paraqitur në foto tregon:



a) largësia prej 240 m, deri tek kalimi i rrugës përtej hekurudhës në nivel,
 b) largësia prej 160 m, deri tek kalimi i rrugës përtej hekurudhës në nivel,
 c) largësia prej 80 m, deri tek kalimi i rrugës përtej hekurudhës në nivel.

3


74. Urdhëresa e prerë e paraqitur me shenjën e komunikacionit në foto vlenë:



a) prej vendit ku është vendosur shenja,
 b) prej vendit ku është vendosur shenja në gjatësi prej 200 m,
 c) në largësi pres 200 m nga vendi ku është vendosur shenja.

3


72. Shenja e komunikacionit e paraqitur në foto tregon:



a) vendi ku rruga kalon përtej hekurudhës në nivel pa mbrojtëse apo gjysmëmbrojtëse, me dy apo më shumë pale binarë,
 b) afërsia e kalimit të rrugës përtej hekurudhës në nivel pa mbrojtëse apo gjysmëmbrojtëse,
 c) vendi ku rruga kalon përtej hekurudhës në nivel pa mbrojtëse apo gjysmëmbrojtëse me një pale binarë.

3


75. Urdhëresa e prerë e paraqitur me shenjën e komunikacionit në foto vlenë:



a) prej vendit ku është vendosur shenja,
 b) prej vendit ku është vendosur shenja në gjatësi prej 200 m,
 c) në largësi prej 200 m nga vendi ku është vendosur shenja.

3


73. Shenja e komunikacionit e paraqitur në foto tregon:



a) rrugë ose pjesë e rrugës në të cilën është i ndaluar qarkullimi i të gjithë automjeteve, përveç për motoçikletë pa rimorkio dhe mopedit,
 b) rrugë ose pjesë e rrugës në të cilën është i ndaluar qarkullimi i automjeteve nga kahja kah është e drejtuar shenja,
 c) rrugë apo pjesë e rrugës në të cilën është i ndaluar qarkullimi në të dy kahjet.

3


76. Shenja e komunikacionit e paraqitur në foto tregon:



a) vendin para hyrjes në udhëkryq ku vozitësi duhet ta ndalojë automjetin dhe ti jap përparsi kalimi automjeteve të ciltë qarkullojnë rrugës në të cilën ai kyçet,
 b) afërsinë e udhëkryqit ku vozitësi patjetër duhet ti jap përparsi kalimi automjeteve të ciltë qarkullojnë rrugës në të cilën ai kyçet,
 c) rrugë apo pjesë e rrugës në të cilën është i ndaluar qarkullimi në të dy kahjet.

3

77. Shenja e komunikacionit e paraqitur në foto tregon:




a) vendin para hyrjes në udhëkryq ku vozitësi duhet ta ndalojë automjetin dhe ti japë përparsi kalimi automjeteve të cilët qarkullojnë rrugës në të cilën ai kyçet,
 b) afërsia e udhëkryqit ku vozitësi patjetër duhet ti japë përparsi kalimi automjeteve që lëvizin rrugës në të cilën ai kyçet,
 c) rrugë ose pjesë e rrugës ku ndalohet qarkullimi i automjeteve nga kahja kah është e kthyer shenja. **3**

80. Shenja e komunikacionit e paraqitur në foto tregon:



a) rrugë apo pjesë e rrugës ku qarkullimi ndalohet për autobus,
 b) rrugë apo pjesë e rrugës ku qarkullimi ndalohet për të gjitha automjetet përveç veturave,
 c) vendi ku është stacioni i autobusave. **3**

78. Shenja e komunikacionit e paraqitur në foto tregon:




a) rrugë apo pjesë e rrugës ku ndalohet qarkullimi për të gjitha automjetet, përveç motoçikletës me rimorkio dhe moped,
 b) rrugë apo pjesë e rrugës ku ndalohet qarkullimi i automjeteve në kahjen ku është vendosur shenja,
 c) rrugë apo pjesë e rrugës ku ndalohet qarkullimi për të gjitha automjetet në të dy kahjet. **3**

81. Shenja e komunikacionit e paraqitur në foto tregon:




a) rrugë apo pjesë e rrugës ku duhet të qarkullojnë automjetet transportuese,
 b) rrugë apo pjesë e rrugës ku ndalohet qarkullimi për automjetet të cilat bartin eksploziv apo materiet që ndizen lehtë,
 c) rrugë apo pjesë e rrugës ku ndalohet qarkullimi për automjetet transportuese. **3**

79. Shenja e komunikacionit e paraqitur në foto tregon:



a) rrugë apo pjesë e rrugës ku ndalohet qarkullimi për të gjitha automjetet përveç për motoçikleta pa rimorkio dhe moped,
 b) rrugë apo pjesë e rrugës ku ndalohet qarkullimi për të gjitha automjetet, përveç veturave,
 c) rrugë apo pjesë e rrugës ku ndalohet qarkullimi i veturave. **3**

82. Shenja e komunikacionit e paraqitur në foto tregon:




a) rrugë apo pjesë e rrugës ku ndalohet qarkullimi për motoçikleta, triçikletat e rënda dhe katërçikletat e rënda,
 b) rrugë apo pjesë e rrugës ku ndalohet qarkullimi për biçikleta,
 c) rrugë apo pjesë e rrugës ku ndalohet qarkullimi për mopedin, triçikletat dhe katërçikletat e lehta. **3**


83.	Urdhëresa e prerë e paraqitur me shenjën e urdhëresave të prera të vendosura në rrugë vlejné:	
	<ul style="list-style-type: none"> a) deri tek udhëkryqi i pare i radhës, përkatsisht deri tek vendi ku është vendosur shenja lajmruese për ndërprerjen e asaj urdhërese të prerë, b) 250 m nga vendi ku është vendosur shenja, c) deri tek vendi ku është vendosur shenja lajmruese për ndërprerjen e asaj urdhërese të prerë, pa marr parasysh a ka udhëkryq deri në atë vend. 	3

86.	Shenja e komunikacionit e paraqitur në foto tregon:	
		
	<ul style="list-style-type: none"> a) vendi ku ndalohet gjysëmrrrethi, b) kahja në të cilën automjetet patjetër duhet të lëvizin, c) kryqëzimi ku ndalohet kthimi majtas. 	3


84.	Shenja e komunikacionit e paraqitur në foto tregon:	
		
	<ul style="list-style-type: none"> a) rrugë apo pjesë e rrugës ku ndalohet qarkullimi për motoçikleta, triçikleta dhe katërçikleta të rënda, b) rrugë apo pjesë e rrugës ku ndalohet qarkullimi për biçikleta, c) rrugë apo pjesë e rrugës ku ndalohet qarkullimi për mopedin, triçikletë dhe katërçikletë të lehtë. 	3

87.	Shenja e komunikacionit e paraqitur në foto tregon:	
		
	<ul style="list-style-type: none"> a) rrugë apo pjesë e rrugës ku ndalohet qarkullimi për të gjitha automjetet, b) rrugë apo pjesë e rrugës ku ndalohet qarkullimi për të gjitha automjetet dhe për qerret, c) rrugë apo pjesë e rrugës ku lejohet qarkullimi vetëm për vetura, motoçikleta dhe qerre. 	3

85.	Shenja e komunikacionit e paraqitur në foto tregon:	
		
	<ul style="list-style-type: none"> a) rrugë apo pjesë e rrugës ku ndalohet tejkalimi i të gjitha automjeteve, përveç automjeteve transportuese dhe autobusave, b) rrugë apo pjesë e rrugës ku ndalohet tejkalimi i të gjitha automjeteve përveç motoçikletave pa rimorkio, mopedit, triçikletës dhe katërçikletës së lehtë, c) rrugë apo pjesë e rrugës ku ndalohet tejkalimi i të gjitha automjeteve përveç grup automjetesh. 	3

88.	Shenja e komunikacionit e paraqitur në foto tregon:	
		
	<ul style="list-style-type: none"> a) rruga ku patjetër duhet të lëvizin biçikletat, dhe në të cilën ndalohet lëvizja e pjesmarrësve tjerë në komunikacion, b) rrugë apo pjesë e rrugës ku ndalohet qarkullimi për biçikleta, c) vendi ku mbaron ndalimi i qarkullimit të biçikletave. 	3


89. Shenja e komunikacionit e paraqitur në foto tregon:



a) rrugë apo pjesë e rrugës ku ndalohet qarkullimi për të gjitha automjetet,
 b) rrugë apo pjesë e rrugës ku ndalohet qarkullimi për të gjitha automjetet përveç automjeteve transportuese dhe autobusat,
 c) rrugë apo pjesë e rrugës ku lejohet qarkullimi vetëm për vetura dhe motoçikleta.

3


92. Shenja e komunikacionit e paraqitur në foto tregon:



a) rrugë apo pjesë e rrugës ku ndalohet qarkullimi për automjetet, lartësia e tërsishme e të cilëve kalon lartësinë e shënuar me shenjë,
 b) rrugë apo pjesë e rrugës ku ndalohet qarkullimi për automjetet, gjërsia e tërsishme e të cilëve kalon gjërsinë e shënuar me shenjë,
 c) rrugë apo pjesë e rrugës ku ndalohet qarkullimi për automjetet ose grup automjetet tek të cilët gjatsia kalon gjatsinë e shënuar me shenjë.

3

90. Shenja e komunikacionit e paraqitur në foto tregon:



a) rrugë apo pjesë e rrugës ku ndalohet qarkullimi për automjetet lartësia e përgjithshme e të cilëve kalon lartësinë e shënuar me shenjën e komunikacionit,
 b) rrugë apo pjesë e rrugës ku ndalohet qarkullimi për automjetet gjërsia e përgjithshme e të cilëve kalon gjërsinë e shënuar me shenjën e komunikacionit,
 c) rrugë apo pjesë e rrugës ku ndalohet qarkullimi për automjetet, ose grup automjeteve ku gjatsia e përgjithshme e tyre kalon gjatsinë e shënuar me shenjë.

3

93. Shenja e komunikacionit e paraqitur në foto tregon:



a) vendi ku ndalohet gjysëmrrrethi,
 b) kryqëzimi kur ndalohet kthimi djathtas,
 c) kahje në të cilën automjetet duhet të lëvizin.

3


91. Shenja e komunikacionit e paraqitur në foto tregon:



a) vendi ku ndalohet gjysëmrrrethi,
 b) kryqëzimi ku ndalohet kthimi majtas,
 c) ndalohet hyrja e automjetit në rrugë para se të kalojnë automjetet nga kahja e kundërt.

3


94. Shenja e komunikacionit e paraqitur në foto tregon:



a) rrugë apo pjesë e rrugës ku automjetet në kushte normale duhen të qarkullojnë më së paku me atë shpejtësi të shënuar me shenjë,
 b) rrugë apo pjesë e rrugës ku automjetet nuk guxojnë të lëvizin me shpejtësi më të madhe se e shënuara në shenjë,
 c) shpejtësia e cila rekomandohet në pjesën e caktuar të rrugës.

3


95. Shenja e komunikacionit e paraqitur në foto tregon:



a) afërsia e doganes, përkatsisht vendi ku automjetet duhet të ndalen për arsyen e shënuar me shenjë,
 b) afërsia e policisë, përkatsisht vendi ku automjetet patjetër duhet të ndalen për arsyen e shënuar me shenjë,
 c) afërsia e vendit për pagesën e shfrytëzimit të rrugës, përkatsisht vendit ku automjeti duhet të ndalet për arsyen e shënuar me shenjë.

3


98. Shenja e komunikacionit e paraqitur në foto tregon:



a) rrugë apo pjesë e rrugës ku ndalohet qarkullimi për automjetet të cilët transportojnë materie që mund të shkaktojnë ndotje ujore,
 b) rrugë apo pjesë e rrugës ku ndalohet qarkullimi për automjetet që transportojnë eksplozivë apo materiet të cilat ndizen me lehtësi,
 c) rrugë apo pjesë e rrugës ku ndalohet qarkullimi për automjetet transportuese.

3


96. Shenja e komunikacionit e paraqitur në foto tregon:



a) ndalimi i qasjes së automjetit në pjesën e ngushtë të rrugës para se të kalojnë automjetet nga kahja e kundërt,
 b) njofton vozitësin se në kalimin e ngushtë ke përparsi kalimi në raport me automjetet që vijnë nga kahja e kundërt,
 c) afërsia e rrugës ku ndalohet nga pjesa e rrugës ku qarkullimi zhvillohet vetëm në një kahje në pjesë të rrugës ku përkohësisht apo vazhdimisht komunikacioni zhvillohet në dy kahje.

3


99. Shenjat e komunikacionit e paraqitur në foto tregon:



a) rrugë apo pjesë e rrugës ku ndalohet qarkullimi për automjetet që transportojnë eksplozivë apo materie që ndizen me lehtësi,
 b) rrugë apo pjesë e rrugës ku ndalohet qarkullimi për automjetet që bartin ngarkesa të rrezikshme,
 c) rrugë apo pjesë e rrugës ku ndalohet qarkullimi për automjetet transportuese.

3


97. Shenja e komunikacionit e paraqitur në foto tregon:



a) rrugë apo pjesë e rrugës ku ndalohet qarkullimi për automjetet që transportojnë materiet që mund të shkaktojnë ndotje ujore,
 b) rrugë apo pjesë e rrugës ku ndalohet qarkullimi për automjetet që transportojnë eksploziv apo materiet që ndizen me lehtësi,
 c) rrugë apo pjesë e rrugës ku ndalohet qarkullimi për automjetet transportuese.

3

100. Shenja e komunikacionit e paraqitur në foto tregon:



a) rrugë apo pjesë e rrugës ku ndalohet qarkullimi për automjetet motorike që tërhiqen rimorkio përveç gjysëm-rimorkios,
 b) rrugë apo pjesë e rrugës ku ndalohet qarkullimi për automjetet motorike që tërheqin rimorkio,
 c) rrugë apo pjesë e rrugës ku ndalohet qarkullimi për automjetet transportuese.

3



101. Shenja e komunikacionit e paraqitur në foto tregon:



- a) rrugë apo pjesë e rrugës ku ndalohet qarkullimi për automjetet motorike që tërheqin rimorkio përveç gjysëm-rimorkio,
- b) rrugë apo pjesë e rrugës ku ndalohet qarkullimi për automjetet motorike që tërheqin rimorkion,
- c) rrugë apo pjesë e rrugës ku ndalohet qarkullimi për automjetet transportuese.

3

104. Shenja e komunikacionit e paraqitur në foto tregon:



- a) rrugë apo pjesë e rrugës ku ndalohet qarkullimi për karrocë dore,
- b) rrugë apo pjesë e rrugës ku ndalohet qarkullimi për këmbësorë,
- c) rrugë apo pjesë e rrugës ku patjetër duhet të lëvizin këmbësorët që shtynjë karrocën e dorës.

3

102. Shenja e komunikacionit e paraqitur në foto tregon:



- a) rrugë apo pjesë e rrugës ku ndalohet qarkullimi për të gjitha automjetet,
- b) rrugë apo pjesë e rrugës ku duhet të qarkullojnë traktorët,
- c) rrugë apo pjesë e rrugës ku ndalohet qarkullimi për traktorët.

3

105. Shenja e komunikacionit e paraqitur në foto tregon:



- a) rrugë apo pjesë e rrugës ku ndalohet qarkullimi për këmbësorë,
- b) afërsia e vendit në rrugë ku është i shënuar kalimi për këmbësorë,
- c) shtegu i veçantë ku këmbësorët patjetër duhet të lëvizin dhe ku ndalohet lëvizja e pjesmarrësve tjerë në komunikacion.

3

103. Shenja e komunikacionit e paraqitur në foto tregon:



- a) rrugë apo pjesë e rrugës ku ndalohet qarkullimi për automjetet motorike dhe qerret,
- b) rrugë apo pjesë e rrugës ku ndalohet qarkullimi për qerret,
- c) rrugë apo pjesë e rrugës ku ndalohet lëvizja e kafshëve.

3

106. Shenja e komunikacionit e paraqitur në foto tregon:




- a) rrugë apo pjesë e rrugës ku lejohet qarkullimi për autobus, traktor dhe qerre,
- b) rrugë apo pjesë e rrugës ku ndalohet qarkullimi për të gjitha automjetet,
- c) rrugë apo pjesë e rrugës ku ndalohet qarkullimi për llojet e automjeteve të paraqitura në shenjë.

3




107. Shenja e komunikacionit e paraqitur në foto tregon:



a) rrugë apo pjesë e rrugës ku ndalohet qarkullimi për automjetet që lartsia e përgjithshme kalon lartsinë e shënuar me shenjë,
 b) rrugë apo pjesë e rrugës ku ndalohet qarkullimi për automjetet që gjërsia e përgjithshme kalon gjërsinë e shënuar me shenjë,
 c) rrugë apo pjesë e rrugës ku ndalohet qarkullimi për automjetet, përkatsisht grup automjetet që gjatsia e përgjithshme kalon gjatsinë e shënuar me shenjë. **3**

110. Shenja e komunikacionit e paraqitur në foto tregon:



a) rrugë apo pjesë e rrugës ku ndalohet qarkullimi për automjetet dhe grup automjetesh ku pesha e përgjithshme kalon peshën e shënuar me shenjë,
 b) rrugë apo pjesë e rrugës ku ndalohet qarkullimi për automjetet apo grup automjetesh ku pesha e përgjithshme maksimale e lejuar kalon peshën e shënuar me shenjë,
 c) rrugë apo pjesë e rrugës ku ndalohet qarkullimi për automjetet me ngarkesë boshtore më të madhe se ngarkesa e paraqitur me shenjë. **3**

108. Shenja e komunikacionit e paraqitur në foto tregon:




a) ana e rrugës ku ndalohet parkimi i automjeteve,
 b) pjesa e rrugës ku ndalohet parkimi në ditët çiftë,
 c) pjesa e rrugës ku ndalohet parkimi në ditët tekë. **3**

111. Shenja e komunikacionit e paraqitur në foto tregon:




a) distanca më e vogël e automjeteve në lëvizje të cilës vozitësit duhet ti përmbahen,
 b) largsia më e madhe mes automjeteve në lëvizje të cilës vozitësit duhen ti përmbahen,
 c) largsia më e vogël mes automjeteve në lëvizje të cilës vozitësit duhen ti përmbahen. **3**

109. Shenja e komunikacionit e paraqitur në foto tregon:




a) rrugë apo pjesë e rrugës ku ndalohet qarkullimi për automjetet ose grup automjetesh tek të cilët pesha tejkalon peshën e shënuar me shenjë,
 b) rrugë apo pjesë e rrugës ku ndalohet qarkullimi për automjetet me ngarkesë boshtore më të madhe se ngarkesa e shënuar me shenjë,
 c) rrugë apo pjesë e rrugës ku ndalohet qarkullimi për automjetet ku gjërsia kalon gjërsinë e shënuar me shenjë. **3**

112. Shenja e komunikacionit e paraqitur në foto tregon:



a) afërsia e doganës, apo vendi ku automjeti duhet të ndalet për arsyen e shënuar me shenjë,
 b) afërsia e policisë, apo vendi ku automjeti duhet të ndalet për arsyen e shënuar me shenjë,
 c) afërsia e vendit për pagesën e shfrytëyimit të rrugës apo vendi ku automjeti duhet të ndalet për arsyen e shënuar me shenjë. **3**


113. Shenja e komunikacionit e paraqitur në foto tregon:



a) rrugë apo pjesë e rrugës ku ndalohen që automjetet transportuese me peshë maksimale të lejuar kalon 3,5 t të ciltë tejkalojnë automjetet tjera përveç automjeteve transportues dhe autobusa,
 b) rrugë apo pjesë e rrugës ku ndalohen që të gjithë automjetet transportuese të tejkalojnë automjetet tjera përveç motoçikletës pa rimorkio, mopedit, triçikletës dhe katërçikletës së lehtë,
 c) rrugë apo pjesë e rrugës ku ndalohet që automjetet transportuese me peshë maksimale të lejuar 3,5 t të tejkalojnë automjetet tjera përveç motoçikletës pa rimorkio, mopedit, triçikletës dhe katërçikletës së lehtë.

3

116. Shenja e komunikacionit e paraqitur në foto tregon:



a) afërsia e doganës, përkatsisht vendi ku automjeti patjetër duhet të ndalet për arsyen e shënuar me shenjë,
 b) afërsia e policisë apo vendi ku automjeti patjetër duhet të ndalet për arsyen e shënuar me shenjë,
 c) afërsia e vendit të pagesës për shfrytëzimin e rrugës ku automjeti duhet të ndalet për arsyen e shënuar me shenjë.

3

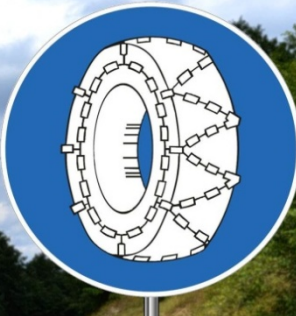
114. Shenja e komunikacionit e paraqitur në foto tregon:



a) rrugë apo pjesë e rrugës ku ndalohen sinjalet e zëshme përveç në rastin e rrezikut të drejtëpërdrejtë,
 b) vendi prej ku mbaron ndalesa e përdorimit të sinjaleve të zëshme,
 c) vendi në të cilin mbaron destinacioni i rëndësisë historike kulturore.

3

117. Shenja e komunikacionit e paraqitur në foto tregon:



a) pjesa e rrugës ku automjetet, përveç motoçikletës, mopedit, triçikletave të lehta dhe të rënda, katërçikletave të lehta dhe të rënda, makinave të punës, traktorit dhe motokultivatorit, duhen që patjetër ti përdorin zinxhirët e borës kur në rrugë ka borë,
 b) pjesa e rrugës ku të gjithë automjetet motorike duhen ti përdorin zinxhirët e borës,
 c) pjesa e rrugës ku të gjithë automjetet duhen ti përdorin zinxhirët e borës apo ti kenë gomat e dimrit.

3


115. Shenja e komunikacionit e paraqitur në foto tregon:



a) ana e rrugës ku ndalohet parkimi i automjetit,
 b) pjesa e rrugës ku ndalohet parkimi në ditët çiftë,
 c) pjesa e rrugës ku ndalohet parkimi në ditët tekë.

3

118. Shenja e komunikacionit e paraqitur në foto tregon:



a) rrugë njëkahëshe,
 b) kahje në të cilën automjetet patjetër duhet të lëvizin,
 c) njoftim për pjesmarrësit në komunikacion për rrugën njëkahëshe.

3



119. Shenja e komunikacionit e paraqitur në foto tregon:



- a) rrugë ku ndaras lëvizin biçiklistët në shtegun e tyre dhe këmbësorët në shtegun e tyre,
- b) rrugë ku lëvizin ndaras biçiklistët ose vozitësit e mopedit dhe këmbësorët, në shtigjet e tyre,
- c) rrugë ku mund të shfrytëzohet vetëm nga biçiklistët ose vozitësit e mopedit dhe këmbësorët.

3

122. Shenja e komunikacionit e paraqitur në foto tregon:



- a) vendin ku gjindet kalimi për këmbësorë,
- b) afërsia e vendit në rrugë ku gjindet kalimi për këmbësorë,
- c) shtegu i veçantë ku këmbësorët patjetër duhet të lëvizin dhe ku ndalohet lëvizja e pjesmarrësve tjerë në komunikacion.

3

120. Shenja e komunikacionit e paraqitur në foto tregon:



- a) afërsia e pjesës së rrugës e rrezikshme për shkak të kalimit të egërsirave përtej rrugës,
- b) afërsia e pjesës së rrugës ku kafshët shtëpiake kalojnë apo lëvizin rrugës,
- c) shtegu në të cilin patjetër duhet të lëvizin kalorësit, dhe në të cilin ndalohet lëvizja e pjesmarrësve tjerë në komunikacion.

3

123. Shenja e komunikacionit e paraqitur në foto tregon:



- a) rrugë njëkahëshe,
- b) afërsia e kthesës së djathtë të rrezikshme,
- c) kahje në të cilën automjetet patjetër duhet të lëvizin.

3

121. Shenja e komunikacionit e paraqitur në foto tregon:



- a) rruga apo pjesa e rrugës ku ndalohet qarkullimi për biçikleta,
- b) afërsia e vendit ku biçiklistët shpesh kyçen në rrugë apo kalojnë përtej,
- c) shtegu ku patjetër duhet të lëvizin biçiklistët ndërsa është e ndaluar lëvizja për pjesmarrësit tjerë në komunikacion.

3

124. Shenja e komunikacionit e paraqitur në foto tregon:




- a) rrugë apo pjesa e rrugës së cilës automjetet patjetër duhet të qarkullojnë gjatë anashkalimit të sheshit për këmbësorë, sheshit të orientimit për qarkullim dhe objekteve tjera në rrugë,
- b) vazhdimi i rrugës njëkahëshe,
- c) vendi ku gjindet nënkallimi për automjete.

3




125. Shenja e komunikacionit e paraqitur në foto tregon:



a) vendi ku gjindet nënkalimi për automjete,
b) vazhdimi i rrugës njëkahëshe,
c) rrugë apo pjesë e rrugës në të cilën automjetet patjetër duhet të lëvizin gjatë anashkalimit të sheshit për këmbësorë, sheshit për orientimin e qarkullimit dhe objekteve tjera në rrugë.

3


128. Shenja e komunikacionit që tregon vendin për hyrje në kryqëzim ku vozitësi është i obliguar ta ndaloj automjetin dhe ti jap përparsi kalimi automjeteve të cilët qarkullojnë rrugës ku ai kyçet është:



a) b) c)

3

129. Shenja e komunikacionit e cila tregon afërsinë e kryqëzimit ku vozitësi patjetër duhet ti jap përparsi kalimi automjeteve të cilët qarkullojnë rrugës ku ai kyçet është:



a) b) c)

3


126. Shenja e komunikacionit e paraqitur në foto tregon:



a) anë e rrugës ku ndalohet parkimi ndërsa lejohet ndalja,
b) anë e rrugës ku ndalohet ndalja dhe parkimi i automjetit,
c) pjesa e rrugës ku ndalohet ndalja dhe parkimi i automjeteve.

3

130. Shenja e komunikacionit e paraqitur në foto tregon:



a) rrugë apo pjesa e rrugës ku automjetet në kushte normale patjetër duhet të lëvizin së paku me atë shpejtësi (km/h) e cila tregohet me shenjë,
b) rrugë apo pjesa e rrugës ku automjetet nuk guxojnë të lëvizin me shpejtësi më të madhe se shpejtësia e treguar me shenjë,
c) shpejtësia e cila rekomandohet në pjesën e caktuar të rrugës.

3

127. Shenja e komunikacionit e paraqitur në foto tregon:



a) anë e rrugës ku ndalohet parkimi,
b) anë e rrugës ku ndalohet ndalja dhe parkimi i automjetit,
c) pjesë e rrugës ku ndalohet parkimi.

3

131. Shenja e komunikacionit e paraqitur në foto tregon:



a) kahja në të cilën automjetet patjetër duhet të lëvizin,
b) rrugë njëkahëshe,
c) njoftim për pjesmarrësit e komunikacionit për rrugë njëkahëshe.

3

132. Shenja e komunikacionit e paraqitur në foto tregon:




a) rrugë ose pjesë e rrugës ku automjetet mund të lëvizin gjatë anashkalimit të sheshit për këmbësorë, sheshit për orientim të komunikacionit dhe objekteve tjerë në rrugë,
 b) vazhdimi i rrugëve njëkahëshe,
 c) kahjet në të cilat lejohet qarkullimi i automjeteve. **3**

135. Shenja e komunikacionit e paraqitur në foto tregon:




a) kahje në të cilën automjetet patjetër duhet të lëvizin,
 b) rrugë njëkahëshe,
 c) afërsia në kthesën e majtë të rrezikshme. **3**

133. Shenja e komunikacionit e paraqitur në foto tregon:




a) afërsia e kryqëzimit ku qarkullimi zhvillohet në rrethrotullim,
 b) afërsia e kryqëzimit ku kryqëzohen tri rrugë me nga një kahje për lëvizje,
 c) rrugë ose pjesë e rrugës në të cilën automjetet patjetër duhet të lëvizin gjatë anashkalimit të ishullit për orientim të komunikacionit. **3**

136. Shenja e komunikacionit e paraqitur në foto tregon:




a) vazhdimi i rrugëve njëkahëshe,
 b) kahje në të cilat automjetet mund të lëvizin,
 c) rrugë ose pjesë e rrugës në të cilën automjetet duhet të lëvizin gjatë anashkalimit të ishullit të këmbësorve, ishullit për orientim në komunikacion dhe objektet tjerë në rrugë. **3**

134. Shenja e komunikacionit e paraqitur në foto tregon:




a) afërsia e kryqëzimit ku kryqëzohen dy rrugë njëkahëshe,
 b) vazhdimi i rrugëve njëkahëshe,
 c) rrugë ose pjesë e rrugës në të cilën automjetet mund të lëvizin gjatë anashkalimit të ishullit të këmbësorve, ishullit për orientim në komunikacion dhe objektet tjerë në rrugë. **3**

137. Shenja e komunikacionit e paraqitur në foto tregon:



a) ndalohet qasja e automjetit në pjesën e rrugës së ngusht para se aty kalojnë automjetet nga kahja e kundërt,
 b) njoftim për vozitësin që në kalimin e ngushtë ka përparsi kalimi në raport me automjetin e kahjes së kundërt,
 c) afërsia e vendit ku kalohet nga pjesa e rrugës ku qarkullimi zhvillohet në një kahje në pjesën e rrugës ku qarkullimi zakonisht zhvillohet në dy kahje. **2**

138. Shenja e komunikacionit e paraqitur në foto tregon:



a) rrugë ose pjesë e rrugës në të cilën automjetet patjetër duhet të lëvizin gjatë anashkalimit të ishullit të këmbësorve, ishullit për orientim në komunikacion dhe objektet tjerë në rrugë,
 b) vazhdimi i rrugës njëkahëshe,
 c) kahjet në të cilat automjetet mund të lëvizin.

3

142. Shenja e komunikacionit e paraqitur në foto tregon:



a) numri i rrugës ndërkombëtare,
 b) numri i rrugës regjionale,
 c) numri i rrugës magjistrale.

2

139. Shenja e komunikacionit e paraqitur në foto tregon:



a) rrugë njëkahëshe,
 b) njoftim për pjesmarrësit në komunikacion për rrugë njëkahëshe,
 c) kahje në të cilën automjetet patjetër duhet të lëvizin.

3

143. Shenja e komunikacionit e paraqitur në foto tregon:



a) vendi ku gjindet nënkalmi apo mbikalimi për këmbësorë,
 b) vendi ku gjindet kalimi i shënuar për këmbësorë,
 c) afërsia e vendit ku në rrugë ku gjindet kalimi i këmbësorëve.

2

140. Shenja e komunikacionit e paraqitur në foto tregon:



a) rruga ose pjesë e rrugës ku ndalohet lëvizja për këmbësorët,
 b) vendi ku gjindet kalimi i shënuar për këmbësorë,
 c) afërsia e vendit në rrugë ku gjindet kalimi i këmbësorve.

2

144. Shenja e komunikacionit e paraqitur në foto tregon:



a) vendi ku mbaron vendbanimi nëpër të cilin kalon rruga,
 b) vendi ku mbaron vendbanimi dhe prej ku nuk vlejnjë rregullat e komunikacionit,
 c) vendi ku mbaron destinacioni apo objekti me vlerë turistike historike.


2

141. Me qëllim që pjesmarrësve në komunikacion ti ofrohen lajmrime për orientim, lajmrime për rreshtim dhe për kahjet e lëvizjes, si dhe shënimi i objekteve, rrugëve apo pjesëve të rrugëve vendosen:

a) me shenjat e urdhërave të prera,
 b) me shenjat e rrezikut,
 c) me shenjat e lajmrimit.

2

145. Shenja e komunikacionit e paraqitur në foto tregon:



a) numri i rrugës,
b) numri i pjesës së rrugës,
c) stacionimi i rrugës.

2


148. Shenja e komunikacionit e paraqitur në foto tregon:



a) afërsia e vendit ku gjindet mbikalimi,
b) vendi ku mbaron autoudha,
c) afërsia e vendit ku mbaron rruga.

2

146. Shenja e komunikacionit e paraqitur në foto tregon:



a) numri i rrugës,
b) numri i pjesës së rrugës,
c) stacionimi i rrugës ose largësia nga fillimi i asaj rruge deri tek shenja e vendosur.

2

149. Shenja e komunikacionit e paraqitur në foto tregon:



a) vendi ku mbaron destinacioni kulturor historik,
b) rrugë apo pjesë e rrugës ku automjeteve i ndalohet përdorimi i sinjaleve me zë, përveç në rastet e rrezikut të drejtpërdrejtë,
c) vendi ku mbaron ndalimi i përdorimit të sinjaleve me zë.

2

147. Shenja e komunikacionit e paraqitur në foto tregon:



a) vendi ku mbaron parkimi për vetura,
b) vendi ku mbaron motoudha,
c) vendi ku mbaron autoudha.

2


150. Shenja e komunikacionit e paraqitur në foto tregon:



a) numri i rrugës, numri i pjesës së rrugës dhe stacionimi i rrugës,
b) largësia nga kufiri deri tek vendi ku është shenja,
c) largësia deri tek mbarimi i rrugës ku qarkullon automjeti.

2

151. Shenja e komunikacionit e paraqitur në foto tregon:



a) vendi në rrugë prej ku mbaron ndalimi i përdorimit të pajisjeve dimrore,
 b) vendi në rrugë prej ku fillon ndalimi i përdorimit të pajisjeve dimrore,
 c) vendi në rrugë prej ku mbaron përdorimi i detyrueshëm i zinxhirëve të borës që është rregulluar me anë të shenjës së komunikacionit të vendosur në atë pjesë të rrugës.

2

154. Shenja e komunikacionit e paraqitur në foto tregon:



a) vendi në rrugë ku mbaron shtegu i kalorësve,
 b) vendi në rrugë ku mbaron zona e komunikacionit të ngadalsuar,
 c) vendi ku mbaron pjesa e rrugës ku kafshët shtëpiake kalojnë apo lëvizin në rrugë.

2

152. Shenja e komunikacionit e paraqitur në foto tregon:



a) afërsia e vendit ku biçiklistët shpesh kyçen apo kalojnë përtej rrugës,
 b) vendi në rrugë ku mbaron shtegu i biçikletave,
 c) rrugë ose pjesë e rrugës ku ndalohet lëvizja për biçikleta.

2

155. Shenja e komunikacionit e paraqitur në foto tregon:



a) vendi në rrugë ku mbarojnë shtegu për biçikleta dhe këmbësorë,
 b) rrugë ku lëvizin ndaras biçiklistët dhe këmbësorët,
 c) vendi ku mbaron zona e komunikacionit të ngadalsuar.

2

153. Shenja e komunikacionit e paraqitur në foto tregon:



a) vendi në rrugë ku mbaron zona e komunikacionit të ngadalsuar,
 b) vendi në rrugë ku mbaron zona për këmbësorë,
 c) vendi në rrugë ku mbaron shtegu i këmbësorëve.

2

156. Shenja e komunikacionit e paraqitur në foto tregon:



a) vendi në vendbanim prej ku fillon zona në të cilën kufizohet kohëzgjatja e parkimit, pa marr parasysh nëse parkimi paguhet ose jo,
 b) anën e rrugës ku ndalohet parkimi i automjeteve,
 c) anën e rrugës ku ndalohet ndalja dhe parkimi.

2



157. Shenja e komunikacionit e paraqitur në foto tregon:



- a) garazhi me vendparkime,
- b) vend parkim ku parkimi është me kohë të caktuar,
- c) vend parkim.

2

160. Shenja e komunikacionit e paraqitur në foto tregon:



- a) garazh me vendparkime,
- b) vendparkim në të cilin parkimi i automjeteve është me kohë të kufizuar,
- c) vendparkim.

2

158. Shenja e komunikacionit e paraqitur në foto tregon:



- a) ana e rrugës ku mbaron ndalimi për parkim të automjetit,
- b) ana e rrugës ku mbaron ndalja dhe parkimi,
- c) vendi në vendbanim në të cilin dilet nga zona në të cilën është kufizuar kohëzgjatja e parkimit në kohë të caktuar.

2

161. Shenja e komunikacionit e paraqitur në foto tregon:



- a) garazh me vend parkim,
- b) vend parkim ku parkimi është me kohë të caktuar,
- c) vend parkim ku automjeti mund të parkohet edhe udhëtimi të vazhdohet me ndonjë mjet tjetër transporti të shënuar me anë të simboleve.

2

159. Shenja e komunikacionit e paraqitur në foto tregon:



- a) garazh me vendparkime,
- b) vendparkim në të cilin parkimi i automjeteve është me kohë të kufizuar,
- c) vend parkimi ku automjetet mund të parkohen dhe udhëtimin ta bëjnë me ndonjë mjet tjetër të simbolizuar.

2

162. Shenja e komunikacionit e paraqitur në foto tregon:




- a) vendi ku është puntoria për riparimin e automjeteve,
- b) afërsia e vendit apo vendi ku është objekti për kryerjen e kontrollit teknik,
- c) afërsia e vendit apo vendi ku është shërbimi për ndihmë në rast prishjeje të automjetit.

2



163. Shenja e komunikacionit e paraqitur në foto tregon:



a) afërsia e spitalit dhe paralajmrimi për vozitësin që me automjet mos të bëj zhurmë të madhe,
 b) afërsia e vendit apo vendi ku është ndihma e shpejtë,
 c) afërsia e vendit apo vendi ku është shtëpia e shëndetit ku bëhen kontrollimet mjeksore për vozitësit.

2


166. Shenja e komunikacionit e paraqitur në fotot tregon:



a) afërsia e vendit apo vendi ku është pompa e derivateve,
 b) afërsia e vendit apo vendi ku është kabina telefonike,
 c) afërsia e vendit apo vendi ku mund të mirren informacione turistike.

2

164. Shenja e komunikacionit e paraqitur në foto tregon:



a) afërsia e vendit apo vendi ku është kabina telefonike,
 b) afërsia e vendit apo vendi ku mund të merren informacione turistike,
 c) afërsia e vendit apo vendi ku mund të shfrytëzoni telefonin gjatë vozitjes.

2


167. Shenja e komunikacionit e paraqitur në foto tregon:



a) afërsia e vendit apo vendi ku është hoteli ose moteli,
 b) afërsia e vendit apo vendi ku është restorani,
 c) afërsia e vendit apo vendi ku është kafeteria.

2

165. Shenja e komunikacionit e paraqitur në foto tregon:



a) afërsia e spitalit dhe paralajmrim për vozitësit që me automjet të mos bëjnë zhurmë të madhe,
 b) afërsia e vendit apo vendi ku është ndihma e shpejt,
 c) afërsia e vendit apo vendi ku është shtëpia e shëndetit ku bëhen kontrollime shëndetsore për vozitësit.

2

168. Shenja e komunikacionit e paraqitur në foto tregon:



a) afërsia e vendit apo vendi ku është hoteli ose moteli,
 b) afërsia e vendit apo vendi ku janë të vendosur elementet për ngadalsim të komunikacionit,
 c) afërsia e vendit apo vendi ku është tereni për kamping.

2



169. Shenja e komunikacionit e paraqitur në foto tregon:



- a) afërsia e vendit apo vendi ku është tereni i rregulluar për shetitës,
- b) afërsia e terrenit apo tereni i rregulluar për kamping nën tenda,
- c) afërsia e vendit apo vendi ku është shtëpia malore.

2

172. Shenja e komunikacionit e paraqitur në foto tregon:



- a) afërsia e vendit apo vendi ku është tereni i rregulluar për shetitës,
- b) afërsia e terrenit apo tereni për kamping në rimorkio,
- c) afërsia e terrenit apo tereni për kamping nën tenda dhe rimorkio.

2

170. Shenja e komunikacionit e paraqitur në foto tregon:



- a) afërsia e vendit apo vendi ku është hoteli apo moteli,
- b) afërsia e vendit apo vendi ku është restorani,
- c) afërsia e vendit apo vendi ku është kafeteri.

2

173. Shenja e komunikacionit e paraqitur në foto tregon:



- a) afërsia e vendit ku është puntoria për riparimin e automjeteve,
- b) afërsia e vendit apo vendi ku është objekti për kryerjen e kontrollit teknik të automjetit,
- c) afërsia e vendit apo vendi ku është shërbimi i cili ofron ndihmë në rast prishjeje të automjetit.

2

171. Shenja e komunikacionit e paraqitur në foto tregon:



- a) afërsia e vendit apo vendi ku është tereni i rregulluar për shetitës,
- b) afërsia e terrenit apo tereni i rregulluar për kamping nën tendë,
- c) afërsia e vendit apo vendi ku është shtëpia malore.

2

174. Shenja e komunikacionit e paraqitur në foto tregon:



- a) afërsia e vendit apo vendi ku është tereni i rregulluar për shetitës,
- b) afërsia e terrenit apo tereni për kamping në rimorkio,
- c) afërsia e terrenit apo tereni për kamping nën tenda dhe rimorkio.

2



175. Shenja e komunikacionit e paraqitur në foto tregon:




a) afërsia e vendit apo vendi ku është tereni i rregulluar për shëtitësit,
 b) afërsia e terrenit apo tereni i rregulluar për kamping nën tenda,
 c) afërsia e vendit apo vendi ku është shtëpia malore. **2**

178. Shenja e komunikacionit e paraqitur në foto tregon:



a) afërsia e vendit ku rruga i afrohet bregdetit apo bregut të lumit,
 b) afërsia e vendit ku në rrugë është ura lëvizëse,
 c) afërsia e portit detar ose trageteve apo vendit ku gjendet porti përkatsisht tragei. **2**

176. Shenja e komunikacionit e paraqitur në foto tregon:



a) afërsia e vendit apo vendi ku është shërbimi i zjarrfikësve,
 b) afërsia e vendit apo vendi ku është e obliguar shuarja e zjarrit me anë të aparatit përkatës i cili është pjesë përbërëse e pajisjeve të automjetit,
 c) afërsia e vendit apo vendi ku është aparati për shuarjen fillestare të zjarrit. **2**

179. Shenja e komunikacionit e paraqitur në foto tregon:



a) afërsia e vendit ku rruga kalon përtej binarëve të tramvajit në nivel,
 b) afërsia e vendit ku rruga kalon përtej hekurudhës në nivel,
 c) vendi ku gjindet stacioni i tramvajit. **2**

177. Shenja e komunikacionit e paraqitur në foto tregon:



a) korsi e komunikacionit e cila është dedikuar vetëm për lëvizjen e automjeteve për bartjen e udhëtarëve,
 b) vendi ku gjindet stacioni i autobusave,
 c) vendi ku është stacioni i tramvajit. **2**

180. Shenja e komunikacionit e paraqitur në foto tregon:



a) që rruga malore ose kailimi gjatë majës malore është i hapur apo i mbyllur,
 b) emri i objektit në rrugë me rëndësi të veçant,
 c) emri i qafës malore. **2**

181. Shenja e komunikacionit e paraqitur në foto tregon:



a) afërsia e aeroportit apo vendi i aeroportit,
b) pjesa e rrugës ku aeroplanët fluturojnë në nivel të ulët gjatë uljes dhe ngritjes,
c) afërsia e pjesës së rrugës ku shpesh ka erëra anësore të shkaktuara nga fluturimi i aeroplanit. **2**

185. Shenja e komunikacionit e paraqitur në foto tregon:




a) afërsia e vendit apo vendi ku gjindet stacioni policor,
b) afërsia e kryqëzimit ku komunikacioni është rregulluar nga polici rrugor,
c) afërsia e vendit ku ndalohet kalimi pa lejën e policit rrugor. **2**

182. Shenja e komunikacionit e paraqitur në foto tregon:



a) numri i serpentinave me lartësi mbidetare,
b) numri i objektit rrugor me rëndësi të veçantë me lartësi mbidetare (viadukt, tunel etj),
c) numri i qafës malore me lartësi mbidetare. **2**

186. Shenja e komunikacionit e paraqitur në foto tregon:




a) afërsia e kryqëzimit ku vozitësi duhet ti jap përparsi kalimi automjeteve të cilët qarkullojnë në rrugën ku ai kyçet,
b) vendi para hyrjes në kryqëzim ku vozitësi duhet ta ndaloj automjetin dhe ti jap përparsi automjeteve që lëvizin në rrugën ku ai kyçet,
c) rrugë apo pjesë e rrugës në të cilën automjetet kanë përparsi kalimi në raport me automjetet që qarkullojnë rrugëve që kryqëzohen me këtë rrugë apo pjesën e rrugës. **2**

183. Shenja e komunikacionit e paraqitur në foto tregon:




a) emërtimi i lumit përtej së cilit kalon rruga,
b) emërtimi i objektit rrugor me rëndësi të veçantë,
c) emërtimi i destinacionit turistik. **2**

187. Shenja e komunikacionit e paraqitur në foto tregon:



a) vendi ku mbaron rruga apo pjesa e rrugës me përparsi kalimi,
b) njoftimi i pjesmarrësve në komunikacion për rrugë njëkahëshe,
c) rrugë apo pjesë e rrugës në të cilën automjetet kanë përparsi kalimi në raport me automjetet që qarkullojnë rrugëve që kryqëzohen me këtë rrugë apo pjesën e rrugës. **2**

184. Shenja e komunikacionit e paraqitur në foto tregon:



a) emërtimi i objektit rrugor me rëndësi të veçantë dhe largësia e tij nga shenja e komunikacionit,
b) emërtimi i objektit rrugor me rëndësi të veçantë (vijadukti, tuneli, etj),
c) emërtimi i objektit rrugor me rëndësi të veçantë dhe lartësia e tij mbidetare. **2**

188. Shenja e komunikacionit e paraqitur në foto tregon:




a) emërtimi i qafës malore me gjatësinë e rrugës së qafës,
 b) emërtimi i objektit rrugor me rëndësi të veçantë me lartësi mbidetare (vijadukt,tunel etj),
 c) qafa malore me lartësi mbidetare. **2**

191. Shenja e komunikacionit e paraqitur në foto tregon:



a) njoftimi i pjesmarrësve në komunikacionin për rrugë njëkahëshe,
 b) kahje ku ndalohet lëvizja e automjeteve,
 c) kahje në të cilën automjetet duhet të lëvizin. **2**

189. Shenja e komunikacionit e paraqitur në foto tregon:



a) rrugë apo pjesë e rrugës ku automjetet në kushte normale duhen të lëvizin minimalisht me shpejtësinë e shënuar me shenjë,
 b) rrugë apo pjesë e rrugës ku automjetet nuk guxojnë të lëvizin me shpejtësi më të madhe se ajo e shënuar me shenjë,
 c) shpejtësia e cila rekomandohet në pjesën e caktuar të rrugës. **2**

192. Shenja e komunikacionit e paraqitur në foto tregon:



a) njoftimi i pjesmarrësve në komunikacionin për rrugë njëkahëshe,
 b) kahje ku ndalohet lëvizja e automjeteve,
 c) kahje në të cilën automjetet duhet të lëvizin. **2**

190. Shenja e komunikacionit e paraqitur në foto tregon:




a) emërtimi i rrugicës,
 b) emërtimi i destinacionit turistik,
 c) afërsia e vendit ku është objekti kulturor historik. **2**

193. Shenja e komunikacionit e paraqitur në foto tregon:



a) njoftim paraprak për vozitësit për radhitje në kryqëzim në rrugë me shumë korsi komunikacioni,
 b) afërsia dhe pozicioni i rrugës pa dalje (rrugë qorre),
 c) afërsia e vendit apo vendi ku është ndihma e shpejtë. **2**


194. Shenja e komunikacionit e paraqitur në foto tregon:



a) afërsia e kthesës në të majtë, e rrezikshme për shkak të karakteristikave fizike apo dukshmërisë së pamjaftueshme,
 b) rrugë njëkahëshe,
 c) vendi i kthesës së ngushtë.

2

198. Shenja e komunikacionit e paraqitur në foto tregon:



a) vendi i kthesës së ngushtë,
 b) afërsia në pjesën e rrugës me më shumë kthesa të rrezikshme prej të cilave e para është djathtas,
 c) afërsia e kthesës djathtas e rrezikshme për shkak të karakteristikave fizike dhe dukshmërisë së pamjaftueshme.

2

195. Shenja e komunikacionit e paraqitur në foto tregon:



a) vendi i kthesës së ngushtë,
 b) rrugë njëkahëshe,
 c) afërsia e kthesës në të djathtë, e rrezikshme për shkak të karakteristikave fizike apo dukshmërisë së pamjaftueshme.

2

199. Shenja e komunikacionit e paraqitur në foto tregon:



a) korsa e komunikacionit e dedikuar vetëm për autobusa,
 b) vendi ku është stacioni i autobusave,
 c) korsa e komunikacionit e dedikuar vetëm për qarkullim të automjeteve për transportin publik të udhëtarëve.

2

196. Shenja e komunikacionit e paraqitur në foto tregon:



a) afërsia e kthesës majtas e rrezikshme për shkak të karakteristikave fizike dhe dukshmërisë së pamjaftueshme,
 b) vendi i kthesës së ngushtë,
 c) afërsia në pjesën e rrugës me më shumë kthesa të rrezikshme prej të cilave e para është majtas.

2

200. Shenja e komunikacionit e paraqitur në foto tregon:



a) vendi ku mbaron korsa e komunikacionit e dedikuar për autobusa,
 b) korsa e komunikacionit ku ndalohet qarkullimi i autobusave,
 c) vendi ku mbaron korsa e komunikacionit e dedikuar për qarkullim të automjeteve për transportin publik të udhëtarëve.

2

197. Shenja e komunikacionit e paraqitur në foto tregon:



a) vendi i daljes nga autoudha,
 b) vendi i daljes nga objekti rrugor,
 c) vendi i daljes nga tuneli në rast rreziku.

2


201. Shenja e komunikacionit e paraqitur në foto tregon:



a) vendi prej ku fillon zona e shkollës,
 b) afërsia e pjesës së rrugës ku fëmijët shpesh dhe në numër të madhë lëvizin (afërsia e shkollës, çerdhës etj),
 c) vendi në të cilin është afër shkolla dhe vendkalimi i këmbësorëve shfrytëzohet shpesh nga fëmijët.

2


204. Shenja e komunikacionit e paraqitur në foto tregon:



a) fillimi i korsisë së komunikacionit ku automjeti nuk guxon të lëvizin me shpejtësi më të madhe se e shënuara me shenjë,
 b) fillimi i korsisë së komunikacionit së cilës patjetër duhen të lëvizin automjetet, shpejtësia e të cilave është më e vogël se shpejtësia e shënuar me shenjë,
 c) vendi ku mbaron korsia së cilës duhet të lëvizin automjetet që zhvillojnë shpejtësi më të vogël nga ajo e shënuar me shenjë.

2


202. Shenja e komunikacionit e paraqitur në foto tregon:



a) kufizimi i përgjithshëm i shpejtësisë më të madhe të lejuar në Republikën e Serbisë sipas llojit të rrugës, dhe përdorimi i obliguar i dritareve,
 b) njoftim mbi shpejtësinë e cila rekomandohet në rrugët e Republikës së Serbisë, në kushtet normale të komunikacionit dhe me dritat e ndezura,
 c) njoftim mbi kufizimin e shpejtësisë mesatare të qarkullimit sipas llojit të rrugëve në Republikën e Serbisë dhe përdorimi i obliguar i dritave.

2

205. Shenja e komunikacionit e paraqitur në foto tregon:



a) vendi ku mbaron korsia së cilës duhet të lëvizin automjetet që zhvillojnë shpejtësi më të vogël nga ajo e shënuar me shenjë,
 b) fillimi i korsisë së komunikacionit së cilës duhen të lëvizin automjetet të cilët lëvizin me shpejtësi më të vogël se ajo në shenjë,
 c) vendi ku mbaron korsia së cilës duhen të lëvizin automjetet që zhvillojnë shpejtësi më të madhe nga ajo e shënuar me shenjë.

2

203. Shenja e komunikacionit e paraqitur në foto tregon:



a) emërtimi i objektit rrugor me rëndësi të veçantë dhe largësia prej shenjës së komunikacionit deri tek objekti,
 b) vendi i daljes nga rruga deri tek objekti i caktuar për shumë qëllime,
 c) vendi i objektit të dedikuar për shumë qëllime, përmbajtja e të cilëve është shënuar me piktograme.

2

206. Shenja e komunikacionit e paraqitur në foto tregon:



a) kahja e lëvizjes deri tek objekti me rëndësi të veçantë,
 b) vendi i daljes nga rruga deri tek objekti për shërbime të ndryshme,
 c) arritja tek objekti për shërbime të ndryshme, përmbajtja e të cilit është paraqitur në shenjë.

2

207. Shenja e komunikacionit e paraqitur në foto tregon:



a) fillimi i zonës së dedikuar enkas për lëvizjen e këmbësorëve,
 b) vendi prej ku fillon zona e shkollës,
 c) vendi prej ku fillon shtegu i këmbësorëve.

2

211. Shenja e komunikacionit e paraqitur në foto tregon:



a) fillimi i zonës së dedikuar enkas për lëvizjen e këmbësorëve,
 b) vendi prej ku fillon zona e shkollës,
 c) vendi prej ku fillon zona për komunikacion të ngadalsuar.

2

208. Shenja e komunikacionit e paraqitur në foto tregon:



a) mbarimi i zonës së këmbësorëve,
 b) mbarimi i zonës së shkollës,
 c) vendi ku mbaron zona për komunikacion të ngadalsuar.

2

212. Shenja e komunikacionit e paraqitur në foto tregon:



a) mbarimi i zonës ku kufizimi i shpejtësisë së lëvizjes së automjetit është deri 30 km/h,
 b) vendi ku mbaron zona e komunikacionit të ngadalsuar,
 c) vendi ku mbaron zona e shkollës.

2


209. Shenja e komunikacionit e paraqitur në foto tregon:



a) mbarimi i zonës së shkollës,
 b) mbarimi i shtegut të këmbësorëve,
 c) mbarimi i zonës së këmbësorëve.

2

213. Shenja e komunikacionit e paraqitur në foto tregon:



a) afërsia në pjesën e rrugës jo të rrafshët për shkak të qafës së rrezikshme apo gungave në rrugë,
 b) afërsia në pjesën e rrugës jo të rrafshët për shkak të gungave dhe gropave në rrugë,
 c) arritja pikërisht në vendin ku janë vendosur elementet për ngadalsim të komunikacionit.

2

210. Shenja e komunikacionit e paraqitur në foto tregon:



a) zona ku shpejtësia e lëvizjes së automjeteve është e kufizuar deri 30 km/h,
 b) vendi prej ku fillon zona e shpejtësisë së ngadalsuar,
 c) vendi prej ku fillon zona e shkollës.

2

214. Shenja e komunikacionit e paraqitur në foto tregon:



a) vendi ku gjindet nënkalmimi dhe mbikalimi për këmbësor,
 b) dalja për këmbësorë në rast rreziku,
 c) afërsia tek objekti i dedikuar për rekreacion dhe aktivitete sportive nga ana e majtë e rrugës.

2

217. Shenja e komunikacionit e paraqitur në foto tregon:



a) vendi ku mbaron pjesa e rrugës ku fëmijët shpesh dhe në numër të madhë lëvizin,
 b) mbarimi i zonës së shkollës,
 c) vendi ku mbaron zona e komunikacionit të ngadalsuar.

2

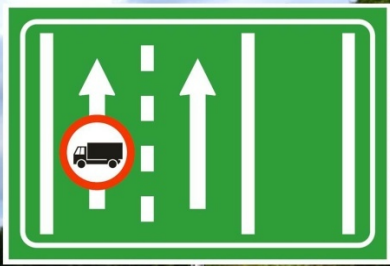
215. Shenja e komunikacionit e paraqitur në foto tregon:



a) arritja tek pjesa e veçantë e rrugës së rrezikshme dhe gjatësia e asaj pjese,
 b) arritja tek vendi i rrezikshëm në rrugë dhe largësia nga shenja e komunikacionit,
 c) largësia deri tek dalja nga rruga për të anashkaluar pjesën e rrezikshme të rrugës.

2

218. Shenja e komunikacionit e paraqitur në foto tregon:



a) korsa e caktuar e komunikacionit nuk është e dedikuar për lëvizjen e llojit të caktuar të automjeteve simboli i të cilëve është paraqitur në foto,
 b) korsa e caktuar e komunikacionit është e dedikuar për lëvizjen e llojit të caktuar të automjeteve simboli i të cilëve është i paraqitur në foto,
 c) në atë pjesë të rrugës ndalohet lëvizja e llojit të automjeteve simboli i të cilëve është paraqitur foto.

2


216. Shenja e komunikacionit e paraqitur në foto tregon:



a) afërsia në pjesën e rrugës ku fëmijët shpesh dhe në numër të madhë lëvizin,
 b) vendi prej ku fillon zona e shkollës,
 c) vendi prej ku fillon zona e komunikacionit të ngadalsuar.

2

219. Shenja e komunikacionit e paraqitur në foto tregon:



a) afërsia në pjesën e rrugës ku egziston rreziku për shkak të ngulfatjes në komunikacion,
 b) afërsia tek ngushtimi i rrugës që mund të paraqes rrezikun eventual,
 c) ku për shkak të mbarimit të korsisë së komunikacionit, ngushtimit të rrugës dhe zvoglimit të numrit të korsive të komunikacionit, automjetet në mënyrë alternative kyçen në një korsi të komunikacionit.

2


220. Shenja e komunikacionit e paraqitur në foto tregon:



a) afërsia në rrugën ku gjindet mbikalimi në rrugë,
b) vendi ku mbaron autoudha,
c) vendi ku fillon autoudha.

2

224. Shenja e komunikacionit e paraqitur në foto tregon:



a) fillimi i pjesës së rrugës në të cilën bëhet kontrolli i shpejtësisë së lëvizjes së automjetit,
b) fillimi i pjesës së rrugës në të cilën është patjetër të rrespektohet shpejtësia maksimale e lejuar e lëvizjes së automjeteve,
c) fillimi i pjesës së rrugës në të cilën është patjetër të rrespektohet shpejtësia maksimale e lejuar e lëvizjes së automjeteve, kur vozitësit që vijnë nga kahja e kundërt japin shenjen ndriçuese të parajamrimit.

2


221. Shenja e komunikacionit e paraqitur në foto tregon:



a) dalja për këmbësorë në rast rreziku,
b) afërsia e objektit të dedikuar për rekreacion dhe aktivitete sportive nga ana e djathtë e rrugës,
c) vendi ku është nënkalimi dhe mbikalimi për këmbësorë.

2

225. Shenja e komunikacionit e paraqitur në foto tregon:



a) rruga në të cilën automjetet patjetër duhet të lëvizin nëse kanë për qëllim të bëjnë kthim majtas në kryqëzimin e ardhshëm në të cilin ndalohet kthimi majtas,
b) kryqëzimi në të cilin ndalohet kthimi majtas,
c) kahja e lëvizjes duke anashkaluar vendit në të cilin kryhen punime.

2

222. Shenja e komunikacionit e paraqitur në foto tregon:



a) largësia deri tek objekti i dedikuar për rekreacion dhe aktivitete sportive nga ana e majtë e rrugës,
b) dalja për këmbësorë në rast rreziku,
c) kahja ku gjindet dalja në rast rreziku dhe largësia deri tek dalja.

2

226. Shenja e komunikacionit e paraqitur në foto tregon:



a) drejtimi i rrugës deri tek vendi i caktuar apo objekti karakteristik,
b) njoftim paraprak për vozitësin për tu rreshtuar në kryqëzimin e rrugëve me më shumë korsi komunikacioni,
c) konfirmimi i drejtimit të lëvizjes pas kalimit të kryqëzimit.

2

223. Shenja e komunikacionit e paraqitur në foto tregon:



a) dalja për këmbësorë në rast rreziku,
b) kahja ku gjindet dalja në rast rreziku dhe largësia deri tek dalja,
c) largësia deri tek objekti i dedikuar për rekreacion dhe aktivitete sportive nga ana e majtë e rrugës.

2



227. Shenja e komunikacionit e paraqitur në foto tregon:



- a) vendi ku fillon motoudha,
- b) vend parkim për vetura,
- c) vendi prej ku fillon autoudha.

2

230. Shenja e komunikacionit e paraqitur në foto tregon:



- a) vendi ku mbaron vendbanimi nëpër të cilin kalon rruga,
- b) vendi ku mbaron vendbanimi dhe prej ku mbaron zbatimi i rregullave të komunikacionit në atë vendbanim,
- c) vendi ku mbaron vendi i caktuar apo objekti me vlerë turistike apo historike.

2

228. Shenja e komunikacionit e paraqitur në foto tregon:



- a) territori apo emërtimi i vendbanimit në të cilin fillon rruga dhe vendi prej ku fillon ai vendbanim,
- b) vendi prej ku fillon vendbanimi dhe prej ku fillon zbatimi i rregullave të komunikacionit në atë vendbanim,
- c) vendi i caktuar apo objekti me vlerë turistike apo historike.

2

231. Shenja e komunikacionit e paraqitur në foto tregon:



- a) vendi me shenjën e vendosur të komunikacionit ku mbaron ndalimi i tejkalimit të të gjithë automjeteve motorike, përveç motoçikletës pa rimorkio, mopedit, triçikletave dhe katërçikletave të lehta,
- b) rrugë apo pjesë e rrugës ku ndalohet tejkalimi i të gjitha automjeteve motorike përveç motoçikletave pa rimorkio, mopedit, triçikletave dhe katërçikletave të lehta,
- c) vendi prej ku mbaron ndalimi i tejkalimit për automjetet transportuese me peshën më të madhe të lejuar e cila kalon 3,5 t.

2

229. Shenja e komunikacionit e paraqitur në foto tregon:



- a) vendi prej ku fillon vendbanimi dhe prej ku fillon zbatimi i rregullave të komunikacionit në atë vendbanim,
- b) territori apo emërtimi i vendbanimit në të cilin fillon rruga dhe vendi prej ku fillon ai vendbanim,
- c) vendi i caktuar apo objekti me vlerë turistike apo historike.

2

232. Shenja e komunikacionit e paraqitur në foto tregon:




- a) vendi prej ku mbaron kufizimi i shpejtësisë,
- b) vendi prej ku mbaron kufizimi i shpejtësisë më të vogël të lejuar sipas rregullave,
- c) vendi prej ku mbaron kufizimi i shpejtësisë e cila rekomandohet për atë pjesë të rrugës.

2



233. Shenja e komunikacionit e paraqitur në foto tregon:




a) vendi me shenjën e vendosur të komunikacionit ku mbaron ndalimi i tejkalimit që automjetet transportuese me peshën më të madhe 3,5 t të tejkalojnë automjetet tjera përveç motoçikletave pa rimorkio, mopedit, triçikletave dhe katërçikletave të lehta,

b) rrugë apo pjesë e rrugës ku ndalohet që automjetet transportuese me peshën maksimale të lejuar 3,5 t të tejkalojnë automjetet tjera përveç motoçikletave pa rimorkio, mopedit, triçikletave dhe katërçikletave të lehta,

c) vendi prej ku mbaron ndalimi i tejkalimit për vetura që tejkalojnë automjetet transportuese.

2

236. Shenja e komunikacionit e paraqitur në foto tregon:



a) pozita reciproke, drejtimet e rrugëve dhe emërtimet e vendeve kah të cilët të çojnë rrugët të cilat kryqëzohen në udhëkryq para se të cilit është e vendosur shenja,

b) njoftim paraprak për vozitësit për rreshtim në kryqëzimin e rrugëve me më shumë korsi komunikacioni,

c) konfirmim i drejtimit të lëvizjes pas kalimit të udhëkryqit.

2

234. Shenja e komunikacionit e paraqitur në foto tregon:




a) vendi ku mbaron kufizimi i shpejtësisë,

b) vendi ku mbaron shpejtësia më e vogël e lejuar,

c) vendi ku mbaron lëvizja me shpejtësinë që rekomandohet në atë pjesë të rrugës.

2

237. Shenja e komunikacionit e paraqitur në foto:




a) njoftim paraprak për vozitësit për rreshtim në kryqëzimin e rrugëve me më shumë korsi komunikacioni,

b) pozita reciproke, drejtimet e rrugëve dhe emërtimet e vendeve kah të cilët të çojnë rrugët të cilat kryqëzohen,

c) konfirmim i drejtimit të lëvizjes pas kalimit të udhëkryqit.

2

235. Shenja e komunikacionit e paraqitur në foto tregon:




a) vendi në rrugë ku mbarojnë të gjithat ndalesat e shënuara me shenjat e mëparshme në atë rrugë,

b) vendi në rrugë ku mbaron zbatimi për të gjitha shenjat e komunikacionit të vendosura në atë pjesë të rrugës,

c) vendi në rrugë ku mbaron zbatimi për të gjitha shenjat e komunikacionit të rrezikut që janë të vendosura në atë pjesë të rrugës.

2

238. Shenja e komunikacionit e paraqitur në foto tregon:



a) pozita reciproke, drejtimet e rrugëve dhe emërtimet e vendeve kah të cilët të çojnë rrugët të cilat kryqëzohen në udhëkryq para se të cilit është vendosur shenja,

b) njoftim paraprak për vozitësit për rreshtim në kryqëzimin e rrugëve me më shumë korsi komunikacioni,

c) konfirmim i drejtimit të lëvizjes pas kalimit të udhëkryqit.

2

239. Shenja e komunikacionit e paraqitur në foto tregon:



a) konfirmim i drejtimit të lëvizjes pas kalimit të udhëkryqit,
b) rrugë njëkahëshe,
c) drejtimi i rrugës drejt tek destinacioni apo objekti karakteristik.

2

242. Shenja e komunikacionit e paraqitur në foto tregon:



a) vendi ku mbaron autoudha,
b) drejtimi i lëvizjes deri tek vendbanimet të shënuara në shenjë,
c) konfirmim i drejtimit të lëvizjes pas kalimit të udhëkryqit.

2

240. Shenja e komunikacionit e paraqitur në foto tregon:



a) drejtimi i rrugës apo rrugëve për në vendbanim apo vendbanime, e shënuar në shenjë dhe e vendosur në kryqëzim të rrugëve,
b) njoftim paraprak për vozitësit për rreshtim në kryqëzimin e rrugëve me më shumë korsi komunikacioni dhe vendoset para kryqëzimit të rrugëve,
c) konfirmim i drejtimit të lëvizjes pas kalimit të udhëkryqit.

2


243. Shenja e komunikacionit e paraqitur në foto tregon:



a) drejtimi i lëvizjes deri tek vendbanimi i shënuar me shenjë,
b) vendi ku mbaron autoudha,
c) konfirmim i drejtimit të lëvizjes pas kalimit të udhëkryqit.

2

241. Shenja e komunikacionit e paraqitur në foto tregon:



a) njoftim paraprak për vozitësit për rreshtim në kryqëzimin e rrugëve me më shumë korsi komunikacioni,
b) pozita reciproke, drejtimet e rrugëve dhe emërtimet e vendeve kah të cilët të çojnë rrugët të cilat kryqëzohen,
c) konfirmim i drejtimit të lëvizjes pas kalimit të kryqëzimit.

2

244. Shenja e komunikacionit e paraqitur në foto tregon:



a) vendi ku mbaron autoudha,
b) konfirmim i drejtimit të lëvizjes pas kalimit të udhëkryqit,
c) drejtimi i lëvizjes deri tek vendbanimi i shënuar me shenjë.

2


245. Shenja e komunikacionit e paraqitur në foto tregon:



a) vendi ku fillon rruga,
b) konfirmim i drejtimit të lëvizjes pas kalimit të udhëkryqit,
c) drejtim i lëvizjes deri tek vendbanimi i shënuar në shenjë.

2


248. Shenja e komunikacionit e paraqitur në foto tregon:



a) njoftim për vozitësit mbi shfrytëzimin e korsisë së komunikacionit për lëvizje deri tek vendbanimi i shënuar në shenjë, njoftim që vendoset përmbi rrugë,
b) konfirmim i drejtimit të lëvizjes pas kalimit të kryqëzimit,
c) njoftim mbi emërtimin e rrugës unazore në të cilën arrijmë.

2


246. Shenja e komunikacionit e paraqitur në foto tregon:



a) njoftim për vozitësit mbi shfrytëzimin e korsisë së komunikacionit për lëvizje deri tek vendbanimi i shënuar në shenjë, njoftim që vendoset përmbi rrugë,
b) konfirmim i drejtimit të lëvizjes pas kalimit të udhëkryqit,
c) njoftim mbi emërtimin e rrugës unazore në të cilën arrijmë.

2


249. Shenja e komunikacionit e paraqitur në foto tregon:



a) pozita e drejtimeve në rrugë deri tek vendbanimet e shënuara në shenjë,
b) konfirmim i drejtimit të lëvizjes pas kalimit të kryqëzimit,
c) njoftim mbi emërtimin e rrugës unazore në të cilën arrijmë.

2

247. Shenja e komunikacionit e paraqitur në foto tregon:



a) njoftim për vozitësit mbi shfrytëzimin e korsisë së komunikacionit për lëvizje deri te vendbanimi i shënuar me shenjë, njoftim që shënohet përmbi rrugë,
b) konfirmim i drejtimit të lëvizjes pas kalimit të udhëkryqit,
c) njoftim mbi emërtimin e rrugës unazore në të cilën arrijmë.

2

250. Shenja e komunikacionit e paraqitur në foto tregon:



a) konfirmim i drejtimit të lëvizjes pas kalimit të kryqëzimit ku kryqëzohen rrugët,
b) njoftim mbi emërtimin e rrugës unazore në të cilën arrijmë,
c) pozita e drejtimit rrugor deri tek vendbanimi i shënuar me shenjë.

2

251. Shenja e komunikacionit e paraqitur në foto tregon:



a) konfirmim i drejtimit të lëvizjes pas kalimit të kryqëzimit ku kryqëzohen rrugët,
b) njoftim mbi emërtimin e rrugës unazore në të cilën arrijmë,
c) pozita e drejtimit rrugor deri tek vendbanimi i shënuar në shenjë.

2


254. Shenja e komunikacionit e paraqitur në foto tregon:



a) drejton veturat në rrugën anashkaluese,
b) rrugë njëkahëshe,
c) drejtimin e lëvizjes deri tek destinacioni apo objekti me rëndësi turistike.

2

252. Shenja e komunikacionit e paraqitur në foto tregon:



a) rrugën në të cilën automjetet duhet të lëvizin nëse ka për qëllim kthimin majtas në udhëkryqin e parë ku ndalohet kthimi majtas,
b) kahja dhe rrjedha e rreshtimit të automjeteve kur për shkak të punimeve në rrugë, pengesave të përkohshme apo rrugës së dëmtuar, rruga është e mbyllur,
c) afërsia dhe pozita e rrugës e cila nuk ka dalje.

2


255. Shenja e komunikacionit e paraqitur në foto tregon:



a) largësinë deri tek vendi në rrugë me kthesë dajthas, e rrezikshme për nga karakteristikat fizike apo dukshmërisë së pamjaftueshme,
b) largësinë deri tek vendi në rrugë me më shumë kthesa apo me kthesa të njëpasnjëshme të cilat janë të rrezikshme për nga karakteristikat fizike apo mungesës së dukshmërisë,
c) largësinë deri tek vendi ku bëhet lakimi i korsive të komunikacionit kur numri i korsive të komunikacionit mbetet i njejtë.

2


253. Shenja e komunikacionit e paraqitur në foto:



a) vendi ku bëhet lakimi i korsive të komunikacionit, kur numri i korsive të komunikacionit mbetet i njejtë,
b) afërsia e kthesës në të djathtë, e rrezikshme për nga karakteristikat fizike apo dukshmërisë së pamjaftuar,
c) afërsia e pjesës së rrugës me më shumë kthesa apo me kthesa të një pasnjëshme që janë të rrezikshme për nga karakteristikat fizike apo mungesës së dukshmërisë.

2


256. Shenjat e komunikacionit e paraqitur në foto tregon:



a) vendi ku fillon mbyllja e njëres korsi të komunikacionit e dedikuar për lëvizje në të njëjtin drejtim,
b) afërsia e ngushtimit të rrugës nga ana e majtë e cila mund të paraqes rrezikun eventual,
c) fillimi i korsisë së komunikacionit ku duhen të lëvizin automjetet e ngadalshme.

2

257. Shenja e komunikacionit e paraqitur në foto tregon:



a) vendi ku fillon mbyllja e njëjës korsi të komunikacionit e dedikuar për lëvizje në të njëjtin drejtim,
 b) afërsia e ngushtimit të rrugës nga ana e djathtë që mund të paraqes rrezikun eventual,
 c) mbarimi i korsisë së komunikacionit ku duhen të lëvizin automjetet e ngadalshme.

2

260. Shenja e komunikacionit e paraqitur në foto tregon:



a) tregon afërsin deri tek vendi ku komunikacioni me dy kahje me korsi të ndara fizikisht, drejtohen në pjesën e rrugës ku korsitë nuk janë të ndara fizikisht, përkatsisht janë të ndara vetëm me anë të shenjave në rrugë,
 b) largësia deri tek vendi ku fillon korsia e komunikacionit së cilës duhen të lëvizin automjetet e ngadalshme,
 c) largësia deri tek ishulli i këmbësorëve, ishulli për drejtimin e komunikacionit dhe objekteve tjerë në rrugë dhe kahjen në të cilën duhet të lëvizin automjetet gjatë anashkalimit.

2


258. Shenja e komunikacionit e paraqitur në foto tregon:



a) largësia deri tek vendi ku mbyllet njëra korsi e komunikacionit,
 b) largësia deri tek vendi i ngushtimit të rrugës nga ana e majtë e cila mund të paraqes rrezik eventual,
 c) largësia deri tek vendi ku fillon korsia e komunikacionit të cilës duhet të lëvizin automjetet e ngadalshme.

2

261. Shenja e komunikacionit e paraqitur në foto tregon:



a) largësia deri tek vendi ku fillon korsia e komunikacionit së cilës duhen të lëvizin automjetet e ngadalshme,
 b) largësia deri tek ishulli i këmbësorëve, ishulli për drejtimin e komunikacionit dhe objekteve tjerë në rrugë dhe kahjen në të cilën duhet të lëvizin automjetet gjatë anashkalimit,
 c) tregon afërsin deri tek vendi ku komunikacioni me dy kahje me korsi të ndara fizikisht, drejtohen në pjesën e rrugës ku korsitë nuk janë të ndara fizikisht, përkatsisht janë të ndara vetëm me anë të shenjave në rrugë.

2

259. Shenja e komunikacionit e paraqitur në foto tregon:



a) largësia deri tek vendi ku mbyllet njëra korsi e komunikacionit,
 b) largësia deri tek vendi i ngushtimit të rrugës nga ana e djathtë e cila mund të paraqes rrezik eventual,
 c) largësia deri tek vendi ku mbaron korsia e komunikacionit së cilës duhet të lëvizin automjetet e ngadalshme.

2

262. Shenja e komunikacionit e paraqitur në foto tregon:



- tregon afërsin deri tek vendi ku komunikacioni me dy kahje me korsitë të ndara fizikisht, drejtohen në pjesën e rrugës ku korsitë nuk janë të ndara fizikisht, përkatsisht janë të ndara vetëm me anë të shenjave në rrugë,
- largësia deri tek vendi ku fillon korsia e komunikacionit së cilës duhen të lëvizin automjetet e ngadalshme,
- largësia deri tek ishulli i këmbësorëve, ishulli për në drejtimin e komunikacionit dhe objekteve tjerë në rrugë dhe kahjen në të cilën duhet të lëvizin automjetet gjatë anashkalimit.

2

264. Shenja e komunikacionit e paraqitur në foto tregon:



- njoftim për vozitësit mbi largësinë deri tek vendi ku polici rrugor rregullon komunikacionin,
- njoftim për vozitësit mbi largësinë deri tek vendi ku mbahen aktivitetet sportive në rrugë,
- njoftim për vozitësit mbi largësinë deri tek vendi ku për shkak të punimeve në rrugë, pengesave të përkohshme apo prishjes së rrugës, automjetet qarkullojnë në mënyrë alternative ku rregullimin e bën personi i autorizuar.

2

263. Shenja e komunikacionit e paraqitur në foto tregon:



- largësia deri tek vendi ku fillon korsia e komunikacionit së cilës duhen të lëvizin automjetet e ngadalshme,
- largësia deri tek ishulli i këmbësorëve, ishulli për drejtimin e komunikacionit dhe objekteve tjerë në rrugë dhe kahjen në të cilën duhet të lëvizin automjetet gjatë anashkalimit,
- tregon afërsin deri tek vendi ku komunikacioni me dy kahje me korsitë të ndara fizikisht, drejtohen në pjesën e rrugës ku korsitë nuk janë të ndara fizikisht, përkatsisht janë të ndara vetëm me anë të shenjave në rrugë.

2

265. Shenja e komunikacionit e paraqitur në foto tregon:



- korsia e caktuar e komunikacionit është e dedikuar për lëvizjen e llojit të automjeteve simboli i të cilëve është i paraqitur në shenjë,
- në atë pjesë të rrugës ndalohet lëvizja e llojit të automjeteve simboli i të cilëve është i paraqitur në shenjë,
- korsia e caktuar e komunikacionit nuk është e dedikuar për lëvizjen e llojeve të caktuara të automjeteve simboli i të cilëve është i paraqitur në shenjë.


2

266. Tabela plotësuese vendoset:

- mbi vijën e sipërme të shenjës së komunikacionit së cilës tabela plotësuese i referohet,
- nën vijën e poshtme të shenjës së komunikacionit së cilës tabela plotësuese i referohet,
- nga ana e majtë apo e djathtë e shenjës së komunikacionit së cilës tabela plotësuese i referohet.

2

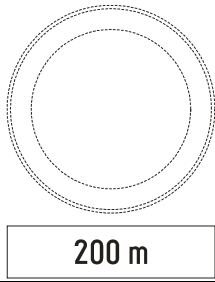
267. Shenja e komunikacionit e paraqitur në foto tregon:



a) largësia deri tek hyrja e rrugës në territorin e vendbanimit dhe vendi prej ku fillon ai vendbanim,
 b) destinacioni apo objekti me vlerë turistike dhe emërtimi i destinacionit turistik, simboli (paraqitja grafike) dhe largësia deri tek destinacioni,
 c) largësia deri tek vendi ku fillon vendbanimi dhe prej ku zbatohen rregullat e komunikacionit në vendbanim.

2

270. Tabela plotësuese e paraqitur në foto tregon:



a) largsinë mes shenjës tek e cila është vendosur tabela plotësuese dhe fillimi i pjesës së rrugës apo vendi në të cilin shenja i referohet,
 b) gjatsia e pjesës së rrugës ku kanoset rreziku i treguar në shenjë ose ku zbatohet ndalesa e prerë, obligimet apo kufizimi i treguar në shenjë,
 c) ndalimi i parkimit apo ndaljes së automjetit deri tek shenja.

2

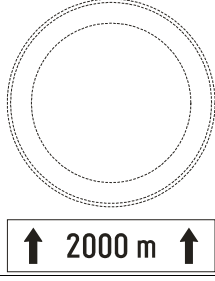
268. Në situatën e paraqitur në foto tabela plotësuese është pjesë bashkangjitore e:



a) shenjës së komunikacionit „Shpejtësia e kufizuar”,
 b) shenjës së komunikacionit „Ndalim tejkallim i të gjithë automjeteve, përveç motoçikletës pa rimorkio”,
 c) të dy shenjave të komunikacionit.

2

271. Tabela plotësuese e paraqitur në foto tregon:



a) largsinë mes shenjës tek e cila është vendosur tabela plotësuese dhe fillimi i pjesës së rrugës apo vendi në të cilin shenja i referohet,
 b) gjatsia e pjesës së rrugës ku kanoset rreziku i treguar në shenjë ose ku zbatohet ndalesa e prerë obligimet apo kufizimi i treguar në shenjë,
 c) ndalimi i parkimit apo ndaljes së automjetit deri tek shenja.


2

269. Tabela plotësuese:
(Rretho dy përgjigje të sakta)

a) është pjesë bashkangjitore e shenjës së komunikacionit afër së cilës është vendosur,
 b) është shenjë e komunikacionit që tregon drejtimin e rrugës deri në vendbanim,
 c) përcakton më afër kuptimin e shenjës së komunikacionit tek e cila është vendosur,
 d) është shenjë komunikacioni e cila si porosi në formë teksti, pjesmarrësit në komunikacion i njofton për ndalesat, kufizimet dhe obligimet.

2

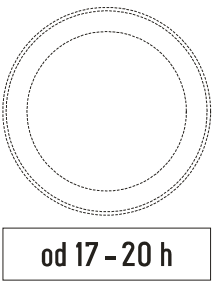
272. Tabela plotësuese e paraqitur në foto tregon:



a) largsinë mes shenjës tek e cila është vendosur tabela plotësuese dhe fillimi i pjesës së rrugës në të cilën ekziston rreziku i paraqitur në shenjë,
 b) gjatsia e pjesës së rrugës ku kanoset rreziku i treguar në shenjë ose ku zbatohet ndalesa e prerë, obligimet apo kufizimi i treguar në shenjë,
 c) largsia mes shenjës tek e cila është vendosur tabela plotësuese dhe objektit, terrenit apo pjesës së rrugës në të cilën lajmërimi i referohet.

2

273. Tabela plotësuese e paraqitur në foto tregon:




od 17 - 20 h

a) kohën për të cilën ndalesa e prerë, obligimi ose kufizimi nuk vlenë,
 b) kohën për të cilën ndalesa e prerë, obligimi ose kufizimi vlenë,
 c) njoftimet shtesë për llojin dhe mënyrën e shfrytëzimit të kohës për parkim.

2


276. Tabela plotësuese e paraqitur në foto tregon:



a) afërsia e pjesës së rrugës, përkatsisht vendit ku ekziston rreziku rrugës rrëshqitëse për shkak të ngricave apo borës,
 b) kushtet atmosferike të paraqitura me shenjën e rrezikut apo urdhërave të preara, kur në rrugë ka borë,
 c) pjesa e rrugës në të cilën bora hiqet me anë të makinave për pastrimin e borës dhe vendoset gjatë kohës së pastrimit të borës tek shenja „Rreziku në rrugë“ (I-25).

2

274. Tabelat plotësuese që përmbajnë porosi tekstuale në situatën e paraqitur në foto:




Временски ограничено на 1 сат

a) me anë të fjalëve japin njoftime shtesë për llojin dhe mënyrën e shfrytëzimit të zonës për parkim me kohë të caktuar,
 b) me anë të fjalëve japin njoftime që nuk janë të lidhura me kuptimin e shenjës së komunikacionit,
 c) me anë të fjalëve bëhet me dije për obligimet që pjesmarrësit në komunikacion duhen ti përmbahen.

2

277. Tabela plotësuese e paraqitur në foto tregon:

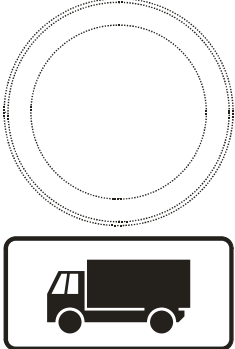


10 m

a) zbatimi i ndalimit të parkimit apo ndaljes së automjetit 10 m nga ana e majtë e shenjës së komunikacionit,
 b) zbatimi i ndalimit të parkimit apo ndaljes së automjetit 10 m nga ana e djathtë e shenjës së komunikacionit,
 c) zbatimi i ndalimit të parkimit apo ndaljes së automjetit 10 m pas shenjës së komunikacionit.

2


275. Tabelat plotësuese që përmbajnë porosi në formë simboli në situatën e paraqitur në foto:



a) me anë të simbolit përcakton më afër kuptimin e shenjës tek e cila është vendosur,
 b) me anë të simbolit jipen njoftime që nuk ndërlidhen me kuptimin e shenjës së komunikacionit,
 c) me anë të simbolit i bëhet me dije ndalesa, kufizimi dhe obligimet të cilat pjesmarrësit në komunikacion duhen ti përmbahen.

2


278. Tabela plotësuese e paraqitur në foto tregon:



a) zbatimi i ndalimit të parkimit apo ndaljes së automjetit para dhe pas shenjës së komunikacionit,
 b) zbatimi i ndalimit të parkimit apo ndaljes së automjetit pas shenjës së komunikacionit,
 c) zbatimi i ndalimit të parkimit apo ndaljes së automjetit para shenjës së komunikacionit.


2

279. Tabela plotësuese e paraqitur në foto tregon:




a) zbatimi i ndalimit të parkimit dhe ndaljes së automjetit para dhe pas shenjës së komunikacionit,
 b) zbatimi i ndalimit të parkimit apo ndaljes së automjetit nga ana e majt dhe e djathtë të shenjës së komunikacionit,
 c) zbatimi i ndalimit të parkimit apo ndaljes së automjetit para shenjës së komunikacionit. **2**

282. Tabela plotësuese e paraqitura në foto e vendosur pranë shenjës tregon:




a) kushtet atmosferike të paraqitura me shenjën e rrezikut apo urdhëresave të prera kur bie shi,
 b) kushtet atmosferike në të cilat vlenë shenja e rrezikut apo urdhëresave të prera, kur në rrugë ka borë,
 c) kushtet atmosferike në të cilat vlenë shenja e rrezikut apo urdhëresave të prera, kur ka shi apo borë. **2**

280. Tabela plotësuese e treguar në foto e vendosur pran shenjës së komunikacionit „Hapsirë për parkimin e mjeteve“ („hapsir parkuese”), tregon:




a) parkimi në rrugë nën këndë në raport me boshtin për së gjati të rrugës,
 b) parkimi në rrugë paralel me boshtin për së gjati të rrugës,
 c) parkimi në rrugë pingul (drejt) me boshtin për së gjati me rrugën. **2**

283. Tabela plotësuese e paraqitur në foto e vendosur pranë shenjës së komunikacionit „Kufizimi i shpejtësisë”, tregon:




a) që urdhëresat e prera të caktuara në shenjë vlejné kur bie borë në rrugë,
 b) që urdhëresat e prera të caktuara në shenjë vlejné kur bie borë,
 c) që urdhëresat e prera të caktuara në shenjë vlejné kur bie borë dhe shi. **2**

281. Tabela plotësuese e treguar në foto e vendosur pran shenjës së komunikacionit „Hapsirë për parkimin e mjeteve“ („hapsir parkuese”), tregon:




a) parkimi në trotuar nën këndë në raport me boshtin për së gjati të rrugës,
 b) parkimi në trotuar paralel me boshtin për së gjati të rrugës,
 c) parkimi në trotuar drejt (pingul) me boshtin për së gjati të rrugës. **2**

284. Tabela plotësuese e paraqitur në foto e vendosur pranë shenjës së komunikacionit „Kufizimi i shpejtësisë”, tregon:



a) shenja e komunikacionit „Kufizimi i shpejtësisë” vlenë kur bie shi,
 b) shenja e komunikacionit „Kufizimi i shpejtësisë” vlenë kur bie borë,
 c) shenja e komunikacionit „Kufizimi i shpejtësisë” nuk vlen kur bie shi. **2**


285. Tabela plotësuese e paraqitur në foto e vendosur pranë shenjës së komunikacionit „Kryqëzim i rrugës me përparsi kalimi“, tregon:



a) zgjatja e rrugës me përparsi kalimi,
b) afërsia dhe pozita e rrugës e cila nuk ka dalje,
c) kahje e detyrueshme për automjetet.

2

288. Tabela plotësuese që përmban porosi me tekst si në situatën në foto tregon:



a) me anë të fjalëve saktëson kuptimin e shenjës së komunikacionit,
b) me anë të fjalëve jep sqarime që nuk kanë të bëjnë me shenjën e komunikacionit,
c) me anë të fjalëve tregon ndalesat, kufizimet dhe obligimet të cilave duhet ti përmbahen pjesmarrësit në komunikacion.

2

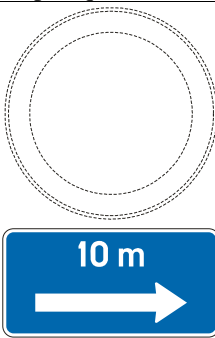
286. Tabela plotësuese e paraqitur në foto e vendosur pranë shenjës së komunikacionit „Ndalje e obligueshme“, tregon:



a) zgjatja e rrugës me përparsi kalimi,
b) afërsia dhe pozita e rrugës e cila nuk ka dalje,
c) kahje e detyrueshme për automjetet.

2

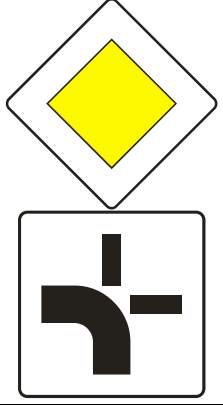
289. Tabela plotësuese e paraqitur në foto tregon:



a) zbatimi i ndalimit të parkimit apo ndaljes së automjetit 10 metra nga ana e majtë e shenjës së komunikacionit,
b) zbatimi i ndalimit të parkimit apo ndaljes së automjetit 10 metra nga ana e djathtë e shenjës së komunikacionit,
c) zbatimi i ndalimit të parkimit apo ndaljes së automjetit 10 metra pas shenjës së komunikacionit.

2

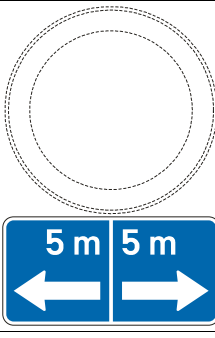
287. Tabela plotësuese paraqitur në foto e vendosur pranë shenjës së komunikacionit „Rrugë me përparsi kalimi“, tregon:



a) zgjatja e rrugës me përparsi kalimi,
b) afërsia dhe pozita e rrugës e cila nuk ka dalje,
c) kahje e detyrueshme për automjetet.

2


290. Tabela plotësuese e paraqitur në foto tregon:





a) zbatimi i ndalimit të parkimit dhe ndaljes së automjetit 5 m nga ana e majtë dhe e djathtë e shenjës së komunikacionit,
b) zbatimi i ndalimit të parkimit dhe ndaljes së automjetit 5 m para dhe pas shenjës së komunikacionit,
c) zbatimi i ndalimit të parkimit dhe ndaljes së automjetit 5 m nga ana e djathtë, para dhe pas shenjës së komunikacionit.


2


291.	Tabela plotësuese e paraqitur në foto tregon:
	
	a) vend parkimin në të cilin parkimi i automjeteve është me kohë të caktuar, b) largësia deri te vendparkimi ose garazhi, c) vend parkimi me gjatësi prej 200 m.
	2

294.	Tabela plotësuese e treguar në foto e vendosur pran shenjës së komunikacionit „Hapsirë për parkimin e mjeteve“ („hapsir parkuese”), tregon:
	
	a) parkimi në trotuar dhe në rrugë nën këndë në raport me boshtin për së gjati të rrugës, b) parkimi në trotuar dhe në rrugë paralel me boshtin për së gjati të rrugës, c) parkimi në trotuar dhe në rrugë drejt (pingul) në raport me boshtin për së gjati të rrugës.
	2


292.	Tabela plotësuese e treguar në foto e vendosur pran shenjës së komunikacionit „Hapsirë për parkimin e mjeteve“ („hapsir parkuese”), tregon:
	
	a) parkimi në trotuar nën këndë në raport me boshtin për së gjati të rrugës, b) parkimi në trotuar paralel me boshtin për së gjati të rrugës, c) parkimi në trotuar drejt (pingul) në raport me boshtin për së gjati të rrugës.
	2

295.	Tabela plotësuese e treguar në foto e vendosur pran shenjës së komunikacionit „Hapsirë për parkimin e mjeteve“ („hapsir parkuese”), tregon:
	
	a) parkimi në trotuar dhe në rrugë nën këndë në raport me boshtin për së gjati të rrugës, b) parkimi në trotuar dhe në rrugë paralel me boshtin për së gjati të rrugës, c) parkimi në trotuar dhe në rrugë pingul (drejt) në raport me boshtin për së gjati të rrugës.
	2

293.	Tabela plotësuese e treguar në foto e vendosur pran shenjës së komunikacionit „Hapsirë për parkimin e mjeteve“ („hapsir parkuese”), tregon:
	
	a) parkimi në trotuar nën këndë në raport me boshtin për së gjati të rrugës, b) parkimi në trotuar paralel me boshtin për së gjati të rrugës, c) parkimi në trotuar drejt (pingul) në raport me boshtin për së gjati të rrugës.
	2

296.	Tabela plotësuese e treguar në foto e vendosur pran shenjës së komunikacionit „Hapsirë për parkimin e mjeteve“ („hapsir parkuese”), tregon:
	
	a) parkimi në trotuar dhe në rrugë nën këndë në raport me boshtin për së gjati të rrugës, b) parkimi në trotuar dhe në rrugë paralel me boshtin për së gjati të rrugës, c) parkimi në trotuar dhe në rrugë pingul (drejt) në raport me boshtin për së gjati të rrugës.
	2


297. Tabela plotësuese e treguar në foto e vendosur pran shenjës së komunikacionit „Hapsirë për parkimin e mjeteve“ („hapsir parkuese”), tregon:



a) parkimi në rrugë nën këndë në raport me boshtin për së gjati të rrugës,
 b) parkimi në rrugë paralel me boshtin për së gjati të rrugës,
 c) parkimi në rrugë pingul (drejt) në raport me boshtin për së gjati të rrugës.

2


300. Tabela plotësuese e treguar në foto e vendosur pran shenjës së komunikacionit „Hapsirë për parkimin e mjeteve“ („hapsir parkuese”), tregon:



a) parkimi në rrugë nën këndë në raport me boshtin për së gjati të rrugës,
 b) parkimi në rrugë paralel me boshtin për së gjati të rrugës,
 c) parkimi në rrugë pingul (drejt) në raport me boshtin për së gjati të rrugës.

2

298. Tabela plotësuese e paraqitur në foto pranë shenjës së komunikacionit „Rrezik në rrugë”, tregon:



a) afërsia e pjesës së rrugës ose vendi ku ekziston rreziku nga rrëshqitja në rrugë për shkak të ngricave apo borës,
 b) pjesën e rrugës bora pastrohet me anë të makinave,
 c) kushtet atmosferike për të cilat vlenë shenja e rrezikut apo urdhëresave të prera, kur në rrugë ka borë.

2


301. Tabela plotësuese e vendosur pran shenjës së komunikacionit „Hapsirë për parkimin e mjeteve“ („hapsir parkuese”), tregon:



a) garazhi për mjete t për personat me invaliditet,
 b) hapsira e destinuar (caktuar) për lëvizjen e personave me invaliditet në karrocet për invalid,
 c) hapsira e parkimit, gjeçjesisht vendi i parkimit është i rezervuar për mjetet e personave me invaliditet.

2

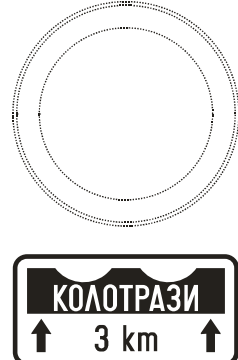
299. Tabela plotësuese e paraqitur në foto e vendosur pranë shenjës së komunikacionit tregon:



a) kushtet atmosferike në të cilat vlenë shenja e rrezikut apo urdhëresave të prera kur nuk bie shi,
 b) kushtet atmosferike në të cilat vlenë shenja e rrezikut apo urdhëresave të prera kur bie shi,
 c) kushtet atmosferike në të cilat vlenë shenja e rrezikut apo urdhëresave të prera kur bie borë.

2

302. Tabela plotësuese e paraqitur në foto e vendosur pranë shenjës së komunikacionit tregon:



a) largësia deri tek pjesa e rrugës, asfalti i së cilës është me vija të thelluara,
 b) lloji i dëmtimit në rrugë dhe gjatësia e rrugës së dëmtuar,
 c) largësia deri tek pjesa ku rruga është e pandërtuar.

2

© Është i ndaluar shfrytëzimi, përdorimi apo shumimi i përkohshëm ose i përhershëm i bazave të të dhënave të pyetjeve të provimit ose pjesëve të saj, me çdo mjet apo në çdo formë, **në baza komerciale**

303.	Me shenjat në rrugë: (<i>Rretho tri përgjigje të sakta</i>)	
	a) pjesmarrësve në komunikacion i bëhet me dije për kufizimin, ndalimin dhe obligimin, b) tregohen rreziqet në rrugë, c) bëhet rreshtimi i lëvizjes së pjesmarrësve në komunikacion, d) jipen informacione për objektet me vlerë turistike, e) saktësohet domethënia e shenjës së komunikacionit pranë së cilës është vendosur, f) pjesmarrësve në komunikacion i jipen njoftime.	2

304.	Ngjyra e shenjës me të cilën shënohen vendet e caktuara (stacioni i autobusave, taxi, policia etj) është:	
	a) e verdhë, b) e kaltërt, c) e bardhë.	2

305.	Ngjyra e shenjës në rrugë, sipas rregullave, është:	
	a) e bardhë, b) portokalli, c) e kaltërt.	2

306.	Ngjyra e shenjës së vendit në rrugë dhe në trotuar ku ndalohet parkimi është:	
	a) e bardhë, b) e kaltërt, c) e verdhë.	2

307.	Shenjat në rrugë mund të paraqiten si: (<i>Rretho tri përgjigje të sakta</i>)	
	a) treguesit e kahjeve, b) shigjetat, c) mbishkrimet dhe shenjat tjera në rrugë dhe trotuar, d) shenjat që tregojnë vijat anësore të rrugës, e) tabelat që tregojnë majën ndarëse të ishullit, f) linjat.	2

308.	Ngjyra e vijës ndarëse të korsive të komunikacionit për qarkullim të automjeteve për bartjen e udhëtarëve është:	
	a) e bardhë, b) e verdhë, c) e kaltërt.	2

309.	Ngjyra e shenjave të përkohshme në rrugë që përdoren gjatë punimeve në rrugë janë:	
	a) e bardhë, b) e verdhë, c) e kaltërt.	2


310.	Vija gjatësore e cila ndanë korsitë në rrugë ose korsitë në komunikacion është:	
	a) vija ndarëse, b) vija anësore, c) vija paralajmëruese.	2


311.	Vija ndarëse e pandërprerë tregon:	
	a) ndalim kalimi përtej asaj vije dhe ndalim lëvizjeje gjatë asaj vije, b) ndalim kalimi përtej asaj vije apo lëvizja gjatë saj, vetëm kur në rrugë është e vendosur shenja „Ndalim tejkalimi“, c) tregon vendin në rrugë ku vozitësi duhet ta ndaloj automjetin.	2

312.	Vija çifte ndarëse të pandërprera tregojnë:	
	a) ndalim kalimi përtej vijave apo lëvizja nëpër to, vetëm kur në rrugë është shenja e komunikacionit „Ndalim tejkalimi“, b) ndalim kalimi përtej vijave dhe ndalim lëvizjeje përgjatë vijave, c) tregon vendin në rrugë ku vozitësi duhet ta ndaloj automjetin.	2

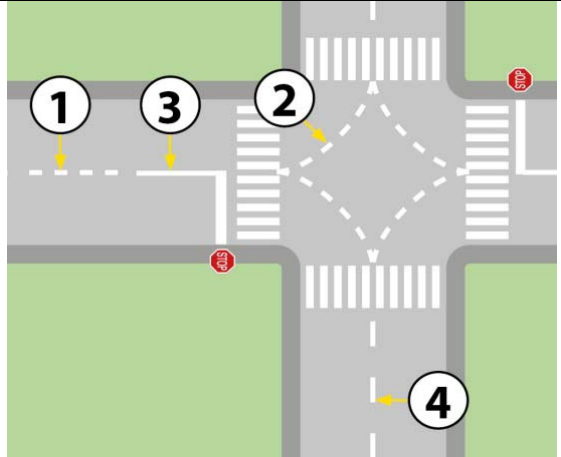
313.	A janë shenjat në rrugë dhe në trotuar shenja komunikacioni?	
	a) Po. b) Jo.	2

314.	Vija udhëzuese është:	
	a) vija ndarëse e ndërprerë e cila shërben për rregullimin e komunikacionit nëpër kryqëzimet e rrugëve, b) vija ndarëse e kombinuar e cila tregon ndalim kalimin përtej asaj vije apo lëvizjes përgjatë saj për automjete që lëvizin korsitë së rrugës e cila preket me vijën e ndërprerë, c) vija ndarëse e pandërprerë e cila tregon ndalim kalimin përtej asaj vije apo lëvizjes përgjatë saj.	2

315.	Në situatën e paraqitur në foto vija e dyfishtë gjatësore e pandërprerë që tregon ndalim kalimin përtej asaj vije dhe përgjatë asaj vije është e shënuar me nr:	
		
	a) 1, b) 2,	c) 3, d) 4.
		2

316.	Në situatën e paraqitur në foto vija ndarëse e ndërprerë është shënuar me nr:	
		
	a) 1, b) 2,	c) 3, d) 4.
		2


317. Në situatën e paraqitur në foto vija udhëzuese është shënuar me nr:



a) 1, c) 3,
b) 2, d) 4.

2

321. Në situatën e paraqitur në foto korsia e komunikacionit me kahje të lëvizjes së ndryshueshme ku komunikacioni është rregulluar me semafor, është shënuar me nr:



a) 1, b) 2, c) 3.


2

318. Vija ndarëse e dyfishtë e kombinuar tregon:

a) ndalim kalimi përtej asaj vije apo lëvizja përgjatë saj për automjete që lëvizin korsisë së komunikacionit që është afër vijës së ndërprerë,
b) ndalim kalimi përtej asaj vije për të gjitha automjetet në të dy drejtimet,
c) ndalim kalimi përtej asaj vije apo lëvizja përgjatë saj për automjetet që lëvizin korsisë së komunikacionit që është afër vijës së pandërprerë.

2

322. Në situatën e paraqitur në foto vija gjatësore që paralajmëron afërsin e vijës së pandërprerë është shënuar me nr:



a) 1, b) 2, c) 3, d) 4.

2


319. Vija ndarëse e dyfishtë e kombinuar e paraqitur në foto jep mundësi kalimi përtej asaj vije:



a) korsisë me nr 1,
b) korsisë me nr 2,
c) cilës do korsii.

2

323. Në situatën e paraqitur në foto vija që tregon skajin e sipërfaqës së rrugës është shënuar me nr:



a) 1 dhe 4, c) 1 dhe 3,
b) 2 dhe 3, d) 1 dhe 2.


2

320. Vija ndarëse e dyfishtë e kombinuar jep mundësi kalimi përtej asaj vije apo lëvizjes përgjatë vijës:

a) për automjetet që lëvizin korsisë së komunikacionit afër së cilës është vija e ndërprerë,
b) për automjetet që lëvizin korsisë së komunikacionit afër së cilës është vija e pandërprerë,
c) për të gjitha automjetet nga të dy korsitë e komunikacionit me kusht që të mos rrezikojnë automjetet nga kahja e kundërt.

2


324. Në situatën e paraqitur në foto vija ndarëse është shënuar me nr:



a) 1 dhe 4, c) 1 dhe 3,
b) 2 dhe 3, d) 3 dhe 4.

2


333. Në situatën e paraqitur në foto vozitësi i cili i afrohet shenjës së komunikacionit:



a) duhet patjetër të ndaleni pikërisht para vijës për ndalje,
 b) duhet të ndaleni para vijës ndalëse për ti dhënë përparsi kalimi nëse paraqitet nevoja,
 c) duhet të ndaleni në vijën e dukshmërisë apo para vijës për ndalje.

2

336. Në situatën e paraqitur në foto:



a) duhet të ndaleni para vijës ndalëse për ti dhënë përparsi kalimi nëse paraqitet nevoja,
 b) duhet patjetër të ndaleni pikërisht para vijës për ndalje,
 c) duhet të ndaleni në vijën e dukshmërisë apo para vijës për ndalje.


2

334. **Vija e pandërprerë e ndaljes që është afër rrugës me përparsi kalimi në vendin ku nuk është shenja e komunikacionit „Kryqëzim rruge me përparsi kalimi“, tregon:**

a) **vendin në rrugë ku vozitësi patjetër duhet ta ndaloj automjetin,**
 b) **vendin në rrugë ku vozitësi duhet ti jap përparsi kalimi automjete që lëvizin rrugës ku ai kyçet dhe sipas nevojës ta ndalë automjetin para vijës ndalëse,**
 c) **vendin në rrugë ku vozitësi patjetër duhet ti jap përparsi kalimi automjeteve që lëvizin rrugës, vetëm nëse para vijës në rrugë është shenja e shënuar.**

2


337. Në situatën e paraqitur në foto vetura e verdhë:



a) duhet të ndaleni në vijën e dukshmërisë apo para vijës për ndalje,
 b) duhet patjetër të ndaleni pikërisht para vijës për ndalje,
 c) duhet të ndaleni para vijës ndalëse për të i dhënë përparsi kalimi nëse paraqitet nevoja.

2


335. Në situatën e paraqitur në foto vetura e bardhë:



a) duhet patjetër të ndalet pikërisht para vijës për ndalje,
 b) duhet të ndalet para vijës ndalëse për ti dhënë përparsi kalimi nëse paraqitet nevoja,
 c) duhet të ndalet në vijën e dukshmërisë apo para vijës për ndalje.

2

338. Në situatën e paraqitur në foto:



a) duhet të ndaleni para vijës ndalëse për ti dhënë përparsi kalimi nëse paraqitet nevoja,
 b) nuk duhet të ndaleni sepse automjeti vjen nga ana juaj e majtë,
 c) vija e ndërprerë për ndalje ju obligon që patjetër të ndaleni pikërisht para asaj vije pa marr parasysh situatën në komunikacion.

2

339. Shenja e tërthortë në rrugë e paraqitur në foto („Vija e tërthortë“) tregon:



a) pjesën e sipërfaqes së rrugës për ndalje dhe parkim të automjeteve,
 b) vendi i mbylljes së korsisë së komunikacionit,
 c) vendi ku fillon korsia e komunikacionit.

2

342. Në situatën e paraqitur në foto:



a) duhet të ndaleni në vijën e dukshmërisë apo para vijës për ndalje,
 b) duhet të ndaleni para vijës ndalëse për ti dhënë përparsi kalimi nëse paraqitet nevoja,
 c) vija e ndërprerë për ndalje ju obligon që gjithmonë të ndaloni para asaj vije pa mar parasysh situatën në komunikacion.

2

340. Shenja e tërthortë në rrugë e treguar me foto („Pjesa e ndaluar“) tregon:



a) vendi ku mbyllet ose hapet korsia dhe mbyllja e korsisë së komunikacionit e rezervuar për automjetet për bartjen publike të udhëtarëve,
 b) pjesë e rrugës ku ndalohet komunikacioni për shkak të kycjes së automjeteve nga rruga hyrëse,
 c) pjesë e sipërfaqes së rrugës e përcaktuar në parkim dhe ndalim të detyruar.

2

343. Shenjat e treguara në foto („Shigjetat“) shërbejnë për:



a) tregojnë kahjen e detyruar ose kahjen e lejuar për lëvizjen e automjeteve,
 b) informon vozitësit për drejtimin e korsisë së komunikacionit,
 c) tregon kthesat në komunikacion.

2

341. Shenja e tërthortë në rrugë e paraqitur në foto tregon:



a) pjesë e sipërfaqes së rrugës e përcaktuar për lëvizjen e biçiklistëve,
 b) vendi në rrugë para se të cilit vozitësi duhet ta ndaloj automjetin,
 c) pjesa e rrugës e përcaktuar për këmbësorë.

2

344. Shenjat e paraqitura në foto („Shigjetat“) shërbejnë për:



a) tregojnë kahjet e lejuara për lëvizjen e automjeteve,
 b) informon vozitësit për drejtimin e korsisë së komunikacionit,
 c) tregon kthesat në komunikacion.

2

345. Shenja në komunikacion e paraqitur në foto shërben për:



a) tregon kahjen e detyruar në pjesën e rrugës ku në afërsi gjinden dy kryqëzime, ku kahja e shënuar nuk lejohet në kryqëzimin e parë,
 b) informim për drejtimet e korsive të komunikacionit në pjesën e rrugës ku në afërsi gjinden dy kryqëzime,
 c) devijim i komunikacionit.

2

349. Shenjat e paraqitura në foto („Shigjetat“) shërbejnë për:



a) tregojnë kahjen e detyruar ose kahjet e lejuara për lëvizjen e automjeteve,
 b) informon vozitësit për drejtimin e korsisë së komunikacionit,
 c) devijim i komunikacionit.

2

346. Në rrugë para kalimit për këmbësorë i cili është në zonën e shkollës, është mbishkrimi:

a) „SHKOLLA”,
 b) „ZONA E SHKOLLËS”,
 c) „FËMIJËT NË RRUGË”.

2

347. Shenjat e paraqitura në foto („Shigjetat“) shërbejnë për:



a) informim për vozitësit për drejtimin e korsive të komunikacionit,
 b) tregon kahjen e lëvizjes për në garazhë,
 c) devijim i komunikacionit.

2

350. Shenja e paraqitur në foto („Fusha për orientim në komunikacion“) tregon:



a) sipërfaqen ku ndalohet komunikacioni dhe ku nuk është e lejuar ndalja dhe parkimi,
 b) sipërfaqen ku lejohet komunikacioni ndërsa nuk lejohet ndalja dhe parkimi,
 c) sipërfaqen ku ndalohet komunikacioni ndërsa lejohet ndalja dhe parkimi.

2

348. Shenjat e paraqitura në foto („Shigjetat“) shërbejnë për:



a) informon vozitësit për drejtimin e korsisë së komunikacionit,
 b) paralajmërim për afërsinë e vijës së pandërprerë,
 c) devijim i komunikacionit.

2

351. Shenjën e paraqitur në rrugë vozitësi mund ta anashkaloj:



a) vetëm nga ana e majtë,
 b) vetëm nga ana e djathtë,
 c) nga të dy anët.

2

352. Shenja e paraqitur në foto me nr 1 („Fusha për orientim në komunikacion“) tregon:



a) sipërfaqen ku ndalohet komunikacioni dhe ku nuk është e lejuar ndalja dhe parkimi,
 b) sipërfaqen ku lejohet komunikacioni ndërsa nuk lejohet ndalja dhe parkimi,
 c) sipërfaqen ku ndalohet komunikacioni ndërsa lejohet ndalja dhe parkimi.

2

355. Shenja në rrugë e paraqitur në foto tregon:



a) zona e kalimit të këmbësorëve në zonën e shkollës,
 b) korsinë e komunikacionit për automjetet për bartjen e organizuar të fëmijëve,
 c) vendin e rezervuar për ndaljen e autobusit shkollor.

2


353. Shenja e paraqitur në foto („Fusha për orientim në komunikacion“) tregon:



a) sipërfaqen ku ndalohet komunikacioni dhe ku nuk është e lejuar ndalja dhe parkimi,
 b) sipërfaqen ku lejohet komunikacioni ndërsa nuk lejohet ndalja dhe parkimi,
 c) sipërfaqen ku ndalohet komunikacioni ndërsa lejohet ndalja dhe parkimi.

2

356. Mbishkrimi i paraqitur në foto („shenja e komunikacionit“) tregon:



a) paralajmrim shtesë për vozitësin për shpejtësinë më të madhe të lejuar, e caktuar me anë të shenjës së komunikacionit,
 b) paralajmrim shtesë për vozitësin për shpejtësinë e cila preferohet në atë pjesë të rrugës,
 c) paralajmrim shtesë për vozitësin për shpejtësinë më të vogël të lejuar e caktuar me anë të shenjës së komunikacionit.

2

354. Mbishkrimi i paraqitur në foto („BUS“) tregon:



a) korsinë e komunikacionit për automjetet për bartjen publike të udhëtarëve,
 b) korsinë e komunikacionit për autobus,
 c) korsinë e komunikacionit vetëm për automjetet taxi.

2

357. Mbishkrimi i paraqitur në foto („Shenja e komunikacionit“) tregon:



a) paralajmrim shtesë vozitësit për afërsinë e pjesës së rrugës ku fëmijët shpesh dhe në numër të madh lëvizin (afërsia e shkollës, çerdhës terrenit sportiv),
 b) paralajmrim shtesë vozitësit për vendin prej ku fillon zona e shkollës,
 c) paralajmrim shtesë vozitësit për shtegun e veçantë ku këmbësorët patjetër duhet të lëvizin, ndërsa në të cilën ndalohet lëvizja e pjesmarrësve tjerë në komunikacion.

2

358. Shenja e paraqitur në foto („Sipërfaqja e komunikacionit për qëllime të veçanta“) tregon:



a) vendi ku ndalohet parkimi dhe ndalja në trotuar,
 b) vendi ku ndalohet parkimi dhe ndalja në rrugë,
 c) vendi i rezervuar për stacionim të autobusit.

2

360. Mbishkrimi i paraqitur në foto („shenja e komunikacionit“) tregon:



a) paralajmrim shtesë vozitësit për afërsinë e kryqëzimit ku vozitësi duhet ti jap përparsi automjeteve të cilët lëvizin rrugës në të cilën ai kyçet,
 b) paralajmrim shtesë vozitësit për vendin para kryqëzimit ku vozitësi është i detyruar ta ndaloj automjetin dhe ti jap përparsi kalimi automjeteve të cilët lëvizin rrugës ku ai kyçet,
 c) paralajmrim shtesë vozitësit në rrugë apo pjesë të rrugës ku komunikacionit është i ndaluar për të gjitha automjetet në dy drejtimet.

2


359. Mbishkrimi i paraqitur në foto („shenja e komunikacionit“) tregon:



a) paralajmrim shtesë për afërsinë e udhëkryqit ku jeni të detyruar ti jepni përparsi kalimi automjeteve që lëvizin rrugës në të cilën kyçeni,
 b) paralajmrim shtesë për vendin para hyrjes në udhëkryq ku jeni të detyruar ta ndaloni automjetin dhe ti jepni përparsi kalimi automjeteve që lëvizin rrugës në të cilën ju kyçeni,
 c) paralajmrim shtesë në rrugë ose pjesë të rrugës në të cilën ndalohet komunikacioni për të gjitha automjetet në të dy drejtimet.

2

361. Mbishkrimi i paraqitur në foto tregon:



a) paralajmrim shtesë vozitësit për afërsinë e kryqëzimit ku vozitësi duhet ti jap përparsi automjeteve të cilët lëvizin rrugës në të cilën ai kyçet,
 b) paralajmrim shtesë vozitësit në rrugë apo pjesë të rrugës ku komunikacioni është i ndaluar për të gjitha automjetet në dy drejtimet,
 c) paralajmrim shtesë vozitësit për vendin para kryqëzimit ku vozitësi është i detyruar ta ndaloj automjetin dhe ti jap përparsi kalimi automjeteve të cilët lëvizin rrugës ku ai kyçet.

2

362. Mbishkrimi i paraqitur në foto tregon („Piktogrami i biçikletës“) tregon:



a) shtegun e biçikletave,
b) mbarimi i shtegut të biçikletave,
c) shtegu i bashkuar për biçikleta dhe këmbësorë.

2


365. Shenja e paraqitur në foto („Hapsirë komunikacioni për qëllime të veçanta“) tregon:



a) vendi i rezervuar për parkim të autobusave dhe ndalim të automjeteve tjera,
b) vendi i rezervuar për vendstacionim të autobusave,
c) vendi i rezervuar për taxi dhe automjete tjera.

2


363. Mbishkrimi i paraqitur në foto („Piktogrami i karrocës për persona me invaliditet“) tregon:



a) afërsia e kalimit për këmbësorë në zonën e entit ku qëndrojnë personat me invaliditet,
b) vend parkimi me mbishkrimin e shënuar është i dedikuar vetëm për parkimin e automjeteve të personave me invaliditet,
c) hapsirë e dedikuar për lëvizjen e personave me invaliditet në karrocet për invalid.

2

366. Shenja e paraqitur në foto („Hapsirë komunikacioni për qëllime të veçanta“) tregon:



a) vendi i rezervuar për parkim të automjeteve taxi dhe ndalim i automjeteve tjera,
b) vendi i rezervuar për parkim të automjeteve për bartjen publike të udhëtarëve,
c) vendi i rezervuar për automjetet taxi.

2

364. Shenja e paraqitur në foto („Hapsirë komunikacioni për qëllime të veçanta“) tregon:



a) vendi ku ndalohet ndalja dhe parkimi në trotuar,
b) vendi ku ndalohet ndalja dhe parkimi në rrugë,
c) vendi i rezervuar për stacionim të autobusave.

2

367. Shenja e paraqitur në foto tregon:



a) vendi për parkim,
b) vendi ku ndalohet ndalja dhe parkimi,
c) stacioni i autobusave.

2

368. Shenja e paraqitur në foto („Vend parkim“) tregon:



a) vend për parkim për së gjati,
b) vend për parkim të drejtë (pingul),
c) vend për parkim parkim nën çfardo këndi.

2

372. Shenja e paraqitur në foto („Vend parkim“) tregon:



a) vend për parkim për së gjati,
b) vend për parkim të drejtë,
c) vend për parkim të pjerrët.

2


369. Shenja e paraqitur në foto tregon:



a) vendi për parkim,
b) vendi ku ndalohet ndalja dhe parkimi,
c) stacionimi i autobusave.

2

373. Shenja e paraqitur në foto tregon:



a) pengesë e përhershme brenda përmasave të profilimit të lirë të rrugës,
b) pengesë vertikale,
c) pengesë në korsi.

2


370. Shenja e paraqitur në foto („Vend parkim“) tregon:



a) vend për parkim për së gjati,
b) vend për parkim të drejtë (pingul),
c) vend për parkim të pjerrët (këndë të pjerrët).

2

374. Në situatën e paraqitur në foto vija skajore është me nr:



a) 1 dhe 2,
b) 2 dhe 3,
c) 2 dhe 4,
d) 3 dhe 4.

2

371. Shenja e paraqitur në foto tregon:



a) vendi për parkim,
b) vendi ku ndalohet ndalja dhe parkimi,
c) stacioni i autobusave.

2

375. Vija gjatësore që paralajmron afërsinë e vijës së pandërpreë është:

a) vija ndarëse,
b) vija skajore,
c) vija paralajmruese.

2

376. Vija e ndaljes, hapsirë e kufizuar, kalimi për këmbësorë dhe kalimi nëpër shtegun e biçikletave janë:

a) shenjat për së gjati në rrugë,
b) shenjat e tërthorta në rrugë,
c) shenjat tjera në rrugë.

2

377.	Vija e pandërprerë për ndalje e vendosur para shenjës ndriçuese të komunikacionit tregon:	
	<ul style="list-style-type: none"> a) vendi në rrugë para të cilit vozitësi patjetër duhet ta ndaloj automjetin, b) vendi në rrugë para të cilit duhet ta ndaloj automjetin vetëm nëse me anë të shenjës ndriçuese i ndalohet kalimi, c) vendi në rrugë para të cilit duhet ta ndaloj automjetin vetëm kur është e vendosur shenja „Ndalje e obliguar“. 	2

381.	Vija e pandërprerë për ndalim e vendosur para shenjës së komunikacionit „Ndalim i obliguar“, tregon:	
	<ul style="list-style-type: none"> a) vendin në rrugë para së cilit vozitësi duhet ta ndaloj automjetin, b) vendin në rrugë para së cilit vozitësi duhet ta ndaloj automjetin vetëm nëse ai vend i mundëson dukshmërinë e situatës në komunikacion në rrugë me përparsi kalimi, c) vendin në rrugë ku vozitësi duhet ta ndaloj automjetin vetëm kur rrugës me përparsi kalimi lëvizin automjetet të cilëve duhet të i jipet përparsi kalimi. 	2

378.	Në situatën e paraqitur në foto:	
		
	<ul style="list-style-type: none"> a) patjetër duhet të ndaloni para vijës ndalëse, b) patjetër duhet të ndaleni në vijën e dukshmërisë, c) mund të kaloni pa u ndalur. 	2

382.	Në situatën e paraqitur në foto:	
		
	<ul style="list-style-type: none"> a) mund të ndaloni para vijës për ndalim apo vijës së dukshmërisë, b) jeni të obliguar të ndaloni para vijës për ndalim, c) jeni të obliguar të ndaloni në vijën e dukshmërisë. 	2

379.	Në situatën e paraqitur në foto:	
		
	<ul style="list-style-type: none"> a) jeni të obliguar të ndaloni para vijës ndalëse, b) jeni të obliguar të ndaleni në vijën e dukshmërisë, c) mund të kaloni udhëkryqin pa u ndalur. 	2

383.	Vija e pandërprerë për ndalim e vendosur para shenjës „Ndalim kalimi pa u ndalur“ në afërsinë e doganës, policisë apo vendi për pagesën e shfrytëzimit të rrugës tregon vendin para të cilit vozitësi duhet që:	
	<ul style="list-style-type: none"> a) ta ndaloj automjetin para vijës për ndalim vetëm nëse personi zyrtar jep shenjën e caktuar, b) ta ndaloj automjetin vetëm nëse kalimi është i pamundur nga mjetet penguese (mbrojtëse lëvizëse), c) ta ndaloj automjetin. 	2

380.	Vija e pandërprerë për ndalje e vendosur para rrugës me përparsi kalimi në vendin ku nuk ka shenjë komunikacioni „Ndalim i obliguar“, tregon:	
	<ul style="list-style-type: none"> a) vendin në rrugë para së cilit duhet ta ndaloj automjetin, b) vendin në rrugë para të cilit duhet ta ndaloj automjetin, vetëm nëse para vijës është e shkruar fjala „STOP“, c) vendin në rrugë ku vozitësi duhet ta ndaloj automjetin vetëm kur rrugës me përparsi kalimi lëvizin automjetet të cilëve duhet ti jipet përparsi kalimi. 	2

384.	Në situatën e paraqitur në foto:	
		
	<ul style="list-style-type: none"> a) patjetër duhet të ndaloni para vijës për ndalim, b) duhet të ndaloni para mjetit pengues (mbrojtëse lëvizëse), c) mund të ndaleni para vijës për ndalim apo para mjetit pengues (mbrojtëse lëvizëse). 	2


385. Në situatën e paraqitur në foto:



a) nuk duhet të ndaloni sepse automjeti tjetër vjen nga ana juaj e majtë,
 b) duhet të ndaleni para vijës së ndërprerë për ta lëshuar automjetin tjetër,
 c) mund të ndaloni në çfar do vendi për ta lëshuar automjetin tjetër.

2

389. Shenja e tërthortë në rrugë e paraqitur në foto („Vija e tërthortë“) tregon:



a) pjesë e sipërfaqes së rrugës e dedikuar për ndaljen dhe parkimin e automjeteve,
 b) vendi i mbylljes së korsisë së komunikacionit e rezervuar për automjetet për bartjen e udhëtarëve,
 c) vendi i hapjes së korsisë së komunikacionit i rezervuar për bartjen publike të udhëtarëve.

2

386. Semaforët shërbejnë për:
(Rretho dy përgjigje të sakta)

a) rregullimin e komunikacionit,
 b) tregojnë për punime dhe pengesa në rrugë,
 c) japin lajmrime,
 d) paraqesin automjetet,
 e) dhënien e shenjave të porosive me përmbajtje të ndryshme.

3

390. Shenjat në rrugë („Shigjetat“) shërbejnë për:



a) tregojnë kahjen e obliguar apo kahjet e lëvizjes së automjeteve,
 b) informojnë vozitësit për drejtimin e korsisë së komunikacionit,
 c) tregojnë devijimet në komunikacion.

2

387. Sistemet për dhënien e sinjaleve ndriçuese janë:

a) shenjat ndriçuese në rrugë,
 b) shenjat e porosive me përmbajtje të ndryshme,
 c) semaforët.

3

391. Shenja ndriçuese e komunikacionit – drita e kuqe e semaforit dmth:

a) ndalim kalimi,
 b) ndalim kalimi përveç në rastin kur automjeti nuk mundet të ndalet para shenjës në fjalë,
 c) lejohet kalimi për të gjithë pjesmarrësit në komunikacion por të lëvizin me kujdesshmëri të madhe.

3

388. Shenja e tërthortë në rrugë e paraqitur në foto („Vija e tërthortë“) tregon:



a) pjesën e sipërfaqes së rrugës e dedikuar për ndaljen dhe parkimin e automjeteve,
 b) vendi i hapjes së korsisë së komunikacionit,
 c) vendi i mbylljes së korsisë së komunikacionit.

2

392. Shenja në rrugë e paraqitur në foto („Shigjetat“) shërben për:



a) tregon kahjen e lëvizjes për në garazhë,
 b) paralajmron për afërsinë e vijës së pandërprerë,
 c) spostim në komunikacion.

2

393. Shenja në rrugë e paraqitur në foto („Fushat për drejtimin e komunikacionit“) tregon:



a) sipërfaqen ku ndalohet komunikacioni dhe në të cilën nuk është e lejuar ndalja dhe parkimi,
 b) sipërfaqen ku lejohet komunikacioni dhe në të cilën nuk është e lejuar ndalja dhe parkimi,
 c) sipërfaqen ku ndalohet komunikacioni dhe në të cilën lejohet ndalja dhe parkimi.

2

397. Shenja ndriçuese në komunikacion e paraqitur në foto, dmth:



a) ndalohet kalimi,
 b) lejohet kalimi,
 c) obligon të gjithë pjesmarrësit në komunikacion të lëvizin me kujdesshmëri të lartë.


3

394. Shenja ndriçuese e komunikacionit – drita e gjelbërt e semaforit, dmth:

a) ndalohet kalimi,
 b) lejohet kalimi,
 c) obligon pjesmarrësit në komunikacion të lëvizin me kujdes të madhe.

3

398. Shenja ndriçuese në komunikacion e paraqitur në foto, tregon:



a) lejohet kalimi dhe paralajmrim se së shpejti do të ndizet drita e kuqe,
 b) lejohet kalimi,
 c) ndalohet kalimi përveç në rastin kur automjeti nuk mund të ndalet me kohë para shenjës së caktuar.

3

395. Shenja ndriçuese e komunikacionit – njëkohësisht të ndezura drita e kuqe dhe e verdhë në semafor, dmth:

a) lejohet kalimi për pjesmarrësit në komunikacion por të lëvizin me kujdesje të madhe,
 b) ndalohet kalimi dhe paralajmrim se do të ndizet drita e gjelbërt,
 c) lejohet kalimi dhe paralajmrim se do të ndizet drita e kuqe.

3

396. Shenja ndriçuese e komunikacionit – njëkohësisht të ndezura drita e kuqe dhe e verdhë me simbolin e një apo më shumë shigjetave në semafor, dmth:

a) lejohet kalimi në kahjen e treguar me shigjetë apo kahjeve të treguara me shigjeta duke i obliguar pjesmarrësit në komunikacion të lëvizin me kujdesë,
 b) ndalohet kalimi në kahjen e treguar me shigjetë apo kahjeve të treguara me shigjeta dhe paralajmrim që do të ndizet drita e gjelbërt,
 c) lejohet kalimi në kahjen e treguar me shigjetë apo kahjet e treguara me shigjeta dhe paralajmrim që së shpejti do të ndizet drita e kuqe.

3

399. Shenja ndriçuese në komunikacion – drita e gjelbërt vezulluese me simbolin e një apo më shumë shigjetave të semaforit, tregon:

a) lejohet kalimi në kahjen e treguar me shigjetë ose kahjet e treguara me shigjeta dhe paralajmrim se ky kalim së shpejti do të mbyllet me ndezjen e dritës së verdhë, pastaj dritës së kuqe,
 b) ndalohet kalimi në kahjen e treguar me shigjetë ose kahjet e treguara me shigjeta përveç në rastin kur automjeti nuk mund të ndalet me kohë para shenjës së caktuar,
 c) ndalohet kalimi në kahjen e treguar me shigjetë ose kahjet e treguara me shigjeta.

3

400. Shenja ndriçuese në komunikacion e paraqitur në foto tregon:



a) ndalohet kalimi,
b) ndalohet kalimi në kahjen e treguar përveç në rastin kur automjeti nuk mund të ndalet me kohë para shenjës së caktuar,
c) lejohet kalimi për të gjithë pjesmarrësit në komunikacion por të lëvizin me kujdesshmëri të lartë.

3

403. Shenja ndriçuese e komunikacionit – drita e verdhë vezulluese e semaforit tregon:

a) obligon të gjithë pjesmarrësit në komunikacion të lëvizin me kujdesshmëri të lartë,
b) ndalohet kalimi përveç në rastin kur automjeti nuk mund të ndalet me kohë para shenjës së caktuar,
c) ndalohet kalimi.

3

404. Shenja ndriçuese e komunikacionit – drita e gjelbërt vezulluese e semaforit tregon:

a) lejohet kalimi dhe paralajmrim që së shpejti mbyllet kalimi me ndezjen e dritës së verdhë pastaj të kuqes,
b) ndalohet kalimi përveç në rastin kur automjeti nuk mund të ndalet me kohë para shenjës së caktuar,
c) ndalohet kalimi.

3

401. Shenja ndriçuese e komunikacionit e paraqitur në foto tregon:



a) ndalohet kalimi dhe paralajmrim se së shpejti do të ndizet drita e gjelbërt,
b) lejohet kalimi por jeni të obliguar të lëvizini me kujdesshmëri të lartë,
c) lejohet kalimi dhe paralajmrim se së shpejti do të ndizet drita e kuqe.

3

405. Shenja ndriçuese e komunikacionit e paraqitur në foto tregon:



a) lejohet kalimi vetëm në kahjen e treguar me shigjetë,
b) lejohet kalimi por së pari duhet ti lëshoni të gjithë automjetet që vijnë nga kahja e kundërt, përkatsisht automjetet që lëvizin rrugës ku kyçeni,
c) jeni të obliguar të lëvizini me kujdesshmëri të lartë.

3

406. Në situatën e paraqitur në foto shenjat ndriçuese të komunikacionit lejojnë lëvizjen:




a) vetëm drejtë,
b) vetëm majtas,
c) drejtë dhe majtas,
d) në të gjitha kahjet.

3


402. Shenja ndriçuese e komunikacionit – drita e gjelbërt me simbolin e një apo më tepër shigjetave të semaforit tregojnë:

a) lejohet kalimi vetëm në kahjen e treguar me shigjetë apo kahjet e treguar me shigjeta,
b) lejohet kalimi por së pari duhet lëshuar të gjitha automjetet që vijnë nga kahja e kundërt dhe automjetet që lëvizin në rrugën në të cilën kyçeni,
c) obligon të gjithë pjesmarrësit në komunikacion që lëvizin në kahjen e treguar me shigjetë apo shigjeta që të lëvizin me kujdesshmëri të lartë.

3

407.	Në situatën e paraqitur në foto shenja ndriçuese e komunikacionit që rregullon kthimin majtas në udhëkryq tregon:
	
<p>a) lejohet kalimi në kahjen e treguar me shigjetë dhe paralajmrohemi se së shpejti ndizet drita e kuqe, b) lejohet kalimi në kahjen e treguar me shigjetë, c) ndalohet kalimi përveç në rastin kur automjeti nuk mund të ndalet me kohë para shenjës së caktuar.</p>	
3	

409.	Shenja ndriçuese e komunikacionit – drita e verdhë me simbolin e një apo më shumë shigjetave të semaforit tregojnë:
<p>a) lejohet kalimi në kahjen e treguar me shigjetë apo kahjet e treguara me shigjeta dhe paralajmrim që së shpejti do të ndizet drita e kuqe, b) lejohet kalimi në kahjen e treguar me shigjetë apo kahjet e treguara me shigjeta, c) ndalohet kalimi në kahjen e treguar me shigjetë apo kahjet e treguara me shigjeta përveç në rastin kur automjeti nuk mund të ndalet me kohë para shenjës së caktuar.</p>	
3	

410.	Në situatën e paraqitur në foto nga korsia e komunikacionit e dedikuar për lëvizje drejtë dhe kthim majtas me anë të shenjës ndriçuese të komunikacionit:
	
<p>a) lejohet kalimi drejtë dhe majtas, b) nuk lejohet kalimi as drejtë as majtas, c) lejohet kalimi drejtë me kujdesshmëri të lartë por nuk lejohet kthimi majtas.</p>	
3	


408.	Shenja ndriçuese e komunikacionit e paraqitur në foto tregon:
	
<p>a) ndalohet kalimi në kahjen e treguar me shigjetë përkatsisht kahjet e treguara me shigjeta, b) ndalohet kalimi përveç në rastin kur automjeti nuk mund të ndalet me kohë para shenjës së caktuar, c) lejohet kalimi në kahjen e treguar me shigjetë apo kahjet e treguara me shigjeta dhe obligon të gjithë pjesmarrësit në komunikacion të lëvizin me kujdesshmëri të lartë.</p>	
3	

411.	Shenja ndriçuese e komunikacionit – drita e kuqe me simbolin e një apo më shumë shigjetave të semaforit tregojnë:
<p>a) ndalohet kalimi në kahjen e treguar me shigjetë apo kahjet e treguara me shigjeta, b) ndalohet kalimi në kahjen e treguar me shigjetë apo kahjet e treguara me shigjeta përveç në rastin kur automjeti nuk mund të ndalet me kohë para shenjës së caktuar, c) lejohet kalimi në kahjen e treguar me shigjetë apo kahjet e treguara me shigjeta dhe obligon të gjithë pjesmarrësit në komunikacion të lëvizin me kujdesshmëri të lartë.</p>	
3	

412.	Shenja ndriçuese e komunikacionit – drita e verdhë vezulluese me simbolin e një apo më shumë shigjetave të semaforit tregon:
<p>a) obligon pjesmarrësit në komunikacion të lëvizin me kujdesshmëri të lartë, b) ndalohet kalimi në kahjen e treguar me shigjetë apo kahjet e treguara me shigjeta përveç kur automjeti nuk mund të ndalet me kohë para shenjës së caktuar, c) ndalohet kalimi në kahjen e treguar me shigjetë apo me shigjeta.</p>	
3	

413.	<p>Shenja ndriçuese e komunikacionit në formën e shigjetës së gjelbërt (shenja e kushtëzuar) që i është shtuar semaforit me dritat tringjyrëshe në të cilën janë të ndezura dritat e kuqe dhe e verdhë tregojnë:</p> <p>a) lejohet kalimi në kahjen e treguar me shigjetë ku automjetet që lëvizin në atë drejtim kanë përparsi kalimi në raport me të gjithë automjetet tjerë,</p> <p>b) lejohet kalimi vetëm në kahjen e treguar me shigjetë ku duhet të lëshohen këmbësorët si dhe të gjithë automjetet që lëvizin rrugës në të cilën kyçeni,</p> <p>c) lejohet kalimi në kahjen e treguar me shigjetë vetëm për automjetet për bartjen publike të udhëtarëve.</p>	3
------	---	---

<p>417. Në situatën e paraqitur në foto lëvizjen mund ta vazhdoni:</p> 	<p>a) rrugëve me nr 1 edhe 2, b) vetëm rrugës me nr 1, c) rrugëve 1, 2 dhe 3.</p>	3
---	---	---


414.	<p>Shenja ndriçuese e komunikacionit e paraqitur në foto tregon:</p> 	3
	<p>a) lejohet kalimi në kahjen e treguar me shigjetë ku automjetet që lëvizin në atë drejtim kanë përparsi kalimi në raport me të gjithë automjetet tjerë,</p> <p>b) lejohet kalimi vetëm në kahjen e treguar me shigjetë ku duhet të lëshohen të gjithë automjetet që lëvizin rrugës ku kyçeni si dhe këmbësorët që kalojnë rrugën,</p> <p>c) lejohet kalimi në kahjen e treguar me shigjetë vetëm për automjetet për bartjen publike të udhëtarëve.</p>	3


<p>418. Shenja ndriçuese e komunikacionit – shigjeta e verdhë vezulluese e paraqitur në foto tregon:</p> 	<p>a) patjetër ta ndrroni korsinë e komunikacionit mbi të cilën është shenja, përkatsisht korsisë së komunikacionit në të cilën është shenja dhe patjetër të lëvizni korsisë së komunikacionit në të cilën ju drejton shigjeta,</p> <p>b) fillimi i korsisë së komunikacionit i dedikuar për lëvizjen e automjeteve për bartjen publike të udhëtarëve,</p> <p>c) obligim për të gjithë pjesmarrësit në komunikacion që të lëvizin me kujdesshmëri të lartë.</p>	3
--	---	---


415.	<p>Gjatë arritjes në vendin në të cilin zhvillohen punime në rrugë, vozitësi: (Rretho dy përgjigje të sakta)</p> <p>a) nuk e ka patjetër të veproj sipas shenjave që i jep puntori i caktuar nga ana e punëkryesit por vetëm sipas sinjalizimit të vendosur në komunikacion,</p> <p>b) duhet ta largoj automjetin vetëm me kërkesë të policisë së komunikacionit,</p> <p>c) nuk guxon ti pengoj puntorët që kryejnë punime në rrugë apo skaj rrugës,</p> <p>d) është i obliguar ta largoj automjetin me kërkesë të punëkryesit.</p>	2
------	---	---

<p>419. Shenja ndriçuese e komunikacionit e paraqitur në foto tregon:</p> 	<p>a) ndalje e detyrueshme për automjetet në vendin ku është e vendosur shenja,</p> <p>b) ndalohet lëvizja e automjeteve përgjatë korsisë së komunikacionit mbi të cilën është shenja, përveç automjeteve për bartjen publike të udhëtarëve,</p> <p>c) ndalohet lëvizja e automjeteve përgjatë korsisë së komunikacionit mbi të cilën është shenja.</p>	3
---	---	---

416.	<p>Në semaforët me drita tringjyrëshe me anë të cilëve rregullohet lëvizja e automjeteve, ku dritat vendosen në mënyrë vertikale njëra nën tjetrën, renditja e tyre është:</p> <p>a) e kuqja e lartë, e verdha në mes, e gjelbërta poshtë,</p> <p>b) e gjelbërta lart, e verdhë në mes, e kuqja poshtë,</p> <p>c) e kuqja lart, e gjelbërta në mes, e verdha poshtë.</p>	3
------	--	---


420.	Shenja ndriçuese e komunikacionit – shigjeta e verdhë vezulluese e paraqitur në foto tregon:
	
	<p>a) obligim për të gjithë pjesëmarrësit në komunikacion që të lëvizin me kujdesshmëri të lartë,</p> <p>b) patjetër ta ndrroni korsinë e komunikacionit mbi të cilën është shenja, përkatsisht korsisë së komunikacionit në të cilën është shenja dhe patjetër të lëvizni korsisë së komunikacionit në të cilën ju drejton shigjeta,</p> <p>c) fillimi i korsisë së komunikacionit i dedikuar për lëvizjen e automjeteve për bartjen publike të udhëtarëve.</p>
3	

421.	Shenja ndriçuese e komunikacionit e paraqitur në foto tregon:
	
	<p>a) patjetër ta ndrroni korsinë e komunikacionit mbi të cilën është shenja, përveç automjeteve për bartjen publike të udhëtarëve,</p> <p>b) kalim i lirë përgjatë korsisë së komunikacionit mbi të cilën është shenja,</p> <p>c) kalim i lirë vetëm për tramvaj.</p>
3	

422.	Shenja ndriçuese me numra e komunikacionit e paraqitur në foto tregon:
	
	<p>a) shpejtësia e rekomanduar me të cilën automjeti duhet të lëviz që në semaforin e ardhshëm të ket kalim të lirë,</p> <p>b) shpejtësia më e madhe e lejuar për lëvizjen e automjetit,</p> <p>c) shpejtësia më e vogël e lejuar.</p>
3	

423.	Në semaforat me drita tringjyreshë me të cilat rregullohet komunikacioni, kur dritat vendosen horizontalisht njëra pranë tjetrës, renditja e tyre është:
	<p>a) e gjelbërta majtas, e verdha në mes, e kuqja djathtas,</p> <p>b) e kuqja majtas e gjelbërta në mes, e verdha djathtas,</p> <p>c) e kuqja majtas, e verdha në mes, e gjelbërta djathtas.</p>
3	

424.	Shenja ndriçuese e komunikacionit – drita e verdhë e semaforit tregon:
	<p>a) lejohet kalimi dhe paralajmrim se së shpejti do të ndizet drita e kuqe,</p> <p>b) lejohet kalimi,</p> <p>c) ndalohet kalimi, përveç në rastin kur automjeti nuk mund të ndalet me kohë para shenjës së caktuar.</p>
3	

425.	Semafori i paraqitur në foto është i dedikuar për:
	
	<p>a) rregullon lëvizjen e motoçikletave, mopedit dhe biçikletave në korsitë për biçikleta,</p> <p>b) rregullon lëvizjen e biçikletave dhe mopedit në korsinë për biçikleta,</p> <p>c) rregullon lëvizjen e motoçikletave, mopedit dhe biçikletave në shtegun për biçikleta.</p>
3	


426.	Shenja ndriçuese e komunikacionit e paraqitur në foto tregon:
	
	<p>a) lejohet kalimi për këmbësorë,</p> <p>b) ndalohet kalimi për këmbësorë.</p>
3	

427.	Shenja ndriçuese e komunikacionit e paraqitur në foto tregon:
	
	<p>a) lejohet kalimi për këmbësorë,</p> <p>b) ndalohet kalimi për këmbësorë.</p>
3	

428.	Vija horizontale e aktivizuar e vendosur në sistemin me drita për rregullimin e lëvizjes së tramvajit tregon:
	<p>a) ndalohet qarkullimi tramvajit,</p> <p>b) kalim i lirë për tramvajin në kahje në që e përcakton vija,</p> <p>c) arritja në udhëkryq në të cilin tramvaji mund të lëviz vetëm në kahjen që e përcakton vija.</p>
3	

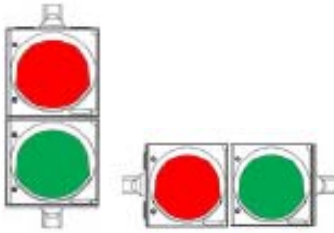
429.	Në hyrje të udhëkryqit me shumë korsi komunikacioni:	
	a) semafori vendoset vetëm nga ana e djathtë e rrugës,	3
	b) semaforët që tregojnë sinjalet e njejtja vendosen nga ana e djathtë dhe nga ana e majtë e rrugës (përsëritësi), sipas nevojës dhe në tabelën mbështetëse,	
	c) semaforët gjithmonë vendosen nga ana e djathtë dhe në tabelat mbi korsitë e komunikacionit.	

430.	Sistemi për rregullimin e lëvizjes së tramvajit:	
	a) shërben enkas për rregullimin e lëvizjes së tramvajit,	3
	b) shërben edhe për rregullimin e lëvizjes së automjeteve për bartjen publike të udhëtarëve, vetëm kur ato lëvizin korsisë së komunikacionit së cilës lëviz edhe tramvaji,	
	c) shërben për rregullimin e lëvizjes së automjeteve për bartjen publike të udhëtarëve në korsitë e komunikacionit ku lëviz edhe tramvaji, ndërsa ato korsi janë të dedikuara vetëm për lëvizjen e automjeteve për bartjen publike të udhëtarëve.	

431.	Shenja që jep sistemi i dritave për rregullimin e lëvizjes së tramvajit e paraqitur në foto tregon:	
		3
	a) ndalohet kalimi i tramvajit,	
	b) lejohet kalimi i tramvajit në drejtimin që tregon vija,	
	c) drejtimin e binarëve të tramvajit në udhëkryq në të cilin është i vendosur sistemi.	

432.	Vija e aktivizuar e drejtë dhe e pjerrtë ose kombinimi i tyre në sistemet e dritave për rregullimin e lëvizjes së tramvajit tregon:	
	a) ndalohet qarkullimi i tramvajit,	3
	b) lejohet kalimi në kahjen e caktuar,	
	c) drejtimin e binarëve të tramvajit në udhëkryqin e caktuar.	

433.	Në situatën e paraqitur në foto shenja që jep sistemi i dritave për rregullimin e lëvizjes së tramvajit tregon:	
		3
	a) ndalohet kalimi i tramvajit,	
	b) lejohet kalimi i tramvajit në kahjen e caktuar,	
	c) drejtimi i binarëve të tramvajit në udhëkryqin e caktuar.	

434.	Semaforët e paraqitur në foto janë të dedikuar për:	
		3
	a) rregullimin e komunikacionit për automjete,	
	b) rregullimi i lëvizjes së biçikletave në korsinë e tyre,	
	c) rregullimi i lëvizjes së tramvajit.	

435.	Në situatën e paraqitur në foto shenjat ndriçuese për rregullimin e lëvizjes:	
		3
	a) jep vetëm semafori në anën e majtë të rrugës,	
	b) jep vetëm semafori në anën e djathtë të rrugës,	
	c) japin semaforët nga të dy anët, dhe semafori lartë në shtyllën mbështetëse.	

436.	Shenjat ndriçuese në rrugë jasht vendbanimit që tregojnë vijën e majtë të rrugës dhe reflektojnë me ngjyrë të bardhë janë:	
	a) treguesit skajor të rrugës,	2
	b) shenja për shënimin e skajit të rrugës,	
	c) shenja e komunikacionit.	

437.	Shenjat ndriçuese në rrugë jasht vendbanimit që tregojnë vijën e djathtë të rrugës dhe reflektojnë me ngjyrë të kuqe janë:	
	a) treguesit skajor të rrugës,	2
	b) shenjat për shënimin e skajit të rrugës,	
	c) shenjat e komunikacionit.	

438.	Shenjat ndriçuese në rrugë jasht vendbanimit tregojnë:	
	a) skajin e rrugës,	2
	b) vendin ku rruga kalon përtej binarëve të tramvajit në nivel,	
	c) profili i lir rrugor.	


439. Shenja ndriçuese në rrugë jasht vendbanimit e paraqitur në foto tregon:



a) shenja që tregon skajin e rrugës,
b) shtylla e shenjës së komunikacionit,
c) treguesit skajor në rrugë.

2

444. Shenjat ndriçuese në rrugë e paraqitur në foto tregon:



a) treguesit skajor në rrugë,
b) shenja që shënon vijën skajore të rrugës,
c) tabela që tregon majën e ishullit të ndarë.

2

440. Shenja ndriçuese në rrugë jasht vendbanimit e paraqitur në foto tregon:



a) treguesi skajor që tregon anën e djathtë të rrugës,
b) treguesi skajor që tregon anën e majtë të rrugës,
c) shenja e komunikacionit.

2

445. Në majën e tabelës që tregon majën e ishullit të ndarë vendosen shenjat e komunikacionit që tregojnë:

a) pengesat në rrugë dhe vendi ku kryhen punime në rrugë,
b) rrugën ose pjesën e rrugës së cilës automjetet duhen ose mundën të lëvizin gjatë anashkalimit të ishullit për këmbësorë, ishullit për orientimin e komunikacionit dhe objekteve tjerë në rrugë,
c) rrugë apo pjesë e rrugës ku ndalohe komunikacioni për të gjithë automjetet në të dy kahjet.

2

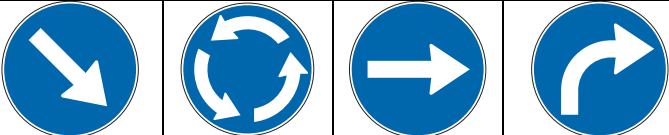
441. Shenja ndriçuese në rrugë jasht vendbanimit e paraqitur në foto tregon:



a) treguesi skajor që tregon anën e djathtë të rrugës,
b) treguesi skajor që tregon anën e majtë të rrugës,
c) shenja e komunikacionit.

2

446. Cila shenjë e komunikacionit nga shenjat e paraqitura në foto vendoset në majën e tabelës që tregon majën e ishullit të ndarë:
(Rretho dy përgjigje të sakta)



a) 1, b) 2, c) 3, d) 4.

2

442. Shenja ndriçuese në formë të shkopinjëve me ngjyra të kuqe dhe të verdha që tregojnë skajin e rrugës jasht vendbanimi janë:

a) treguesit skajor në rrugë,
b) shenjat që shënojnë vijën skajore të rrugës,
c) shenjat e komunikacionit.

2

447. Ndezja alternative e dy dritave të rrumbullakta në semafor të paraqitura në foto tregojnë:
(Rretho tri përgjigje të sakta)



a) afërsia në vendin ku rruga kalon përtej binarëve të tramvajit në nivel,
b) afrimi i trenit,
c) lëshimi i mbrojtëses apo gjysëm mbrojtëses,
d) afërsia e kryqëzimit ku komunikacioni është i rregulluar me semafor,
e) mbrojtësja apo gjysëm mbrojtësja është e lëshuar,
f) afërsia e udhëkryqit të rrezikshëm.

2

443. Shenja ndriçuese në formë të tabelës e ngjyrosur me fusha ngjyrë kuqe dhe të verdhë është:

a) treguesit skajor në rrugë,
b) shenja që shënon vijën skajore të rrugës,
c) tabela që tregon majën e ishullit të ndarë.

2


448. Në situatën e paraqitur në foto sistemet me të cilat ndalohet apo pengohet kalimi i automjeteve janë:



a) mbrojtëset,
b) gjysëm mbrojtëset,
c) shiriti pengues.

2

452. Paisja e paraqitur në foto („Mbrojtësja orientuese“):



a) tregon vendin në rrugë me kthesë të rrezikshme,
b) tregon rrugën njëkahëshe,
c) tregon pengesën në rrugë dhe vendin ku kryhen punime dhe shërben për mbylljen e rrugës apo korsisë së komunikacionit.

2

449. Në situatën e paraqitur në foto sistemet që ndalojnë apo pengojnë kalimin e automjeteve janë:



a) mbrojtëset,
b) gjysëm mbrojtëset,
c) shiriti pengues.


2

453. Në pjesën e rrugës me pengesa apo dëmtime në rrugë të cilat nuk mund të evitohen menjëherë apo rrugë ku kryhen punime, pjesmarrësit në komunikacion duhen të jen të siguar me vendosjen e:

a) mbrojtëses,
b) trekëndëshit të sigurisë,
c) mjete të ndryshme (gomat e vjetra, degët e drurëve, etj).

2

454. Paisja e paraqitur në foto („Mbrojtësja ballore“):



a) tregon vijën e majtë të rrugës jashtë vendbanimit,
b) tregon ndalimin e kalimit të automjeteve përtej hekurudhës,
c) tregon pengesën në rrugë dhe vendin ku kryhen punime dhe shërben për mbylljen e rrugës apo korsinë e komunikacionit.


2

450. Sinjalizimi i përkohshëm i komunikacionit përdoret për:

a) përafërsisht përcakton kuptimin e shenjës së komunikacionit pranë së cilës është vendosur,
b) njoftimi dhe referimi i shfrytëzuesve deri tek destinacioni turistik,
c) shënon pengesat në rrugë dhe vendin ku kryhen punime në rrugë.

2


451. Paisja e paraqitur në foto („Mbrojtësja ballore“):



a) tregon vijën e djathtë të rrugës jashtë vendbanimit,
b) tregon ndalimin për kalim të automjeteve përtej hekurudhës,
c) tregon pengesën në rrugë dhe vendin ku kryhen punime dhe shërben për mbylljen e rrugës apo korsisë së komunikacionit.

2

455. Paisja e paraqitur në foto („Mbrojtësja orientuese“):



a) tregon vendin në rrugë me kthesë të rrezikshme,
b) tregon pengesën në rrugë dhe vendin ku kryhen punime dhe shërben për mbylljen e rrugës apo korsinë e komunikacionit,
c) tregon rrugën njëkahëshe.

2

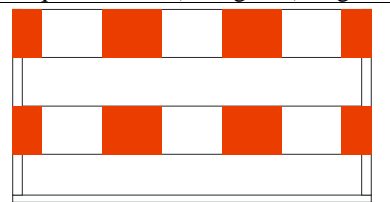
456. Në situatën e paraqitur në foto paisjet e vendosura tregojnë:



- a) pengesën në rrugë përkatsisht vendin ku kryhen punime në rrugë dhe anashkalimi bëhet nga ana e djathtë,
- b) vendi në rrugë me kthesë të rrezikshme,
- c) rrugë njëkahëshe.

2

459. Paisja e paraqitur në foto („Pengesë“) tregon:



- a) skajin e rrugës jasht vendbanimit,
- b) ndalimin dhe pengimin e kalimit të automjeteve përtej hekurudhës,
- c) anët e skajshme të punimeve në rrugë apo pengesave të përkohshme në rrugë në vendet ku bëhet mbyllja e tërsishme e komunikacionit.

2

457. Në situatën e paraqitur në foto paisjet e vendosura tregojnë:



- a) pengesën në rrugë përkatsisht vendin ku kryhen punime në rrugë dhe anashkalimi bëhet nga ana e majtë,
- b) vendi në rrugë me kthesë të rrezikshme,
- c) rrugë njëkahëshe.

2

460. Paisja e paraqitur në foto („Pengesë vertikale“) tregon:



- a) skajin e rrugës jasht vendbanimit,
- b) majën e ishullit të ndarë,
- c) anët e skajshme të vendit të punimeve në rrugë që anashkalohe nga ana e majtë.

2

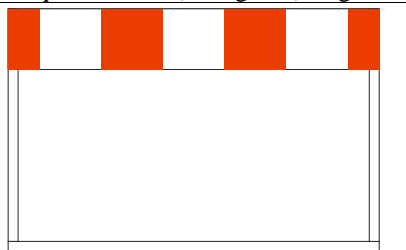
461. Në situatën e paraqitur në foto paisjet e vendosura tregojnë:



- a) skajin e rrugës jasht vendbanimit,
- b) majën e ishullit të ndarë,
- c) anët e skajshme të vendit të punimeve në rrugë që anashkalohe nga ana e majtë.

2

458. Paisja e paraqitur në foto („Pengesë“) tregon:



- a) skajin e rrugës jasht vendbanimit,
- b) ndalimin dhe pengimin e kalimit të automjeteve përtej hekurudhës,
- c) anët e skajshme të punimeve në rrugë apo pengesave të përkohshme në rrugë në vendet ku bëhet mbyllja e tërsishme e komunikacionit.

2

462. Paisja e paraqitur në foto („Pengesë vertikale“) tregon:



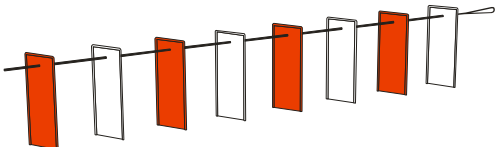
- a) skajin e rrugës jasht vendbanimit,
- b) majën e ishullit të ndarë,
- c) anët e skajshme të vendit të punimeve në rrugë që anashkalohe nga ana e djathtë.

2



Është i ndaluar shfrytëzimi, përdorimi apo shumimi i përkohshëm ose i përhershëm i bazave të të dhënave të pyetjeve të provimit ose pjesëve të saj, me çdo mjet apo në çdo formë, **në baza komerciale**

463. Paisja e paraqitura në foto („Litari pengues“) tregon:



a) vija e vendit të punimeve përkatsisht hapsira me pengesa të përkohshme në rrugë,
 b) ndalimin dhe pengimin e kalimit të automjetit përtej hekurudhës,
 c) vendi në rrugë ku është i parkuar „automjeti i rëndë“.

2


464. Në situatën e paraqitur në foto paisjet e vendosura tregojnë:



a) skajin e rrugës jasht vendbanimit,
 b) majën e ishullit të ndarë,
 c) anët e skajshme të vendit të punimeve në rrugë që anashkalohen nga ana e djathtë.

2


465. Paisja e paraqitur në foto („Litari pengues“) tregon:



a) vija e vendit të punimeve në rrugë përkatsisht hapsirës me pengesa të përkohshme në rrugë,
 b) ndalimin e kalimit të automjeteve përtej hekurudhës,
 c) vendi në rrugë ku është i parkuar „automjeti i rëndë“.

2

466. Paisja e paraqitur në foto („Kupa e komunikacionit“) tregon:



a) vendi në rrugë ku kryhen punime të përkohshme,
 b) maja e ishullit të ndarë,
 c) vendi në rrugë ku është i parkuar „automjeti i rëndë“.

2

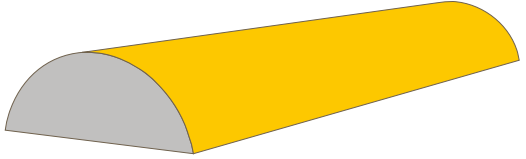
467. Paisja e paraqitur në foto („anësori montuese“) - (i lëvizshëm) tregon:



a) vendin në rrugë ku janë vendosur elemente për ngadalsimin e komunikacionit,
 b) skajin e rrugës automobilistike në rrugët në vendbanim,
 c) sipërfaqen e rrugës e cila është e destinuar për lëvizjen e automjeteve në zonat e punimeve në rrugë.

2

468. Paisja e paraqitur në foto („anësorët montuese“) tregon:



a) vendin në rrugë ku janë vendosur elementet për ngadalsimin e komunikacionit,
 b) vijën e skajshme të rrugës automobilistike në rrugët në vendbanim,
 c) sipërfaqen e rrugës e cila është e destinuar për lëvizjen e mjeteve në zonat ku kryhen punimet në rrugë.

2

469. Paisja e paraqitur në foto („Rrethorja ndarëse“) tregon:



a) vendi në rrugë ku janë elementet për ngadalsim të komunikacionit,
 b) vendi në rrugë ku patjetër duhet të bëhet ndarja e kahjeve të kundërta dhe ndarjen e sipërfaqes së rrugës në të cilën është e lejuar lëvizja nga sipërfaqja e rrugës ku lëvizja e automjeteve është e ndaluar,
 c) vendi i ndarjes së vendparkimit prej korsisë për ndalje.

2



470. Paisja e paraqitur në foto („Delineatori“) përdoret për:



a) shënimin e vendit në rrugë ku kryhen punime të përkohshme,
 b) shënimin e majës së ishullit ndarës,
 c) ndarjen e kahjeve të lëvizjes apo rregullimin e komunikacionit në rast devijimi.

2

474. Tabela sinjalizuese e paraqitur në foto tregon:



a) ndalimin e komunikacionit në rrugë për të gjithë automjetet për shkak të punimeve në rrugë,
 b) punimet e përkohshme lëvizëse në rrugë,
 c) pengesa në rrugë e cila është në korsi në e djathtë të komunikacionit në raport me korsi në ku është e vendosur tabela.

2

471. Në tabelën sinjalizuese me të cilën tregohen punimet e përkohshme lëvizëse në rrugë, vendosen shenjat e komunikacionit dhe semafori i shënuar me nr:
 (Rretho dy përgjigje të sakta)

				
1	2	3	4	5

a) 1, b) 2, c) 3, d) 4, e) 5.

2

475. Tabela sinjalizuese e paraqitur në foto vendoset në:



a) „Rrethoren ndarëse“ me anë të cilës komunikacioni është drejtuar në anën e djathtë,
 b) pjesën e prapme të automjetit motorik apo rimorkios kur automjeti është i ndalur,
 c) „Mbrojtësen ballore“ me anë të cilës është rrethuar vend punimi apo pengesa e përkohshme në rrugë nga ana ballore.

2







472. Paisja e paraqitur në foto („Delineatori“) tregon:



a) vendin në rrugë ku kryhen punimet e përkohshme,
 b) majën e ishullit ndarës,
 c) ndarjen e kahjeve të lëvizjes dhe rregullimin e komunikacionit në rast devijimi.

2


476. Në tabelën sinjalizuese e cila tregon punimet e përkohshme lëvizëse në rrugë vendosen shenjat e komunikacionit e shënuara me nr:
 (Rretho tri përgjigje të sakta)

		
1	2	3
		
4	5	6

a) 1, b) 2, c) 3, d) 4, e) 5, f) 6.

2

473. Tabela sinjalizuese e paraqitur në foto tregon:





a) punimet e përkohshme lëvizëse në rrugë,
 b) pengesa në rrugë e cila është në korsi në e djathtë të komunikacionit në raport me korsi në ku është e vendosur tabela,
 c) ndalimin e komunikacionit në rrugë për të gjithë automjetet për shkak të punimeve në rrugë.

2

477.	Në pjesën e rrugës ku kryhen punime, rregullimin e komunikacionit mund ta bëjnë së paku dy puntorë të përcaktuar nga ana e punëkryesit të cilt japin shenjat:	
	<ul style="list-style-type: none"> a) me anë të flamujve me ngjyrë të kuqe dhe gjelbërt, ku flamuri ngritur i kuq tregon se ndalohet kalimi, ndërsa flamuri i ngritur i gjelbërt tregon se lejohet kalimi, b) vetëm me flamurin me ngjyrë të kuqe ku flamuri i ngritur tregon ndalimin ndërsa flamuri i lëshuar tregon kalimin, c) vetëm me flamurin me ngjyrë të gjelbërt ku flamuri i ngritur tregon kalimin ndërsa flamuri i lëshuar tregon ndalimin. 	2


478.	Në situatën e paraqitur në foto puntori i punimeve jep shenjë me anë të flamurit që tregon:	
		
	<ul style="list-style-type: none"> a) lejohet kalimi por nuk është i detyrueshëm për ju, b) vendi ku duhet të ndaloni, c) lejohet kalimi dhe është i detyrueshëm për ju. 	2

479.	Në situatën e paraqitur në foto puntori i punimeve jep shenjë me anë të flamurit që tregon:	
		
	<ul style="list-style-type: none"> a) duhet ta ngadalsoni shpejtësinë, b) lejohet kalimi, c) vendi ku duhet të ndaloni. 	2

480.	Në situatën e paraqitur në foto puntori i punimeve jep shenjë me anë të flamurit që tregon:	
		
	<ul style="list-style-type: none"> a) ndalohet kalimi por nuk është i detyrueshëm për ju nëse korsia e hapur e komunikacionit nuk është e zënë nga automjetet e kahjes së kundërt, b) duhet ta ngadalsoni shpejtësinë ose të vazhdoni lëvizjen nëse korsia e hapur e komunikacionit nuk është e zënë nga automjetet e kahjes së kundërt, c) ndalohet kalimi dhe është i detyrueshëm për ju. 	2

481.	Në situatën e paraqitur në foto puntori i punimeve jep shenjë me anë të flamurit që tregon:	
		
	<ul style="list-style-type: none"> a) ta ngadalsoni shpejtësinë, b) nuk ju lejohet kalimi, c) nuk ju lejohet kalimi deri sa korsia e hapur e komunikacionit është e zënë nga automjetet e kahjes së kundërt. 	2

482.	Shenjat që jep polici rrugor i cili bën rregullimin dhe kontrollin në komunikacion, jipen: (Rretho tri përgjigje të sakta)	
	<ul style="list-style-type: none"> a) gojarisht, b) me anë të duarve, me pozitën e trupit të policit rrugor, c) me anë të flamurit për rregullimin e komunikacionit, d) me anë të sistemit për dhënie të shenjave ndriçuese dhe të zëshme, e) „stop tabelën“, f) shenjat me përmbajtje të ndryshme të porosive. 	3

483.	Shenja e paraqitur në foto e cila jipet nga polici rrugor tregon që:	
		
	<ul style="list-style-type: none"> a) vozitësit e automjeteve që vijnë nga prapa shpinës dhe përball policit rrugor janë të obliguar ta ndalojnë automjetin, ndërsa vozitësit që vijnë nga krahët kanë të drejt kalimi, b) ndalohet kalimi për të gjithë vozitësit, përveç vozitësve të automjeteve të ciltë në çastin kur polici rrugor ngrit dorën nuk mundën ta ndalojnë në mënyrë të sigurt, për këmbësorët është ndaluar kalimi përtej rrugës, c) vozitësit e automjeteve që vijnë nga prapa shpinës dhe përball policit rrugor janë të obliguar ta zvoglojnë shpejtësinë e lëvizjes. 	3



484. Shenja e paraqitur në foto e dhënë nga polici rrugor i cili gjindet në rrugë tregon:



- a) ndalje e detyruar për të gjithë vozitësit që vijnë nga ana e shuplakës së ngritur dhe gjoksit të policit rrugor,
- b) ndalohet kalimi për të gjithë vozitësit, përveç vozitësve të automjeteve të ciltë në çastin kur polici rrugor ngrit dorën nuk mundën të ndalojnë në mënyrë të sigurt,
- c) vozitësit e automjeteve që vijnë nga prapa shpinës dhe përball policit rrugor janë të obliguar ta ndalojnë automjetin, ndërsa vozitësit që vijnë nga krahet kanë të drejt kalimi.

3

485. Shenja e paraqitur në foto e cila jipet nga polici rrugor tregon:



- a) ndalohet kalimi për të gjithë vozitësit, përveç vozitësve të automjeteve të ciltë në çastin kur polici rrugor ngrit dorën nuk mundën të ndalojnë në mënyrë të sigurtë,
- b) ndalohet kalimi për të gjithë pjesmarrësit në komunikacion kahja e lëvizjes të të cilëve prenë drejtimin e dorës së zgjatur,
- c) detyron vozitësit të lëvizin në kahjen e dorës së zgjatur.

3

486. Në situatën e paraqitur në foto:



- a) jeni të detyruar të ndaleni,
- b) mund ta vazhdoni lëvizjen,
- c) jeni të obliguar ta vazhdoni lëvizjen me shpejtësi të ngadalsuar.

3

487. Në situatën e paraqitur në foto:



- a) nuk lejohet ta vazhdoni lëvizjen nëse drejtimi juaj prenë kahjen e dorës së zgjatur të policit,
- b) mund ta vazhdoni lëvizjen drejt,
- c) jeni të detyruar të lëvizni në kahjen e dorës së zgjatur.

3

488. Në situatën e paraqitur në foto jeni të detyruar që:




- a) ta ngadalsoni shpejtësinë e lëvizjes së automjetit,
- b) ta shpejtoni lëvizjen,
- c) ta afroni automjetin afër personit zyrtar i cili jep shenjën.

3




489. Shenja e policit zyrtar – lëvizja e ngadalsuar lart-posht me dorë të zgjatur në mënyrë horizontale dhe me shuplakë të kthyer poshtë, e paraqitur në foto tregon:



a) vozitësi në drejtim të cilit jepet shenja duhet ta shpejtoj lëvizjen e automjetit,
 b) vozitësi në drejtim të cilit jepet shenja duhet ta afroj automjetin afër udhëkryqit apo personit zyrtar që i jep shenjën,
 c) vozitësi në drejtim të cilit jepet shenja duhet ta ngadasoj shpejtësinë e lëvizjes së automjetit.

3


492. Shenja që i jep polici zyrtar e paraqitur në foto tregon që:



a) vozitësi në drejtim të cilit jepet shenja duhet ta ngadalsoj shpejtësinë e automjetit,
 b) vozitësi në drejtim të cilit jepet shenja duhet ta ndaloj automjetin,
 c) vozitësi në drejtim të cilit jepet shenja duhet ta largoj automjetin nga rruga.

3

490. Në situatën e paraqitur në foto:



a) jeni të detyruar të ndalni,
 b) mund ta vazhdoni lëvizjen,
 c) jeni të obliguar ta vazhdoni lëvizjen me shpejtësi të ngadalsuar.

3

493. Në situatën e paraqitur në foto jeni të obliguar që:



a) ta ngadalsoni shpejtësinë e lëvizjes së automjetit,
 b) ta largoni automjetin nga rruga,
 c) ta ndaloni automjetin.

3

491. Në situatën e paraqitur në foto jeni të detyruar që:



a) ta ngadalsoni shpejtësinë e automjetit,
 b) ta shpejtoni lëvizjen e automjetit,
 c) ta afroni automjetin afër personit zyrtar i cili jep shenjën.

3

494. Në situatën e paraqitur në foto jeni të obliguar që:



a) ta ngadalsoni shpejtësinë e lëvizjes së automjetit,
 b) ta shpejtoni lëvizjen e automjetit,
 c) ta lëvizini automjetin deri tek udhëkryqi apo tek personi zyrtar i cili jep shenjën.

3

495. Në situatën e paraqitur në foto:



a) mund ta vazhdoni lëvizjen drejt pasi ti lëshoni automjetet të cilt lëvizin rrugës që kryqëzohet me kahjen në të cilën lëvizni ju,
 b) mund ta vazhdoni lëvizjen drejt sepse me shenjen e policit zyrtarë ju lejohet kalimi,
 c) jeni të detyruar ta ndaloni automjetin.

3


497. Në situatën e paraqitur në foto:



a) mund ta vazhdoni lëvizjen drejt pasi ti lëshoni automjetet të cilët lëvizin rrugës që kryqëzohet me kahjen në të cilën lëvizni ju,
 b) mund ta vazhdoni lëvizjen drejt sepse me shenjen e policit zyrtarë ju lejohet kalimi,
 c) jeni të detyruar ta ndaloni automjetin.

3


496. Shenja që jep polici zyrtar e paraqitur në foto tregon që:



a) vozitësit me automjetet që vijnë nga krahët duhet ta ndalojnë automjetin, ndërsa vozitësit me automjetet që vijnë prapa shpinës dhe nga ana e gjoksit të policit zyrtar kanë të drejtë kalimi,
 b) vozitësit me automjetet që vijnë nga prapa shpinës dhe nga ana e gjoksit të policit zyrtarë duhen ta ndalojnë automjetin, ndërsa vozitësit me automjetet që vijnë nga krahët e policit kanë të drejtë kalimi,
 c) ndalohet kalimi për të gjithë vozitësit përveç atyre vozitësve me automjete që në momentin kur polici zyrtar ngrit dorën nuk mundën me kohë të ndalojnë.

3


498. Shenja e policit zyrtarë – me dorën e zgjatur horizontalisht dhe me shuplakë të hapur të ngritur lart dhe me lëvizje të dorës para-prapa, e paraqitur në foto tregon:




a) vozitësi në drejtim të cilit jepet shenja duhet ta ngadalsoj shpejtësinë e lëvizjes së automjetit,
 b) vozitësi në drejtim të cilit jepet shenja duhet ta shpejtoj lëvizjen e automjetit,
 c) vozitësi në drejtim të cilit jepet shenja duhet ta lëviz automjetin deri tek udhëkryqi, pëkatsisht deri tek personi zyrtar i cili jep shenjen.

3




499.	Shenja e cila jepet nga polici zyrtar e paraqitur në foto tregon:
	
	<p>a) vozitësit me automjetet që vijnë nga prapa shpinës dhe nga ana e gjoksit të policit zyrtarë duhen ta ndalojnë automjetin, ndërsa vozitësit me automjetet që vijnë nga krahët e policit kanë të drejtë kalimi,</p> <p>b) vozitësit me automjetet që vijnë nga krahët duhet ta ndalojnë automjetin, ndërsa vozitësit me automjetet që vijnë prapa shpinës dhe nga ana e gjoksit të policit zyrtar kanë të drejtë kalimi,</p> <p>c) ndalohet kalimi për të gjithë vozitësit përveç atyre vozitësve me automjete që në momentin kur polici zyrtar ngrit dorën nuk mundën me kohë të ndalojnë.</p>

3

500.	Shenja e policit zyrtarë – me dorën e zgjatur horizontalisht të përlulur deri në bryl dhe me shuplakë të hapur me lëvizje rrethore të dorës, e paraqitur në foto tregon:
	
	<p>a) vozitësi në drejtim të cilit jepet shenja duhet ta ngadalsoj shpejtësinë e lëvizjes së automjetit,</p> <p>b) vozitësi në drejtim të cilit jepet shenja duhet ta lëviz automjetin deri tek udhëkryqi, përkatsisht deri tek personi zyrtar i cili jep shenjën,</p> <p>c) vozitësi në drejtim të cilit jepet shenja duhet ta lëviz automjetin deri tek udhëkryqi, përkatsisht deri tek personi zyrtarë i cili jep shenjën.</p>

3

501.	Në situatën e paraqitur në foto:
	
	<p>a) jeni të detyruar ta lëvizni automjetin deri në udhëkryq apo deri tek personi zyrtar i cili jep shenjën,</p> <p>b) mund ta vazhdoni lëvizjen drejtë,</p> <p>c) jeni të detyruar ta ndaloni automjetin.</p>

3

502.	Polici zyrtar, shenjën e caktuar me të cilën ju detyron ta ngadalsoni shpejtësinë e lëvizjes:
	<p>a) mund ta jap edhe nga automjeti, përkatsisht nga motoçikleta kur polici zyrtar apo automjeti i tij është në vend të dukshëm,</p> <p>b) nuk mund ta jap nga automjeti apo nga motoçikleta,</p> <p>c) mund ta jap vetëm nga automjeti me përparsi kalimi.</p>

3

503.	Polici zyrtar, shenjën e caktuar me të cilën ju detyron ta shpejtoni lëvizjen:
	<p>a) mund ta jap vetëm nga automjeti me përparsi kalimi,</p> <p>b) mund ta jap edhe nga automjeti, përkatsisht nga motoçikleta kur polici zyrtar apo automjeti i tij është në vend të dukshëm,</p> <p>c) nuk mund ta jap nga automjeti apo nga motoçikleta.</p>

3

504.	Polici zyrtar, shenjën e caktuar me të cilën ju detyron ta ndaloni automjetin:
	<p>a) mund ta jap edhe nga automjeti, përkatsisht nga motoçikleta kur polici zyrtar apo automjeti i tij është në vend të dukshëm,</p> <p>b) nuk mund ta jap nga automjeti apo nga motoçikleta,</p> <p>c) mund ta jap vetëm nga automjeti me përparsi kalimi.</p>

3

505.	Shenjat me fishkëllimë që jepen në kombinim me shenjat të cilat jepen me anë të duarve, polici zyrtar mund ti jap:
	<p>a) vetëm kur është jashtë automjetit,</p> <p>b) vetëm kur është në automjet në vendin e caktuar për polic,</p> <p>c) në automjet dhe jashtë tij, apo në vendin e caktuar për polic.</p>

3



506.	Një fishkëllim e gjatë e policit zyrtar tregon:	
	a) që dikush nga pjesmarrësit në komunikacion ka vepruar në kundërshtim me shenjën e dhënë, me rregullat në komunikacion apo me shenjën e vendosur të komunikacionit,	
	b) thirrje për pjesmarrësit në komunikacion që ti kushtojnë vëmendje policit i cili do ta jap shenjën e caktuar,	
	c) detyron vozitësit të ndalojnë.	3

507.	Fishkëllimet e shumta të shkurta nga polici zyrtar tregojnë:	
	a) thirrje për pjesmarrësit në komunikacion që ti kushtojnë vëmendje policit i cili do ta jap shenjën e caktuar,	
	b) që dikush nga pjesmarrësit në komunikacion ka vepruar në kundërshtim me shenjën e dhënë, me rregullat në komunikacion apo me shenjën e vendosur të komunikacionit,	
	c) detyron vozitësit të ndalojnë.	3

508.	Vozitësi i cili i dëgjon disa fishkëllima të shkurta që jipen nga polici zyrtar, obligohet që:	
	a) ta vëzhgoj policin zyrtar për tu bindur nëse kjo shenjë i referohet atij,	
	b) ta ndaloj automjetin,	
	c) ta shpejtoj lëvizjen e automjetit.	3

509.	Shenja ndriçuese – dritat vezulluese të kuqe dhe të kaltërt që ndizen në mënyrë alternative në automjetin nën përcjellje, për vozitësit i cili takohet me ato automjete ose arrihet nga ato automjete, tregon detyrimin që: <i>(Rretho tri përgjigje të sakta)</i>	
	a) ti lëshoj automjetet nën përcjellje, ti mundësoj anashkalim, tejkalim apo përballkalim,	
	b) të ndalet dhe lëvizjen ta vazhdoj vetëm atëherë pasi të kalojnë automjetet nën përcjellje,	
	c) sipas nevojës ta ndaloj automjetin apo ta largoj nga rruga dhe lëvizjen ta vazhdoj pasi të kalojnë automjetet nën përcjellje,	
	d) ti përmbahet me saktësi urdhërave që jep personi nga përcjellja,	
	e) ta ngadalsoj shpejtësinë duke vazhduar lëvizjen.	3

510.	Shenja ndriçuese – dy drita vezulluese apo me rotacion me ngjyrë të kaltërt në automjetin me përparsi kalimi i cili lëviz rrugës, detyron vozitësin që: <i>(Rretho tri përgjigje të sakta)</i>	
	a) ta ngadalsoj shpejtësinë dhe ta vazhdoj lëvizjen,	
	b) të ndalet dhe lëvizjen ta vazhdoj pasi kalojnë të gjithë automjetet me përparsi kalimi,	
	c) ti kushtoj vëmendje automjetit me përparsi kalimi apo automjetit i cili përcjell automjetin me përparsi kalimi,	
	d) sipas nevojës ta ndaloj automjetin apo ta largoj nga rruga deri sa ato automjete të kalojnë,	
	e) ti përmbahet me saktësi urdhërave që jep personi nga automjeti me përparsi kalimi.	3


511.	Shenja ndriçuese – një dritë vezulluese apo me rotacion me ngjyrë të kaltërt në automjetin me përparsi kalimi i cili lëviz në rrugë, tregon se vozitësi i cili e sheh dritën është i detyruar që: <i>(Rretho dy përgjigje të sakta)</i>	
	a) ta ngadalsoj shpejtësinë dhe ta vazhdoj lëvizjen,	
	b) ti kushtoj vëmendje atij automjeti duke ia mundësuar kalimin,	
	c) sipas nevojës ta ndaloj automjetin apo ta largoj nga rruga deri sa të kaloj automjeti me përparsi kalimi,	
	d) të ndalet dhe lëvizjen ta vazhdoj pasi të kalojnë të gjithë automjetet me përparsi kalimi.	3


512.	Shenja ndriçuese – një dritë vezulluese apo me rotacion me ngjyrë të kaltërt në automjetin me përparsi kalimi i cili është i ndalur në rrugë, tregon se vozitësit tjerë janë të detyruar që: <i>(Rretho tri përgjigje të sakta)</i>	
	a) ta ngadalsojnë shpejtësinë e lëvizjes së automjeteve,	
	b) sipas nevojës ti ndalojnë automjetet,	
	c) ti ndalojnë automjetet,	
	d) të veprojnë sipas urdhërave të policit zyrtar,	
	e) ta shpejtojnë lëvizjen e automjeteve.	3

513.	Shenja ndriçuese – dy drita vezulluese apo me rotacion me ngjyrë të kaltërt në automjetin me përparsi kalimi i cili është i ndalur në rrugë, tregon se vozitësit tjerë janë të detyruar që: <i>(Rretho tri përgjigje të sakta)</i>	
	a) ta ngadalsojnë shpejtësinë e lëvizjes së automjeteve,	
	b) sipas nevojës ti ndalojnë automjetet,	
	c) të veprojnë sipas urdhërave të policit zyrtar,	
	d) ti ndalojnë automjetet,	
	e) ta shpejtojnë lëvizjen e automjeteve.	3

514.	Shenja ndriçuese – drita vezulluese e kuqe dhe e kaltërt që ndizen në mënyrë alternative në automjetin nën përcjellje, vozitësi i cili takohet me ato automjete apo arrihet nga ato automjete, është i detyruar që:	
	a) ta lëshoj automjetin nën përcjellje, ti mundësoj anashkalim, tejkalimin apo përballkalim dhe sipas nevojës ta ndaloj automjetin e tij apo ta largoj nga rruga, që me përpikshmëri ti përmbahet urdhërave të personit nga përcjellja dhe lëvizjen ta vazhdoj pasi të kalojnë të gjithë automjetet nën përcjellje,	
	b) të ndalet dhe lëvizjen ta vazhdoj pasi të kalojnë të gjithë automjetet nën përcjellje,	
	c) ta ngadalsoj shpejtësinë dhe ta vazhdoj lëvizjen.	3


515.	Shenja ndriçuese në automjetin e policisë i cili është automjet me përparsi kalimi e shkruar në display(ekran) në formë të porosisë së ndryshuar, tregon që vozitësi i automjetit që lëviz prapa automjetit të policisë i cili jep këtë shenjë ndriçuese:	
	a) detyrimisht të veprojnë sipas shenjës së shkruar në formë porosie në ekran,	
	b) ta vazhdoj lëvizjen sipas rekomandimit.	3

516.	Në situatën e paraqitur në foto kur automjeti i policisë është i ndaluar jeni të detyruar që: (Rretho tri përgjigje të sakta)	
	<ul style="list-style-type: none"> a) ta ngadalsoni shpejtësinë e lëvizjes së automjetit, b) ta ndaloni automjetin, c) sipas nevojës ta ndaloni automjetin, d) të veproni sipas urdhërave të policit zyrtar, e) ta shpejtoni lëvizjen e automjetit. 	3

519.	Në situatën e paraqitur në foto kur polici zyrtar jep shenja ndriçuese me anë të baterisë së dorës e cila vazhdimisht imiton dritën e kuqe duke e lëvizur posht – lart, jeni të detyruar që:	
	<ul style="list-style-type: none"> a) ta ndaloni automjetin tuaj, b) ta ngadalsoni shpejtësinë e lëvizjes së automjetit, përkatsisht të lëvizni me kujdesshmëri të lartë, c) ta shpejtoni lëvizjen e automjetit. 	3

517.	Shenjën ndriçuese e cila jipet nga polici zyrtar me anë të baterisë së dorës e cila imiton dritën e kuqe të vazhdueshme të cilën e lëviz vertikalisht përgjatë rrugës, e detyron vozitësin që lëviz rrugës ku jipet ajo shenjë që:	
	<ul style="list-style-type: none"> a) ta ndaloj automjetin në mënyrë të sigurt në rrugë, ndërsa sipas nevojës jasht rrugës pikërisht para policit zyrtar i cili jep atë shenjë, b) ta ngadalsoj shpejtësinë e lëvizjes së automjetit, c) ta shpejtoj lëvizjen e automjetit. 	3


520.	Kur automjeti nën përcellje apo automjeti me përparsi kalimi jep shenjën ndriçuese të paralajmërimit (me ndezjen e dritave të gjata pa ndërprerë ose me ndërprerje) vozitësi i automjetit i cili lëviz para automjetit të policisë i cili jep shenjën, është i detyruar që:	
	<ul style="list-style-type: none"> a) menjëherë ta ndaloj automjetin e tij buzë vijës së djatht të rrugës dhe sipas mundësisë jasht rrugës, b) ti mundësoj tejkalimin automjetit të policisë, c) ta ngadalsoj shpejtësinë e lëvizjes së automjetit. 	3

518.	Shenjën ndriçuese e cila jipet nga polici zyrtarë me anë të baterisë së dorës e cila imiton dritën e kuqe të vazhdueshme të cilën e lëviz vertikalisht përgjatë rrugës, jeni të detyruar që:	
	<ul style="list-style-type: none"> a) ta ndaloj automjetin në mënyrë të sigurt në rrugë, ndërsa sipas nevojës jasht rrugës pikërisht para policit zyrtar i cili jep atë shenjë, b) ta ngadalsoj shpejtësinë e lëvizjes së automjetit, c) ta shpejtoj lëvizjen e automjetit. 	3

521.	Shenja ndriçuese në veturën e policisë e paraqitur në foto tregon:	
	<ul style="list-style-type: none"> a) se jeni të detyruar ta ngadalsoni shpejtësinë vetëm në rastin kur e keni tejkaluar shpejtësinë e lejuar, b) rekomandimin për lëvizje të sigurt, c) se jeni të detyruar ta ngadalsoni shpejtësinë, përkatsisht të lëvizni me shpejtësinë e lëvizjes së veturës së policisë deri sa nuk ndrohet shenja. 	3




522. Shenja ndriçuese në veturën e policisë e paraqitur në foto tregon:



a) nuk jeni të detyruar të ndaloni prapa veturës së policisë nëse gjatë lëvizjes nuk keni bërë kundërvajtje,
 b) jeni të detyruar të veproni sipas shenjës vetëm kur përpos asaj shenje edhe polici zyrtar nga vetura e policisë jep shenjën për ndalim „tabelën stop”,
 c) jeni të obliguar të ndaloni automjetin pas veturës së policisë.

3


524. Shenja ndriçuese në veturën e policisë e paraqitur në foto tregon:



a) jeni të detyruar ta ndaloni automjetin para veturës së policisë,
 b) nuk jeni të detyruar të ndaloni nëse gjatë lëvizjes nuk keni kryer kundërvajtje,
 c) jeni të detyruar të veproni sipas shenjës vetëm kur përpos asaj shenje edhe polici zyrtar nga vetura e policisë jep shenjën për ndalim „tabelën stop“.

3

523. Shenja ndriçuese në veturën e policisë në foto tregon:



a) jeni të detyruar të lëvizni pas veturës së policisë nëse gjatë lëvizjes keni kryer kundërvajtje,
 b) jeni të detyruar të lëvizni pas veturës së policisë deri sa të ndrrohet shenja,
 c) rekomandim për lëvizje të sigurt.

3

